

## L'espérance de vie.

L'espérance de vie est l'âge que la majorité des habitants d'un pays auront quand ils vont mourir.

### I - L'espérance de vie en France.

#### **Évolution de l'espérance de vie en France**

	<i>Hommes</i>	<i>Femmes</i>
<b>2003</b>	76 ans	84 ans
<b>1992</b>	73 ans	81 ans
<b>1988</b>	72,3 ans	80,6 ans
<b>1984</b>	71,3 ans	79,5 ans
<b>1977</b>	69,7 ans	77,8 ans
<b>1970</b>	67,7 ans	75,2 ans
<b>1960</b>	67,2 ans	74,3 ans
<b>1938</b>	55,9 ans	61,6 ans
<b>1913</b>	48,5 ans	52,4 ans
<b>1865</b>	39,1 ans	40,6 ans
<b>1829</b>	38,3 ans	39,3 ans
<b>1789</b>	27,5 ans	28,1 ans

Quelle était l'espérance de vie des hommes en 1960 ?

L'espérance de vie des hommes, en 1960, était de ..... ans.

Quelle était l'espérance de vie des femmes en 1984 ?

L'espérance de vie des hommes, en 1984, était de ..... ans.

Comparons l'espérance de vie des hommes et celle des femmes.

Entoure le nombre qui est le plus grand.

En 1913

Espérance de vie des hommes		Espérance de vie des femmes

En 1984

Espérance de vie des hommes		Espérance de vie des femmes

En 2003

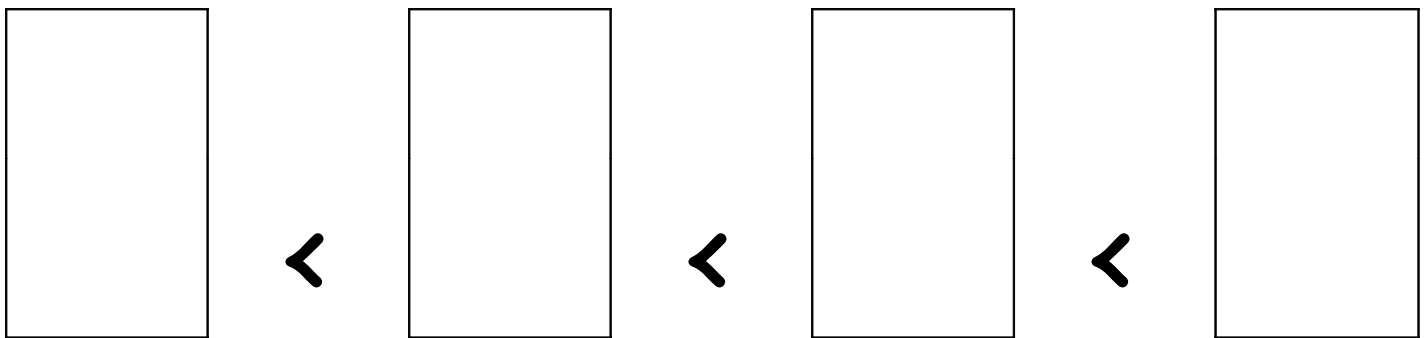
Espérance de vie des hommes		Espérance de vie des femmes

Qui a la plus grande espérance de vie ?

Coche la bonne réponse :

- Ce sont les hommes qui ont la plus grande espérance de vie.
- Ce sont les femmes qui ont la plus grande espérance de vie.

Classe les étiquettes des espérances de vie de la plus petite à la plus grande.



Quelle est l'année où l'espérance de vie est la plus grande ?

C'est en ..... que l'espérance de vie est la plus grande.

Plus le temps avance, plus l'espérance de vie est élevée, plus les personnes d'un pays vivent vieilles.

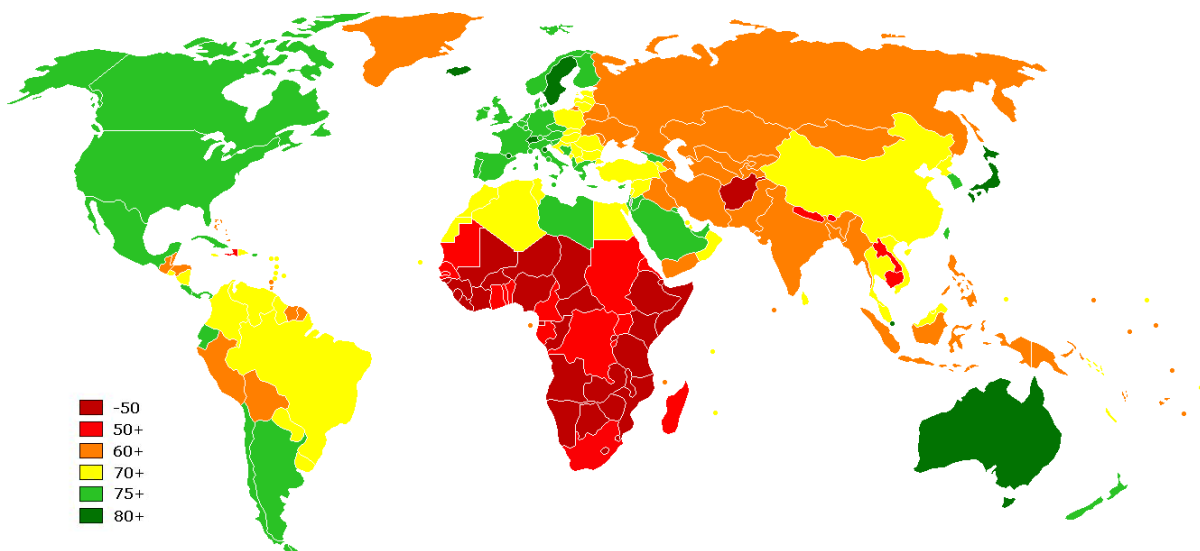
2003	1789	1977	1865
84 ans	28 ans	78 ans	40 ans

## II - L'espérance de vie dans le monde.

Sur cette carte, la couleur du pays indique l'espérance de vie des habitants.

Dans les pays verts, on vit très vieux. Dans les pays rouges, l'espérance de vie est faible, on meurt jeune.

Fais un point bleu sur la France.

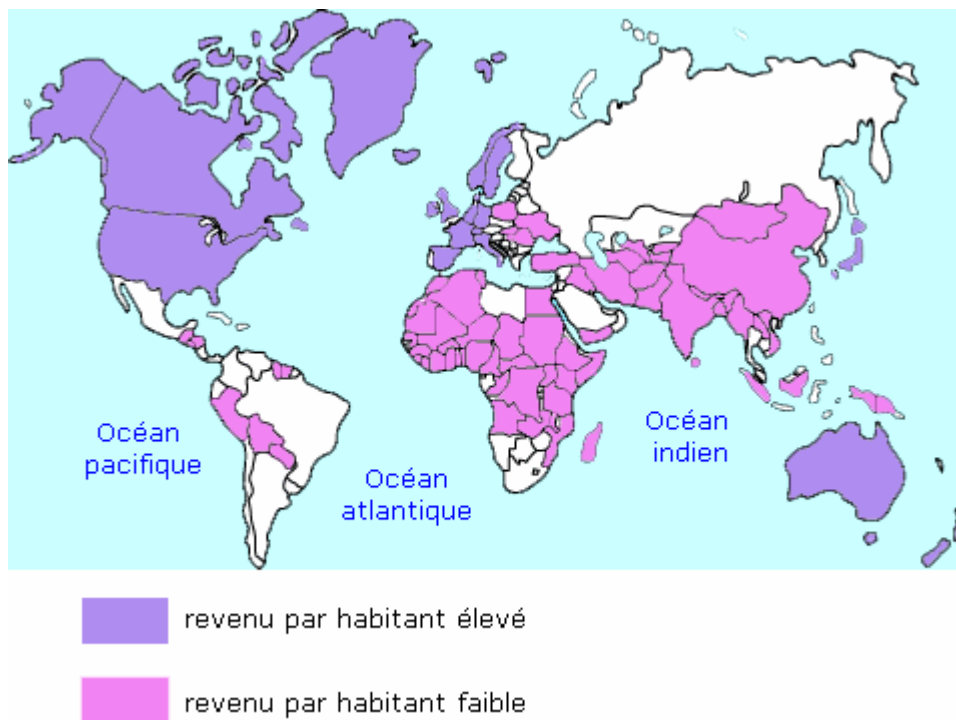


Comment est l'espérance de vie en France ?

Coche la bonne réponse :

- En France, l'espérance de vie est élevée. On est assez vieux quand on meurt.
- En France, l'espérance de vie est faible. On meurt jeune.

Compare la carte du monde de l'espérance de vie à la carte du monde des pays riches et des pays pauvres.



Entoure la bonne réponse dans le tableau en regardant les deux cartes :

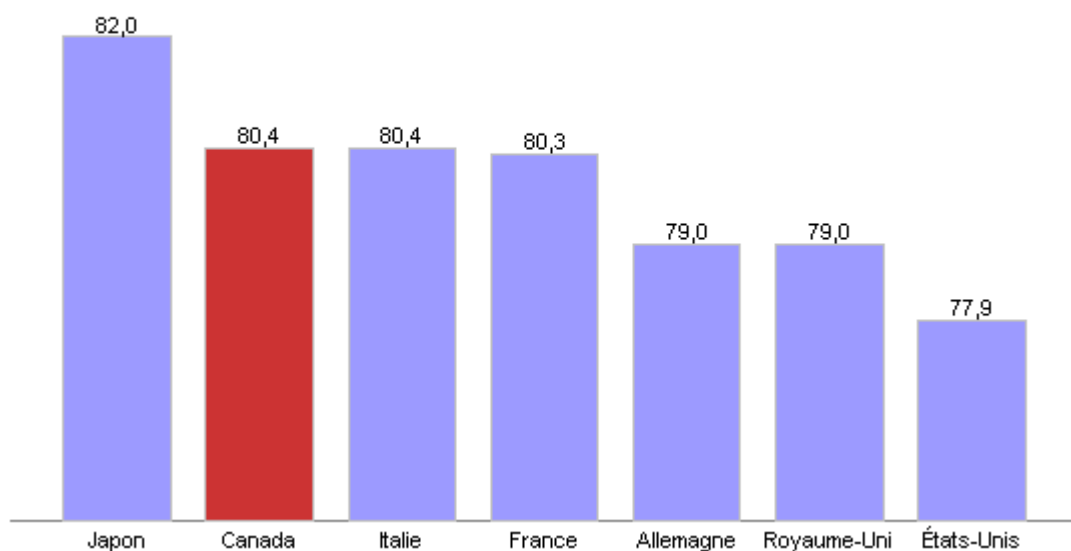
	L'Amérique du nord	L'Afrique
Couleur pour l'espérance de vie	<p><b>Meurt vieux</b></p> <p><b>Meurt jeune</b></p>	<p><b>Meurt vieux</b></p> <p><b>Meurt jeune</b></p>
Couleur pour la richesse du pays	<p><b>Pays riche</b></p> <p><b>Pays pauvre</b></p>	<p><b>Pays riche</b></p> <p><b>Pays pauvre</b></p>

Donc, dans les **pays riches**, on meurt ..... ; on dit donc que l'espérance de vie est .....

Donc, dans les **pays pauvres**, on meurt ..... ; on dit donc

que l'espérance de vie est .....

Espérance de vie à la naissance, pays du G7, 2005  
(en années)



Sur ce schéma, quel est le nom du pays qui a la plus grande espérance de vie ?

C'est le ..... qui a la plus grande espérance de vie.