

Les fractions

Indique par une fraction, ce que représente chaque partie colorée.

1. C'est une fraction de la famille des



Coloré en vert : _____

Coloré en rose : _____

Coloré en jaune : _____

Coloré en bleu : _____

2. C'est une fraction de la famille des




Coloré en vert : _____

Coloré en rose : _____

Coloré en jaune : _____

Coloré en bleu : _____

3. C'est une fraction de la famille des



Coloré en vert : _____

Coloré en rose : _____

Coloré en jaune : _____

Coloré en bleu : _____

Les fractions

Indique par une fraction, ce que représente chaque partie colorée.

1. C'est une fraction de la famille des



Coloré en vert : _____

Coloré en rose : _____

Coloré en jaune : _____

Coloré en bleu : _____

2. C'est une fraction de la famille des



Coloré en vert : _____

Coloré en rose : _____

Coloré en jaune : _____

Coloré en bleu : _____

3. C'est une fraction de la famille des



Coloré en vert : _____

Coloré en rose : _____

Coloré en jaune : _____

Coloré en bleu : _____

Les fractions

Indique par une fraction, ce que représente chaque partie colorée.

1. C'est une fraction de la famille des




Coloré en vert : _____

Coloré en rose : _____

Coloré en jaune : _____

Coloré en bleu : _____

2. C'est une fraction de la famille des



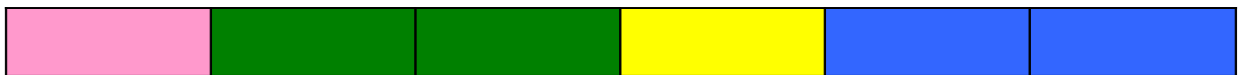
Coloré en vert : _____

Coloré en rose : _____

Coloré en jaune : _____

Coloré en bleu : _____

3. C'est une fraction de la famille des



Coloré en vert : _____

Coloré en rose : _____

Coloré en jaune : _____

Coloré en bleu : _____

Les fractions

Indique par une fraction, ce que représente chaque partie colorée.

1. C'est une fraction de la famille des



Coloré en vert : _____

Coloré en rose : _____

Coloré en jaune : _____

Coloré en bleu : _____

2. C'est une fraction de la famille des




Coloré en vert : _____

Coloré en rose : _____

Coloré en jaune : _____

Coloré en bleu : _____

3. C'est une fraction de la famille des



Coloré en vert : _____

Coloré en rose : _____

Coloré en jaune : _____

Coloré en bleu : _____

Les fractions

Indique par une fraction, ce que représente chaque partie colorée.

1. C'est une fraction de la famille des



Coloré en vert : _____

Coloré en rose : _____

Coloré en jaune : _____

Coloré en bleu : _____

2. C'est une fraction de la famille des




Coloré en vert : _____

Coloré en rose : _____

Coloré en jaune : _____

Coloré en bleu : _____

3. C'est une fraction de la famille des



Coloré en vert : _____

Coloré en rose : _____

Coloré en jaune : _____

Coloré en bleu : _____

Les fractions

Indique par une fraction, ce que représente chaque partie colorée.

1. C'est une fraction de la famille des



Coloré en vert : _____

Coloré en rose : _____

Coloré en jaune : _____

Coloré en bleu : _____

2. C'est une fraction de la famille des




Coloré en vert : _____

Coloré en rose : _____

Coloré en jaune : _____

Coloré en bleu : _____

3. C'est une fraction de la famille des



Coloré en vert : _____

Coloré en rose : _____

Coloré en jaune : _____

Coloré en bleu : _____

Les fractions

Indique par une fraction, ce que représente chaque partie colorée.

1. C'est une fraction de la famille des




Coloré en vert : _____

Coloré en rose : _____

Coloré en jaune : _____

Coloré en bleu : _____

2. C'est une fraction de la famille des



Coloré en vert : _____

Coloré en rose : _____

Coloré en jaune : _____

Coloré en bleu : _____

3. C'est une fraction de la famille des



Coloré en vert : _____

Coloré en rose : _____

Coloré en jaune : _____

Coloré en bleu : _____

Les fractions

Indique par une fraction, ce que représente chaque partie colorée.

1. C'est une fraction de la famille des



Coloré en vert : _____

Coloré en rose : _____

Coloré en jaune : _____

Coloré en bleu : _____

2. C'est une fraction de la famille des



Coloré en vert : _____

Coloré en rose : _____

Coloré en jaune : _____

Coloré en bleu : _____

3. C'est une fraction de la famille des



Coloré en vert : _____

Coloré en rose : _____

Coloré en jaune : _____

Coloré en bleu : _____

Les fractions

Indique par une fraction, ce que représente chaque partie colorée.

1. C'est une fraction de la famille des



Coloré en vert : _____

Coloré en rose : _____

Coloré en jaune : _____

Coloré en bleu : _____

2. C'est une fraction de la famille des



Coloré en vert : _____

Coloré en rose : _____

Coloré en jaune : _____

Coloré en bleu : _____

3. C'est une fraction de la famille des



Coloré en vert : _____

Coloré en rose : _____

Coloré en jaune : _____

Coloré en bleu : _____

Les fractions

Indique par une fraction, ce que représente chaque partie colorée.

1. C'est une fraction de la famille des




Coloré en vert : _____

Coloré en rose : _____

Coloré en jaune : _____

Coloré en bleu : _____

2. C'est une fraction de la famille des



Coloré en vert : _____

Coloré en rose : _____

Coloré en jaune : _____

Coloré en bleu : _____

3. C'est une fraction de la famille des



Coloré en vert : _____

Coloré en rose : _____

Coloré en jaune : _____

Coloré en bleu : _____

Les fractions

Indique par une fraction, ce que représente chaque partie colorée.

1. C'est une fraction de la famille des



Coloré en vert : _____

Coloré en rose : _____

Coloré en jaune : _____

Coloré en bleu : _____

2. C'est une fraction de la famille des



Coloré en vert : _____

Coloré en rose : _____

Coloré en jaune : _____

Coloré en bleu : _____

3. C'est une fraction de la famille des



Coloré en vert : _____

Coloré en rose : _____

Coloré en jaune : _____

Coloré en bleu : _____

Les fractions

Indique par une fraction, ce que représente chaque partie colorée.

1. C'est une fraction de la famille des



Coloré en vert : _____

Coloré en rose : _____

Coloré en jaune : _____

Coloré en bleu : _____

2. C'est une fraction de la famille des



Coloré en vert : _____

Coloré en rose : _____

Coloré en jaune : _____

Coloré en bleu : _____

3. C'est une fraction de la famille des



Coloré en vert : _____

Coloré en rose : _____

Coloré en jaune : _____

Coloré en bleu : _____

Les fractions

Indique par une fraction, ce que représente chaque partie colorée.

1. C'est une fraction de la famille des



Coloré en vert : _____

Coloré en rose : _____

Coloré en jaune : _____

Coloré en bleu : _____

2. C'est une fraction de la famille des



Coloré en vert : _____

Coloré en rose : _____

Coloré en jaune : _____

Coloré en bleu : _____

3. C'est une fraction de la famille des



Coloré en vert : _____

Coloré en rose : _____

Coloré en jaune : _____

Coloré en bleu : _____

Les fractions

Indique par une fraction, ce que représente chaque partie colorée.

1. C'est une fraction de la famille des



Coloré en vert : _____

Coloré en rose : _____

Coloré en jaune : _____

Coloré en bleu : _____

2. C'est une fraction de la famille des



Coloré en vert : _____

Coloré en rose : _____

Coloré en jaune : _____

Coloré en bleu : _____

3. C'est une fraction de la famille des



Coloré en vert : _____

Coloré en rose : _____

Coloré en jaune : _____

Coloré en bleu : _____