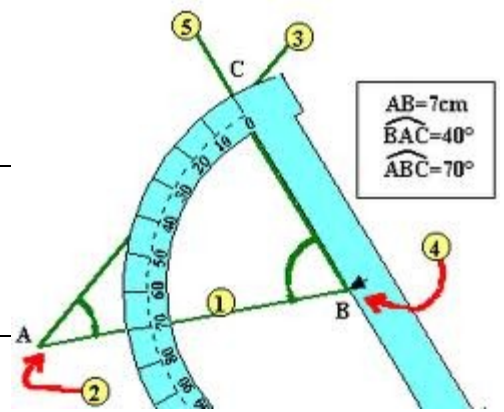


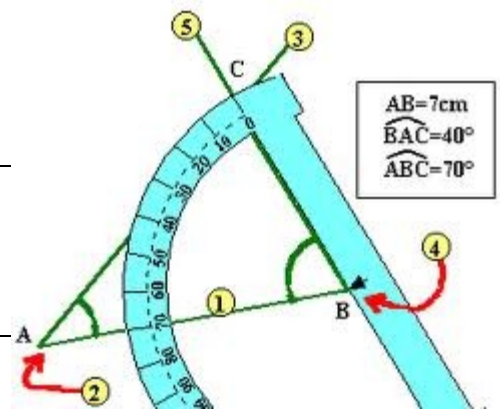
Tracer des angles Pour tracer un triangle



Construire un triangle RST tel que

- tracer un segment RT = 3 cm
- tracer la demi-droite tel que l'angle RTS = 100°
- tracer la demi-droite tel que l'angle TRS = 45°

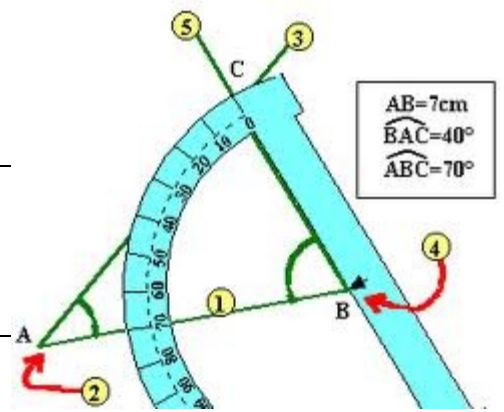
Tracer des angles Pour tracer un triangle



Construire un triangle RST tel que

- tracer un segment RT = 6 cm
- tracer la demi-droite tel que l'angle RTS = 50°
- tracer la demi-droite tel que l'angle TRS = 90°

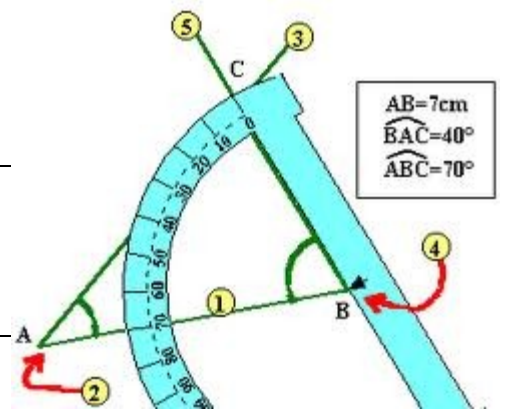
Tracer des angles Pour tracer un triangle



Construire un triangle RST tel que

- tracer un segment RT = 10 cm
- tracer la demi-droite tel que l'angle RTS = 70°
- tracer la demi-droite tel que l'angle TRS = 30°

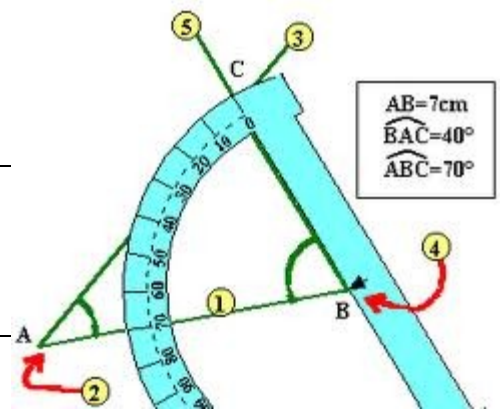
Tracer des angles Pour tracer un triangle



Construire un triangle RST tel que

- tracer un segment RT = 4 cm
- tracer la demi-droite tel que l'angle RTS = 120°
- tracer la demi-droite tel que l'angle TRS = 30°

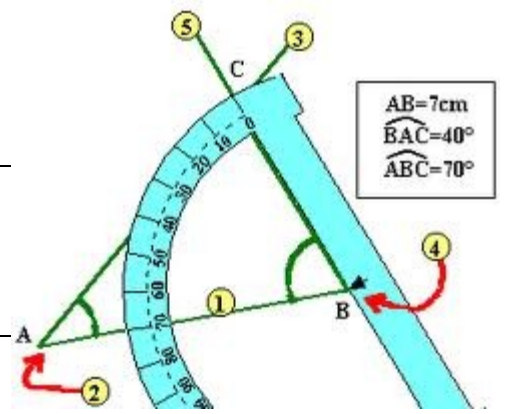
Tracer des angles Pour tracer un triangle



Construire un triangle RST tel que

- tracer un segment RT = 9 cm
- tracer la demi-droite tel que l'angle RTS = 80°
- tracer la demi-droite tel que l'angle TRS = 40°

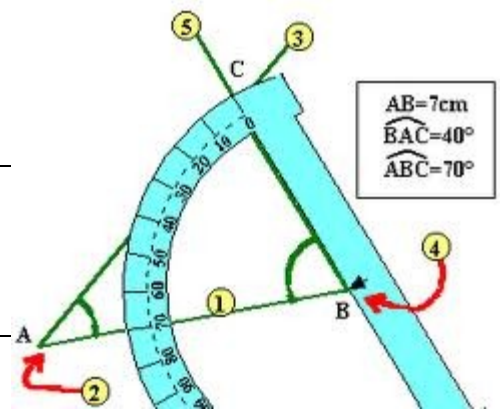
Tracer des angles Pour tracer un triangle



Construire un triangle RST tel que

- tracer un segment RT = 6 cm
- tracer la demi-droite tel que l'angle RTS = 120°
- tracer la demi-droite tel que l'angle TRS = 20°

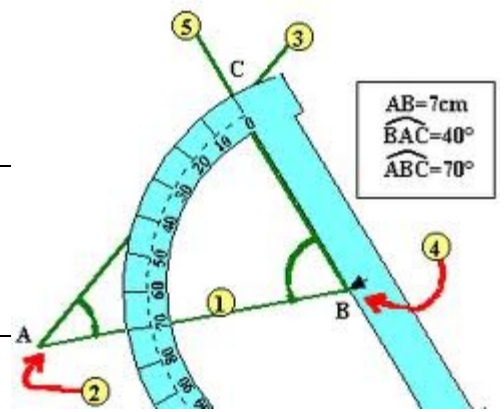
Tracer des angles Pour tracer un triangle



Construire un triangle RST tel que

- tracer un segment RT = 5 cm
- tracer la demi-droite tel que l'angle RTS = 70°
- tracer la demi-droite tel que l'angle TRS = 60°

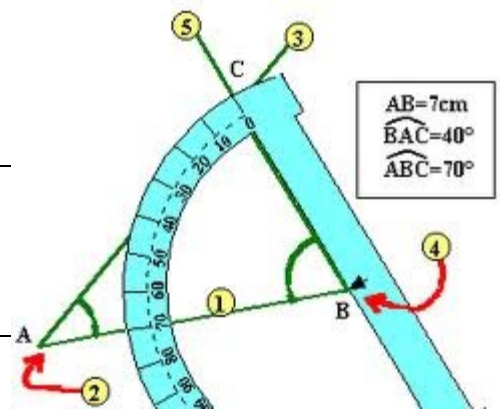
Tracer des angles Pour tracer un triangle



Construire un triangle RST tel que

- tracer un segment RT = 4 cm
- tracer la demi-droite tel que l'angle RTS = 70°
- tracer la demi-droite tel que l'angle TRS = 50°

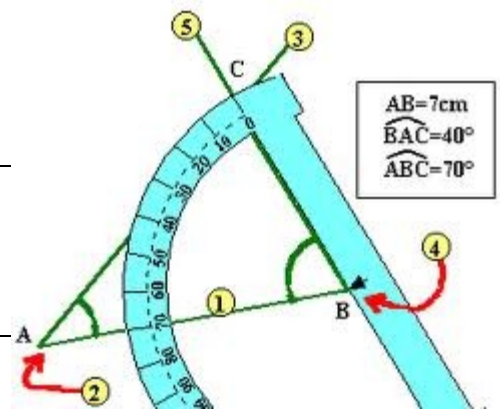
Tracer des angles Pour tracer un triangle



Construire un triangle RST tel que

- tracer un segment RT = 8 cm
- tracer la demi-droite tel que l'angle RTS = 40°
- tracer la demi-droite tel que l'angle TRS = 80°

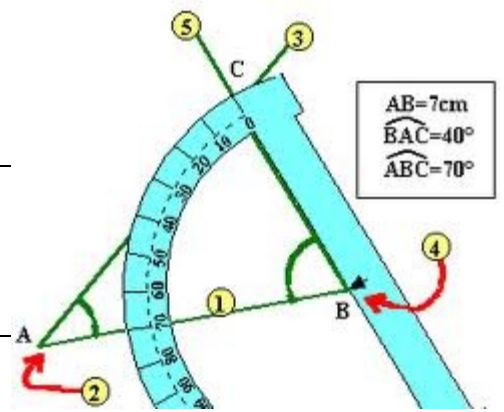
Tracer des angles Pour tracer un triangle



Construire un triangle RST tel que

- tracer un segment RT = 5 cm
- tracer la demi-droite tel que l'angle RTS = 120°
- tracer la demi-droite tel que l'angle TRS = 30°

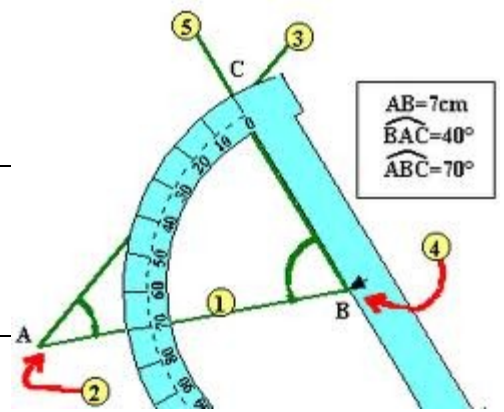
Tracer des angles Pour tracer un triangle



Construire un triangle RST tel que

- tracer un segment RT = 10 cm
- tracer la demi-droite tel que l'angle RTS = 20°
- tracer la demi-droite tel que l'angle TRS = 120°

Tracer des angles Pour tracer un triangle



Construire un triangle RST tel que

- tracer un segment RT = 7cm
- tracer la demi-droite tel que l'angle RTS = 90°
- tracer la demi-droite tel que l'angle TRS = 40°