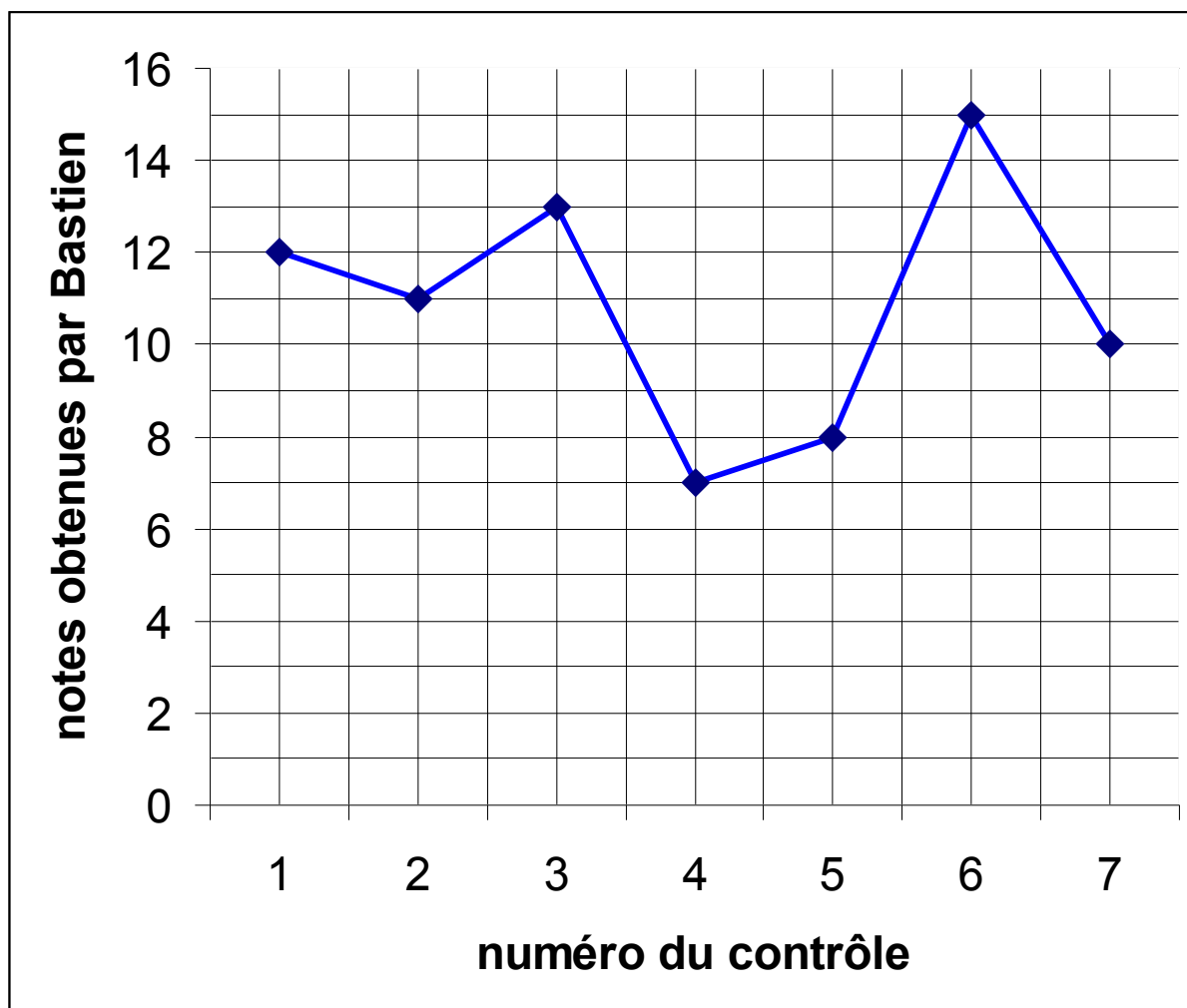
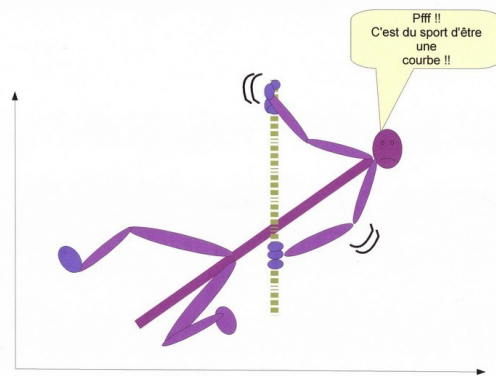


Lire une courbe

Voici une courbe qui représente les notes qu'a eues Bastien au cours des 7 contrôles de maths du trimestre.



1. Quelle note a eu Bastien au contrôle n° 5 ?

Au contrôle n°5, Bastien a eu

2. Quelle note a eu Bastien au contrôle n° 2 ?

Au contrôle n°2, Bastien a eu

3. Quelle note a eu Bastien au contrôle n° 7 ?

Au contrôle n°7, Bastien a eu

4. A quel contrôle, Bastien a-t-il eu 13 ?

Bastien a eu 13 au contrôle n°

5. A quel contrôle, Bastien a-t-il eu 15 ?

Bastien a eu 15 au contrôle n°

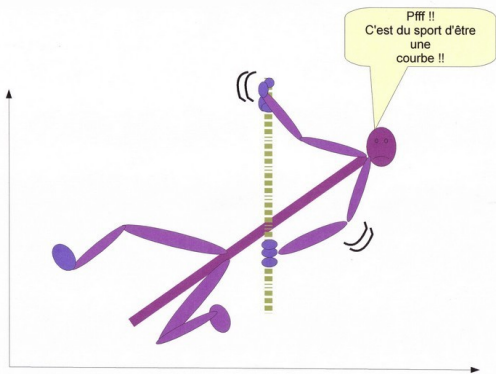
6. Quelle est la note la plus basse qu'a eu Bastien ?

La note la plus basse qu'ait eue Bastien est

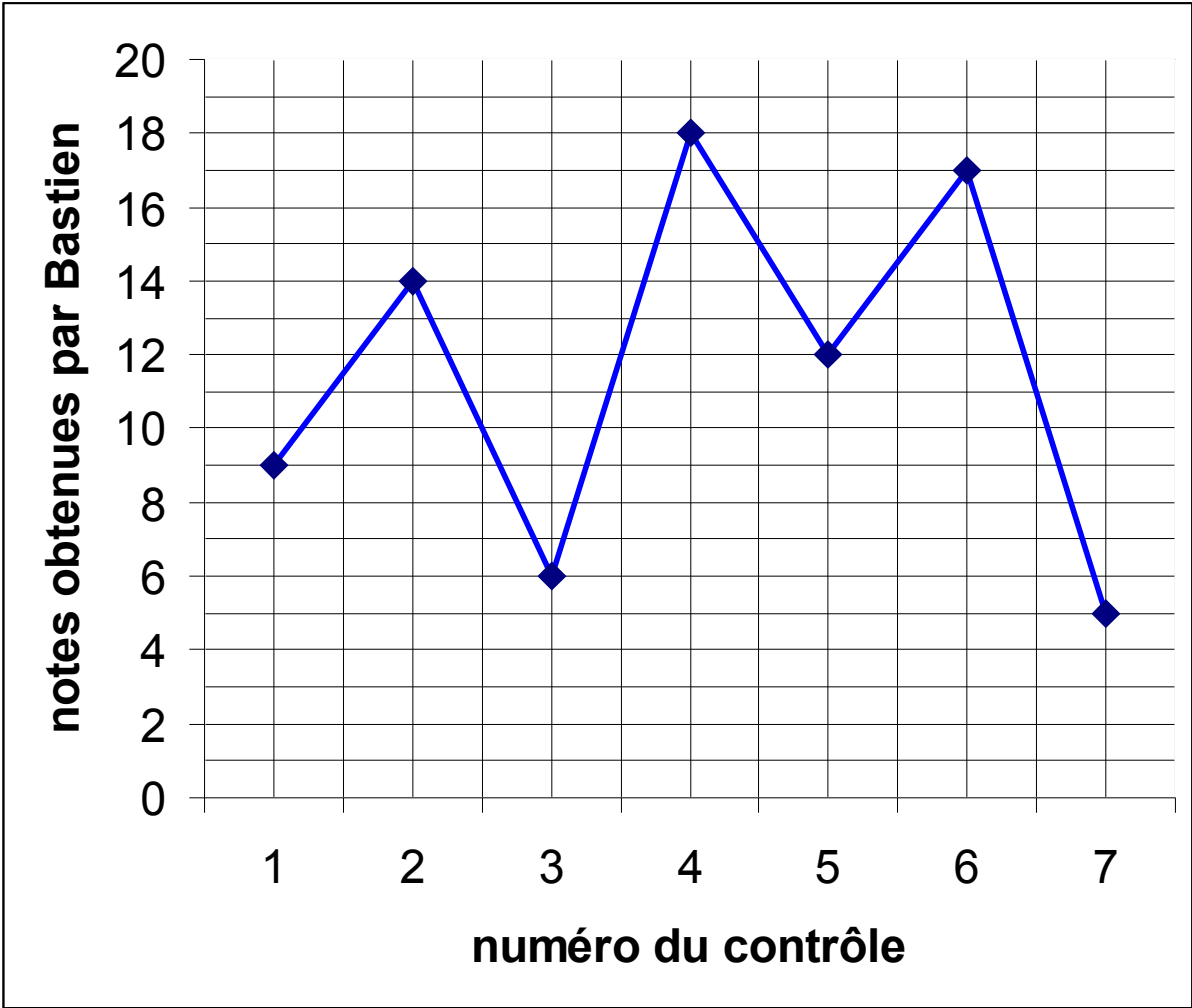
7. Quelle est la note la plus haute qu'a eu Bastien ?

La note la plus haute qu'ait eue Bastien est

Lire une courbe



Voici une courbe qui représente les notes qu'a eues Bastien au cours des 7 contrôles de maths du trimestre.



1. Quelle note a eu Bastien au contrôle n° 1 ?

Au contrôle n°1, Bastien a eu

2. Quelle note a eu Bastien au contrôle n° 6 ?

Au contrôle n°6, Bastien a eu

3. Quelle note a eu Bastien au contrôle n° 3 ?

Au contrôle n°3, Bastien a eu

4. A quel contrôle, Bastien a-t-il eu 6 ?

Bastien a eu 6 au contrôle n°

5. A quel contrôle, Bastien a-t-il eu 14 ?

Bastien a eu 14 au contrôle n°

6. Quelle est la note la plus basse qu'a eu Bastien ?

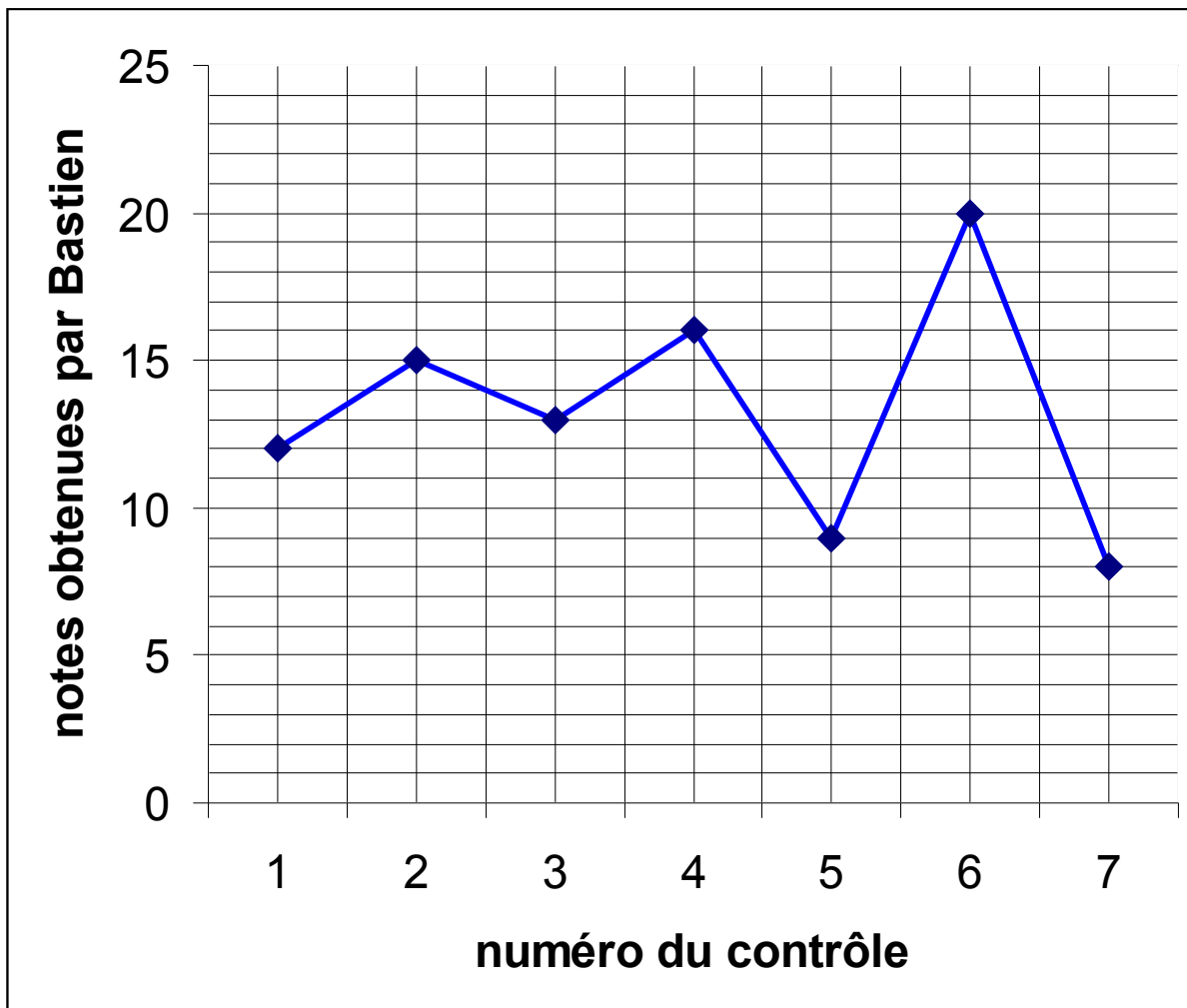
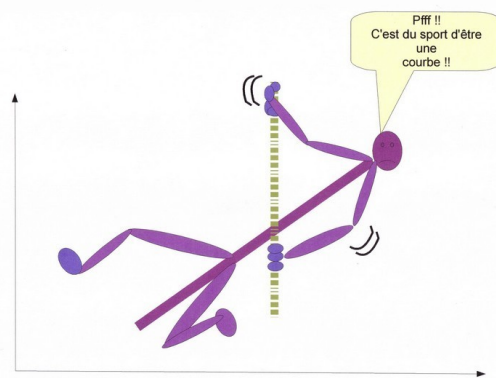
La note la plus basse qu'ait eue Bastien est

7. Quelle est la note la plus haute qu'a eu Bastien ?

La note la plus haute qu'ait eue Bastien est

Lire une courbe

Voici une courbe qui représente les notes qu'a eues Bastien au cours des 7 contrôles de maths du trimestre.



1. Quelle note a eu Bastien au contrôle n° 3 ?

Au contrôle n°3, Bastien a eu

2. Quelle note a eu Bastien au contrôle n° 1 ?

Au contrôle n°1, Bastien a eu

3. Quelle note a eu Bastien au contrôle n° 7 ?

Au contrôle n°7, Bastien a eu

4. A quel contrôle, Bastien a-t-il eu 16 ?

Bastien a eu 16 au contrôle n°

5. A quel contrôle, Bastien a-t-il eu 9 ?

Bastien a eu 9 au contrôle n°

6. Quelle est la note la plus basse qu'a eu Bastien ?

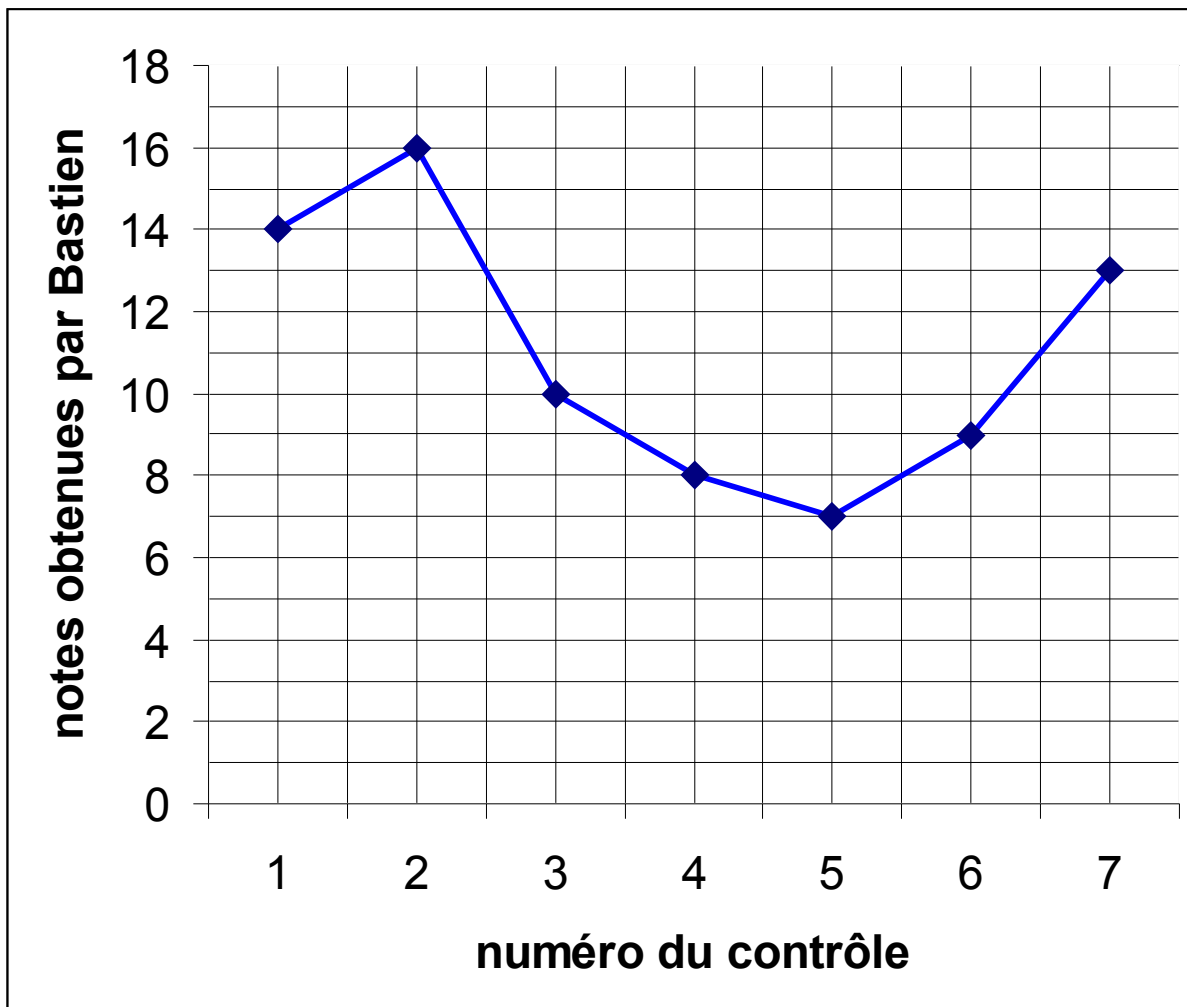
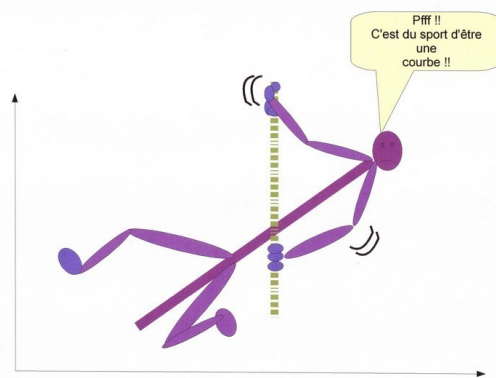
La note la plus basse qu'ait eue Bastien est

7. Quelle est la note la plus haute qu'a eu Bastien ?

La note la plus haute qu'ait eue Bastien est

Lire une courbe

Voici une courbe qui représente les notes qu'a eues Bastien au cours des 7 contrôles de maths du trimestre.



1. Quelle note a eu Bastien au contrôle n° 2 ?

Au contrôle n°2, Bastien a eu

2. Quelle note a eu Bastien au contrôle n° 5 ?

Au contrôle n°5, Bastien a eu

3. Quelle note a eu Bastien au contrôle n° 4 ?

Au contrôle n°4, Bastien a eu

4. A quel contrôle, Bastien a-t-il eu 9 ?

Bastien a eu 9 au contrôle n°

5. A quel contrôle, Bastien a-t-il eu 13 ?

Bastien a eu 13 au contrôle n°

6. Quelle est la note la plus basse qu'a eu Bastien ?

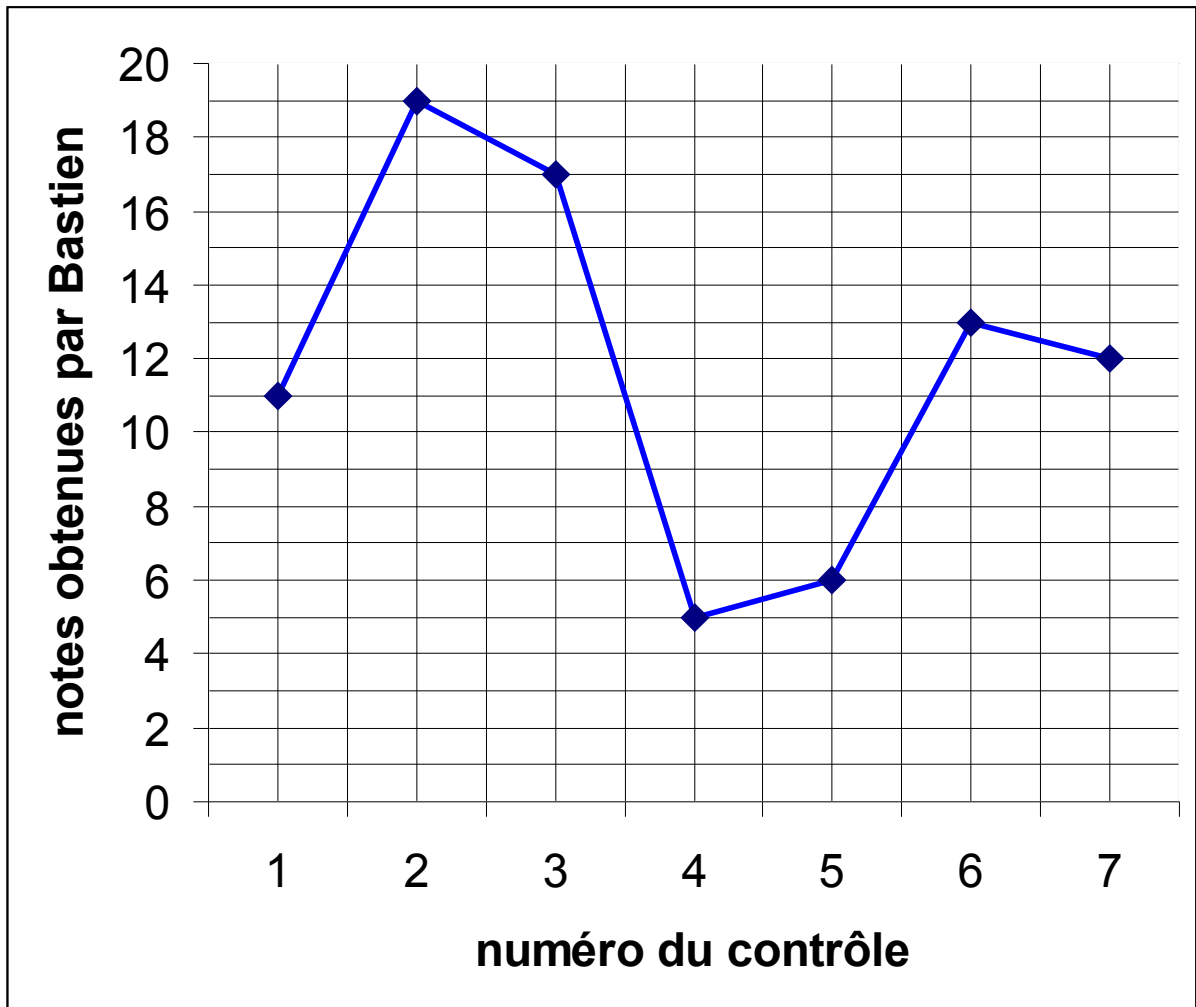
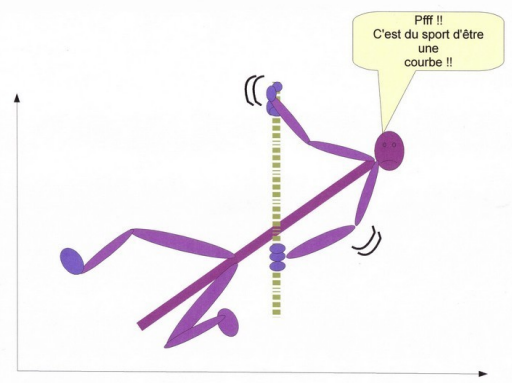
La note la plus basse qu'ait eue Bastien est

7. Quelle est la note la plus haute qu'a eu Bastien ?

La note la plus haute qu'ait eue Bastien est

Lire une courbe

Voici une courbe qui représente les notes qu'a eues Bastien au cours des 7 contrôles de maths du trimestre.



1. Quelle note a eu Bastien au contrôle n° 6 ?

Au contrôle n°6, Bastien a eu

2. Quelle note a eu Bastien au contrôle n° 2 ?

Au contrôle n°2, Bastien a eu

3. Quelle note a eu Bastien au contrôle n° 7 ?

Au contrôle n°7, Bastien a eu

4. A quel contrôle, Bastien a-t-il eu 17 ?

Bastien a eu 17 au contrôle n°

5. A quel contrôle, Bastien a-t-il eu 11 ?

Bastien a eu 11 au contrôle n°

6. Quelle est la note la plus basse qu'a eu Bastien ?

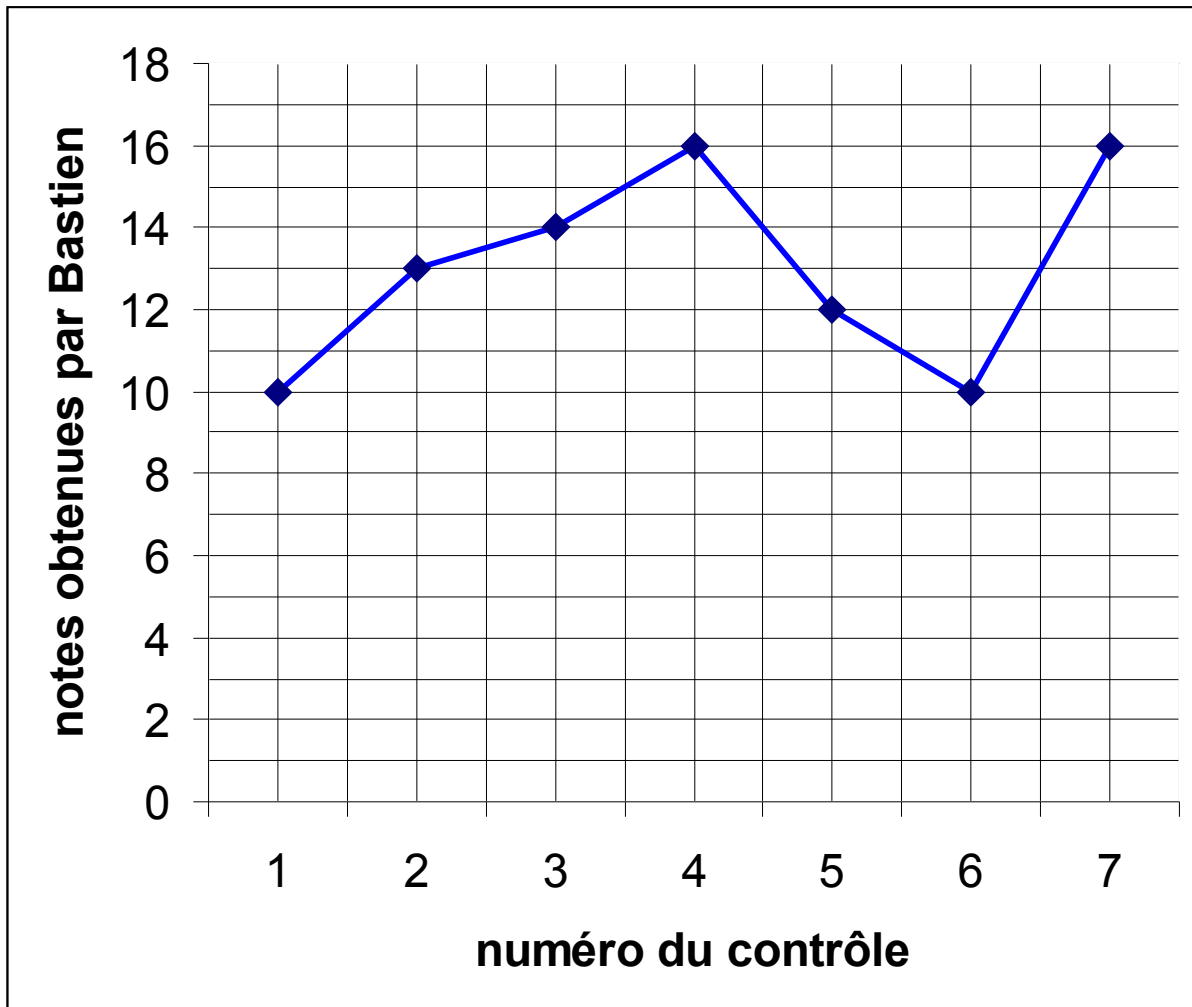
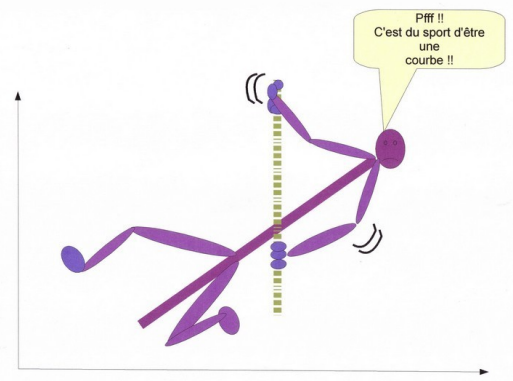
La note la plus basse qu'ait eue Bastien est

7. Quelle est la note la plus haute qu'a eu Bastien ?

La note la plus haute qu'ait eue Bastien est

Lire une courbe

Voici une courbe qui représente les notes qu'a eues Bastien au cours des 7 contrôles de maths du trimestre.



1. Quelle note a eu Bastien au contrôle n° 1 ?

Au contrôle n°1, Bastien a eu

2. Quelle note a eu Bastien au contrôle n° 4 ?

Au contrôle n°4, Bastien a eu

3. Quelle note a eu Bastien au contrôle n° 3 ?

Au contrôle n°3, Bastien a eu

4. A quel contrôle, Bastien a-t-il eu 12 ?

Bastien a eu 12 au contrôle n°

5. A quel contrôle, Bastien a-t-il eu 14 ?

Bastien a eu 14 au contrôle n°

6. Quelle est la note la plus basse qu'a eu Bastien ?

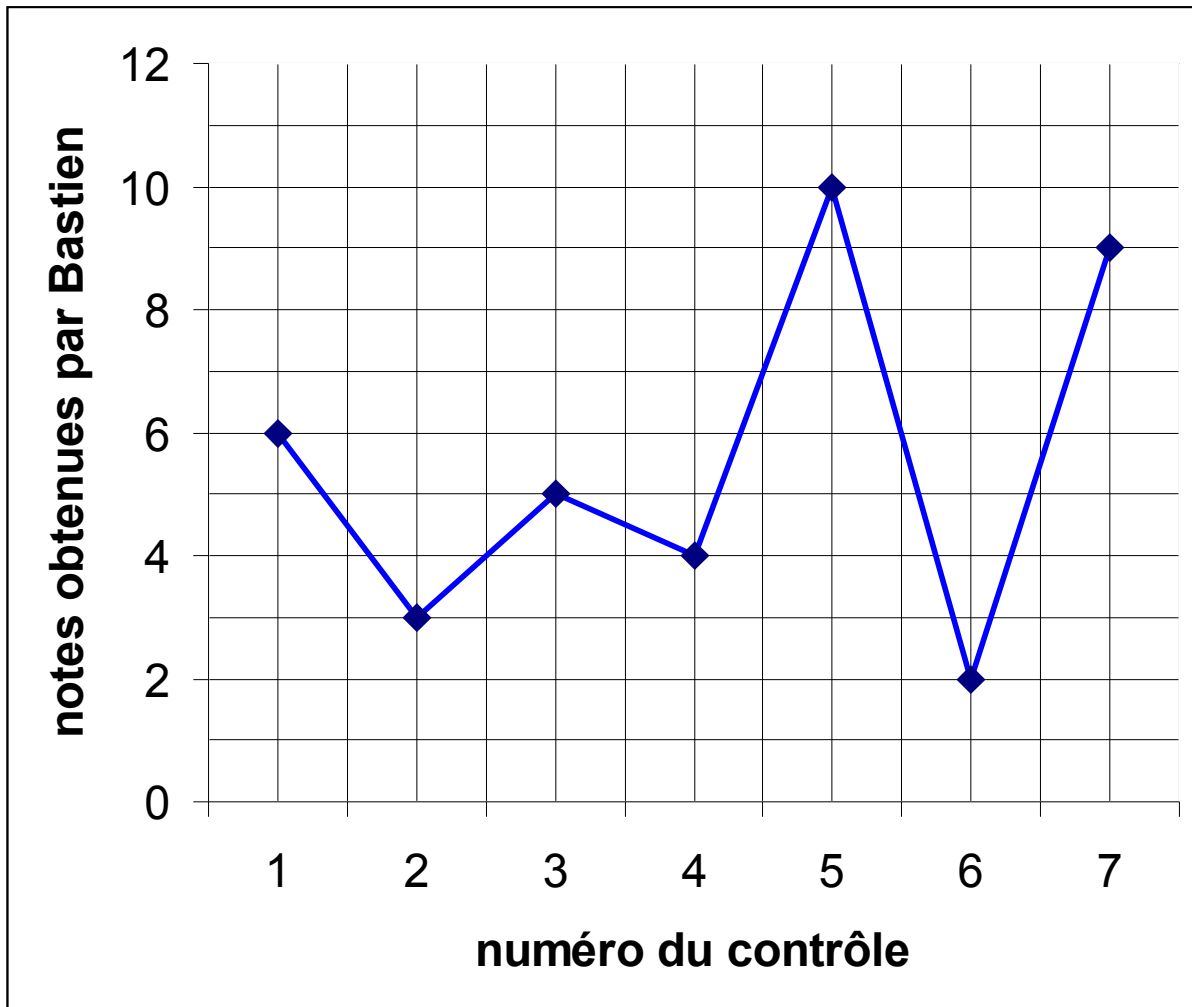
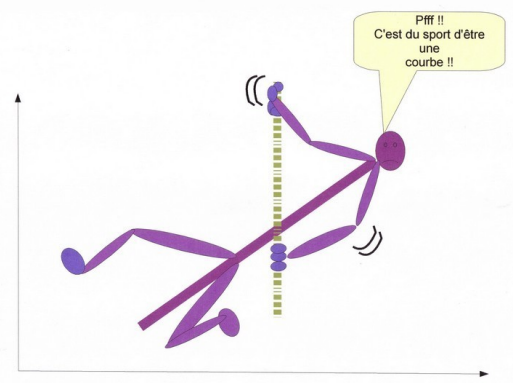
La note la plus basse qu'ait eue Bastien est

7. Quelle est la note la plus haute qu'a eu Bastien ?

La note la plus haute qu'ait eue Bastien est

Lire une courbe

Voici une courbe qui représente les notes qu'a eues Bastien au cours des 7 contrôles de maths du trimestre.



1. Quelle note a eu Bastien au contrôle n° 6 ?

Au contrôle n°6, Bastien a eu

2. Quelle note a eu Bastien au contrôle n° 5 ?

Au contrôle n°5, Bastien a eu

3. Quelle note a eu Bastien au contrôle n° 7 ?

Au contrôle n°7, Bastien a eu

4. A quel contrôle, Bastien a-t-il eu 5 ?

Bastien a eu 5 au contrôle n°

5. A quel contrôle, Bastien a-t-il eu 9 ?

Bastien a eu 9 au contrôle n°

6. Quelle est la note la plus basse qu'a eu Bastien ?

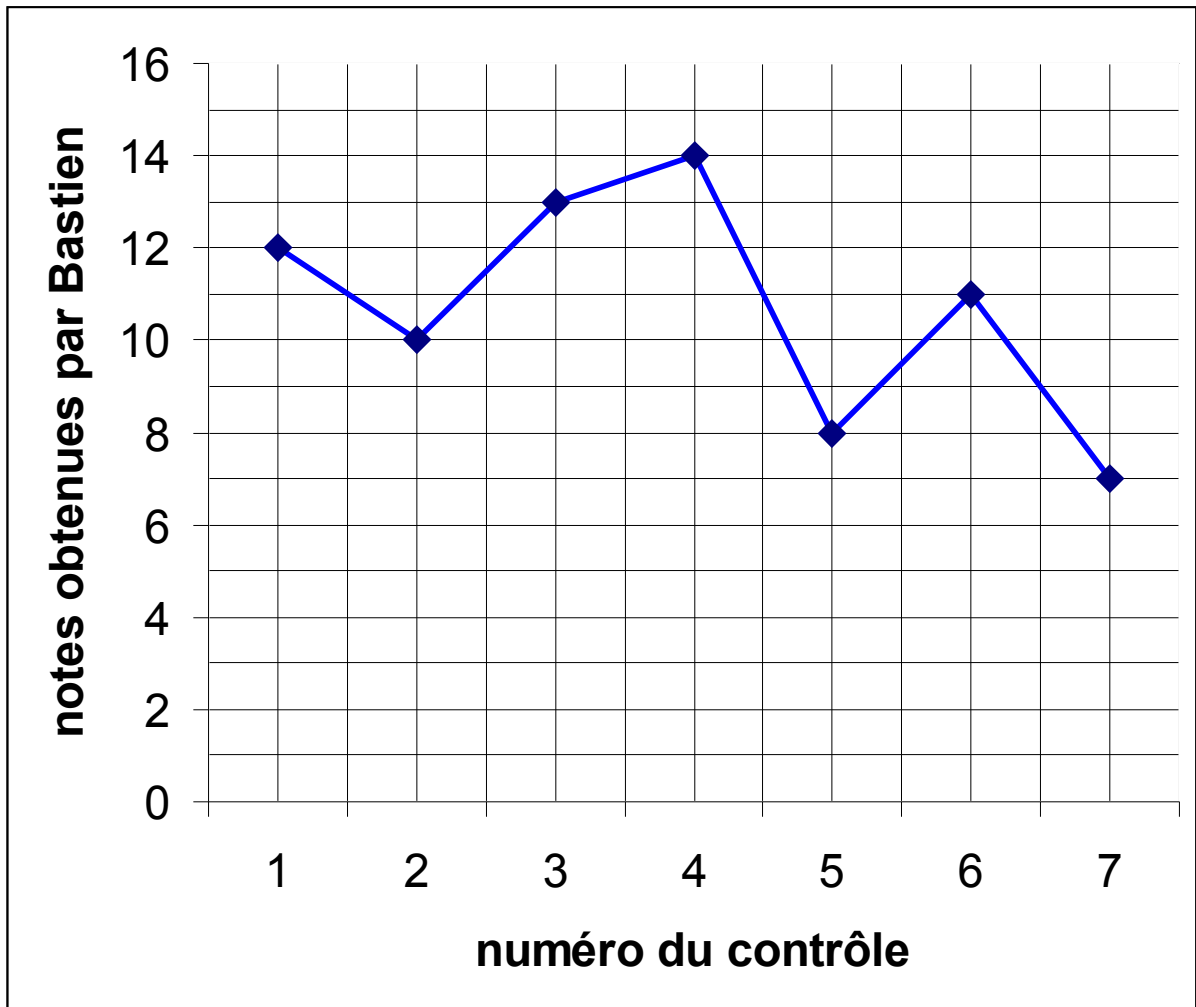
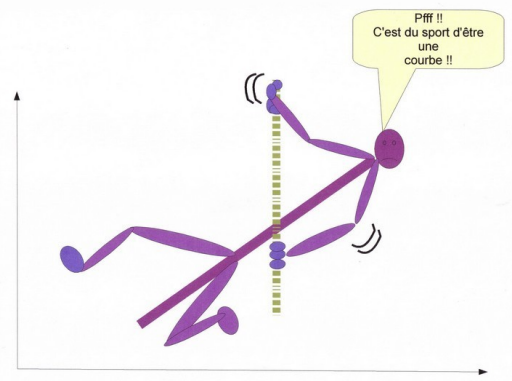
La note la plus basse qu'ait eue Bastien est

7. Quelle est la note la plus haute qu'a eu Bastien ?

La note la plus haute qu'ait eue Bastien est

Lire une courbe

Voici une courbe qui représente les notes qu'a eues Bastien au cours des 7 contrôles de maths du trimestre.



1. Quelle note a eu Bastien au contrôle n° 1 ?

Au contrôle n°1, Bastien a eu

2. Quelle note a eu Bastien au contrôle n° 6 ?

Au contrôle n°6, Bastien a eu

3. Quelle note a eu Bastien au contrôle n° 3 ?

Au contrôle n°3, Bastien a eu

4. A quel contrôle, Bastien a-t-il eu 14 ?

Bastien a eu 14 au contrôle n°

5. A quel contrôle, Bastien a-t-il eu 11 ?

Bastien a eu 11 au contrôle n°

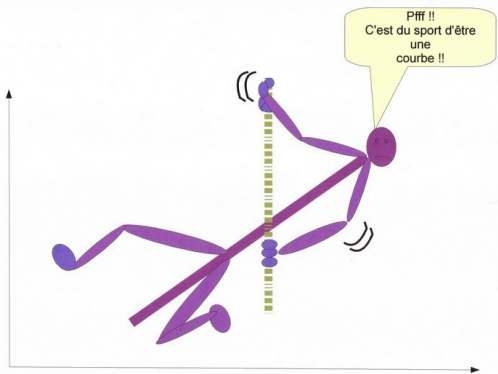
6. Quelle est la note la plus basse qu'a eu Bastien ?

La note la plus basse qu'ait eue Bastien est

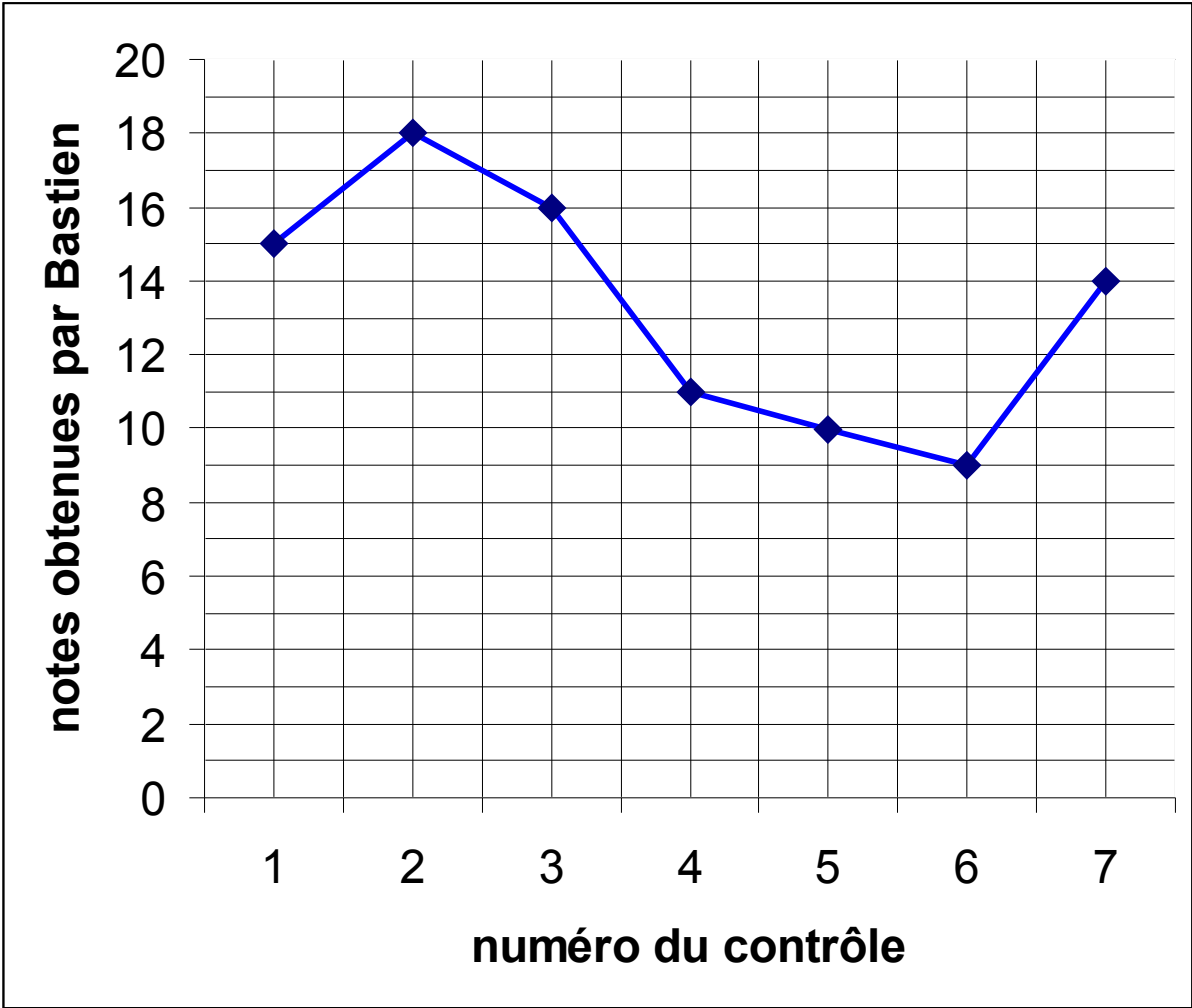
7. Quelle est la note la plus haute qu'a eu Bastien ?

La note la plus haute qu'ait eue Bastien est

Lire une courbe



Voici une courbe qui représente les notes qu'a eues Bastien au cours des 7 contrôles de maths du trimestre.



1. Quelle note a eu Bastien au contrôle n° 4 ?

Au contrôle n°4, Bastien a eu

2. Quelle note a eu Bastien au contrôle n° 3 ?

Au contrôle n°3, Bastien a eu

3. Quelle note a eu Bastien au contrôle n° 7 ?

Au contrôle n°7, Bastien a eu

4. A quel contrôle, Bastien a-t-il eu 10 ?

Bastien a eu 10 au contrôle n°

5. A quel contrôle, Bastien a-t-il eu 15 ?

Bastien a eu 15 au contrôle n°

6. Quelle est la note la plus basse qu'a eu Bastien ?

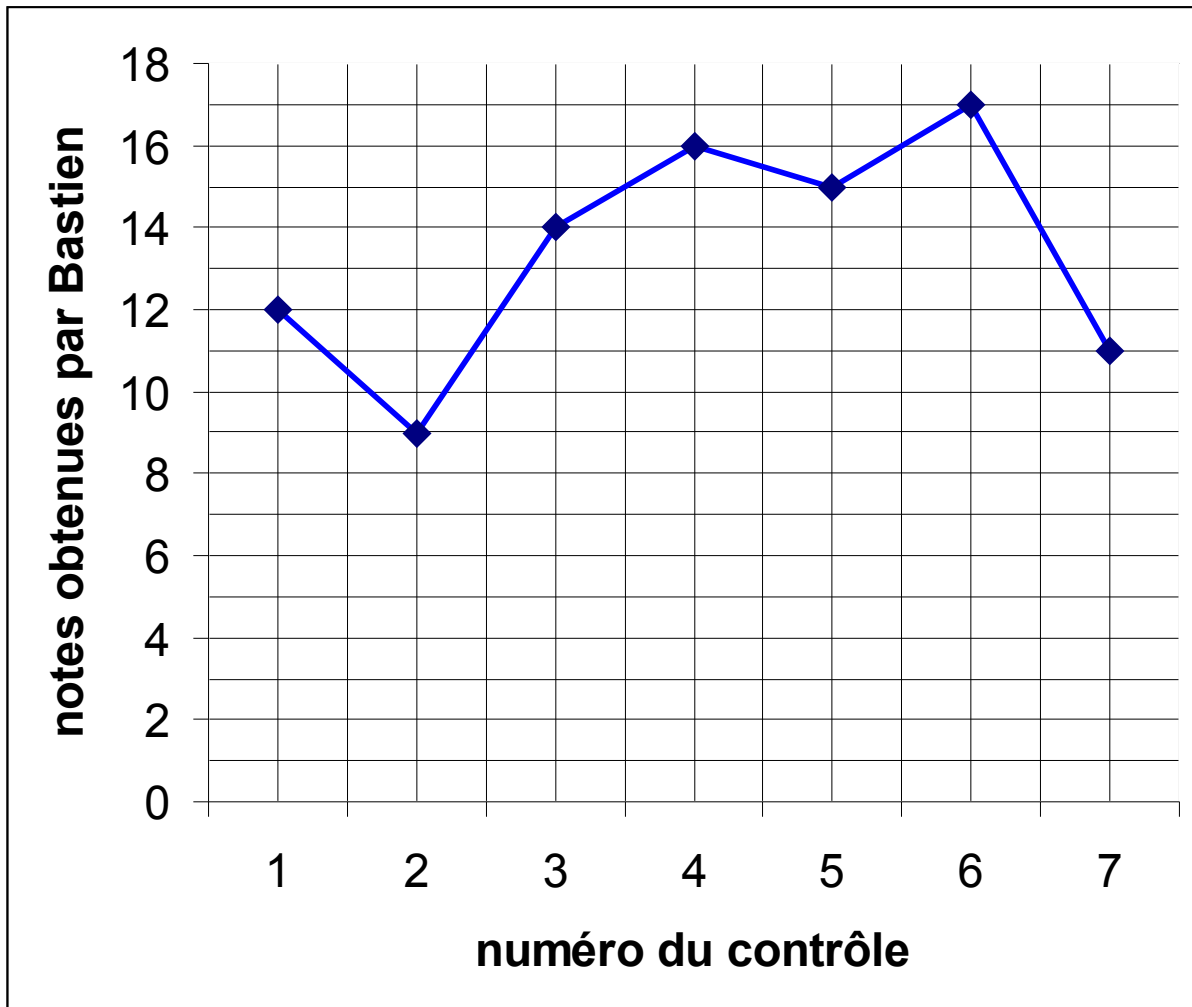
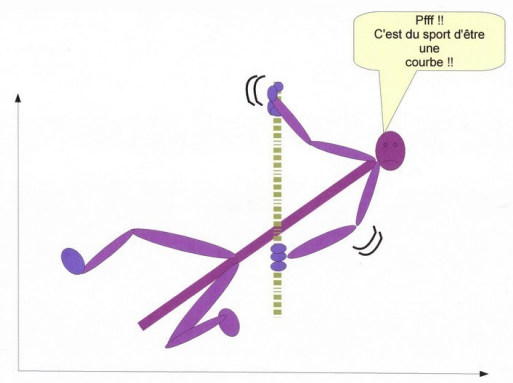
La note la plus basse qu'ait eue Bastien est

7. Quelle est la note la plus haute qu'a eu Bastien ?

La note la plus haute qu'ait eue Bastien est

Lire une courbe

Voici une courbe qui représente les notes qu'a eues Bastien au cours des 7 contrôles de maths du trimestre.



1. Quelle note a eu Bastien au contrôle n° 3 ?

Au contrôle n°3, Bastien a eu

2. Quelle note a eu Bastien au contrôle n° 1 ?

Au contrôle n°1, Bastien a eu

3. Quelle note a eu Bastien au contrôle n° 5 ?

Au contrôle n°5, Bastien a eu

4. A quel contrôle, Bastien a-t-il eu 11 ?

Bastien a eu 11 au contrôle n°

5. A quel contrôle, Bastien a-t-il eu 14 ?

Bastien a eu 14 au contrôle n°

6. Quelle est la note la plus basse qu'a eu Bastien ?

La note la plus basse qu'ait eue Bastien est

7. Quelle est la note la plus haute qu'a eu Bastien ?

La note la plus haute qu'ait eue Bastien est