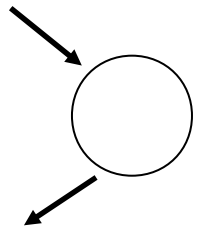


Le coefficient de proportionnalité.

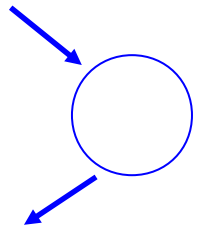
Cherche le nombre qui permet de passer d'une ligne à l'autre.

4	18	52	
		520	690



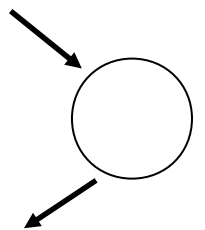
Cherche le nombre qui permet de passer d'une ligne à l'autre.


	5	10	2
32			16



Cherche le nombre qui permet de passer d'une ligne à l'autre.

55	97	63	
			82

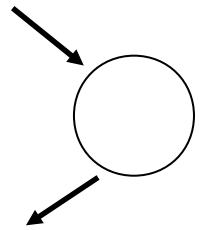




Le coefficient de proportionnalité.

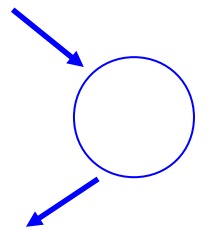
Cherche le nombre qui permet de passer d'une ligne à l'autre.

1	99	44	
		88	70



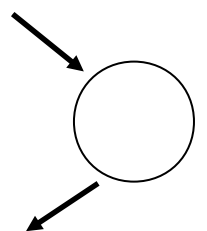
Cherche le nombre qui permet de passer d'une ligne à l'autre.


23	73	47	
		470	280



Cherche le nombre qui permet de passer d'une ligne à l'autre.

90	4		97
	36	540	

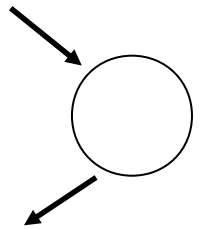




Le coefficient de proportionnalité.

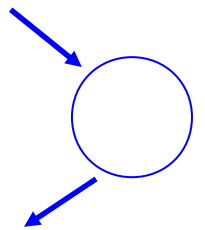
Cherche le nombre qui permet de passer d'une ligne à l'autre.

12	59	42	
		420	750



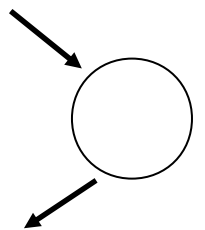
Cherche le nombre qui permet de passer d'une ligne à l'autre.


83	11	96	
		672	539



Cherche le nombre qui permet de passer d'une ligne à l'autre.

15	77	57	
		399	217

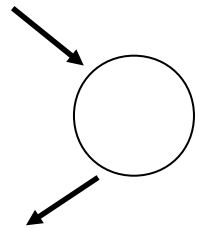




Le coefficient de proportionnalité.

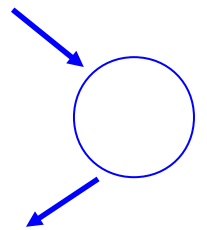
Cherche le nombre qui permet de passer d'une ligne à l'autre.

32	88		43
	880	90	



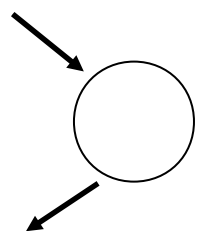
Cherche le nombre qui permet de passer d'une ligne à l'autre.


66	90	25	
		200	624



Cherche le nombre qui permet de passer d'une ligne à l'autre.

53	4	43	
		86	116

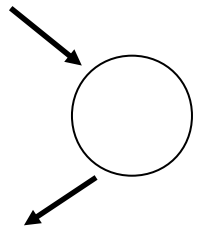




Le coefficient de proportionnalité.

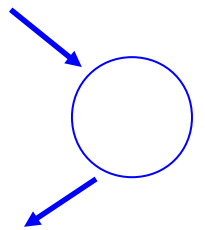
Cherche le nombre qui permet de passer d'une ligne à l'autre.

27	99		8
	693	630	



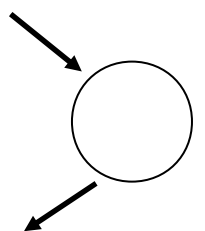
Cherche le nombre qui permet de passer d'une ligne à l'autre.


64	43		91
	430	700	



Cherche le nombre qui permet de passer d'une ligne à l'autre.

71	11	56	
		112	104

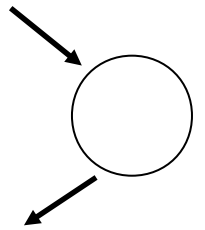




Le coefficient de proportionnalité.

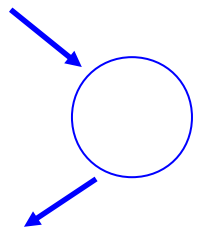
Cherche le nombre qui permet de passer d'une ligne à l'autre.

21	72	87	
		609	588



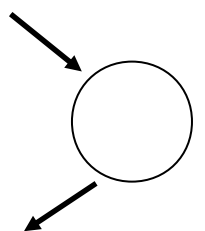
Cherche le nombre qui permet de passer d'une ligne à l'autre.


63	98	99	
		693	308



Cherche le nombre qui permet de passer d'une ligne à l'autre.

83	46	16	
		160	790

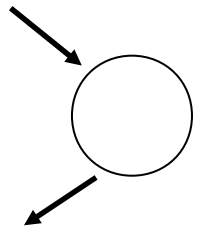




Le coefficient de proportionnalité.

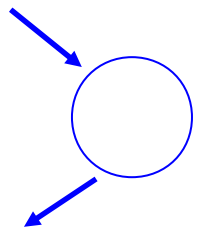
Cherche le nombre qui permet de passer d'une ligne à l'autre.

64	5		83
	25	50	



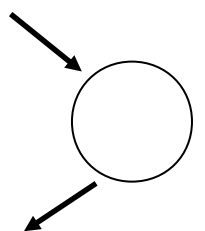
Cherche le nombre qui permet de passer d'une ligne à l'autre.


38	78		5
	546	70	



Cherche le nombre qui permet de passer d'une ligne à l'autre.

68	30		19
	240	416	

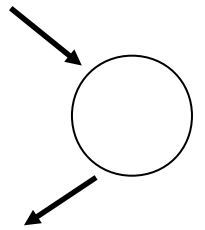




Le coefficient de proportionnalité.

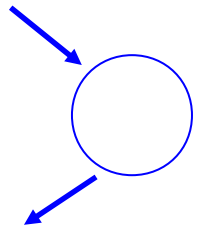
Cherche le nombre qui permet de passer d'une ligne à l'autre.

6	76		9
	532	133	



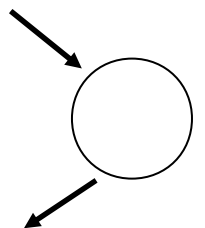
Cherche le nombre qui permet de passer d'une ligne à l'autre.


48	15	88	
		264	216



Cherche le nombre qui permet de passer d'une ligne à l'autre.

86	62	83	
		664	120

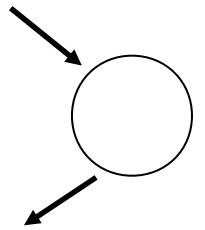




Le coefficient de proportionnalité.

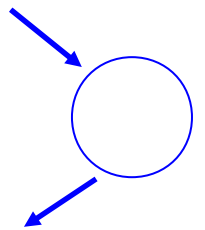
Cherche le nombre qui permet de passer d'une ligne à l'autre.

60	77	86	
		86	75



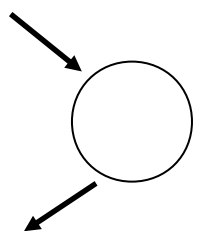
Cherche le nombre qui permet de passer d'une ligne à l'autre.


23	7	90	
		270	120



Cherche le nombre qui permet de passer d'une ligne à l'autre.

36	50		19
	200	376	

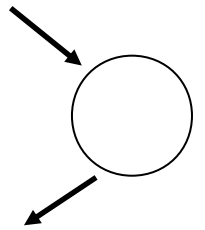




Le coefficient de proportionnalité.

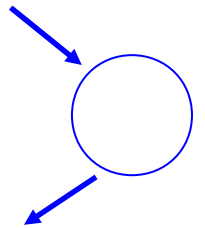
Cherche le nombre qui permet de passer d'une ligne à l'autre.

58	87		47
	348	168	



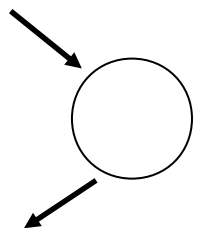
Cherche le nombre qui permet de passer d'une ligne à l'autre.


77	51		95
	459	882	



Cherche le nombre qui permet de passer d'une ligne à l'autre.

96	58		10
	174	51	

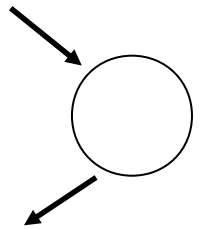




Le coefficient de proportionnalité.

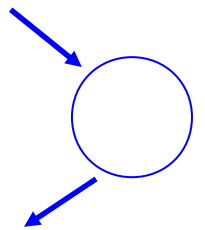
Cherche le nombre qui permet de passer d'une ligne à l'autre.

15	61	52	
		260	135



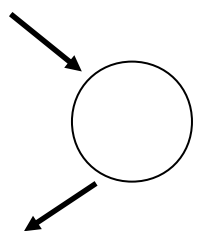
Cherche le nombre qui permet de passer d'une ligne à l'autre.


2	97	34	
		340	480



Cherche le nombre qui permet de passer d'une ligne à l'autre.

8	45	73	
		584	448

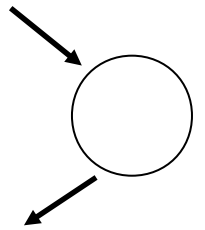




Le coefficient de proportionnalité.

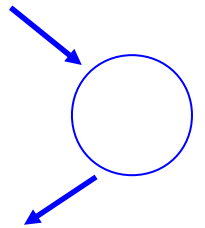
Cherche le nombre qui permet de passer d'une ligne à l'autre.

6	10	19	
		95	175



Cherche le nombre qui permet de passer d'une ligne à l'autre.

22	15		16
	15	37	



Cherche le nombre qui permet de passer d'une ligne à l'autre.

64	51		80
	204	348	

