



Périmètre ou aire

On te demande de calculer le périmètre de ce carré qui a 5 cm de côté.

- Sur la figure proposée, colorie le périmètre.



- Ecris l'opération et calcule le périmètre de ce carré.


Le périmètre du carré est de cm.



Périmètre ou aire

On te demande de calculer l'aire de ce rectangle dont la longueur est 9 cm et la largeur 4 cm.

- Sur la figure proposée, colorie l'aire.



- Ecris l'opération et calcule l'aire de ce rectangle.


L'aire du rectangle est de cm².



Périmètre ou aire

On te demande de calculer le périmètre de ce cercle qui a 8 cm de rayon.

- Sur la figure proposée, colorie le périmètre.



- Ecris l'opération et calcule le périmètre de ce cercle.

Le périmètre du cercle est de cm.



Périmètre ou aire

On te demande de calculer l'aire de ce carré qui a 8 cm de côté.

- Sur la figure proposée, colorie l'aire.



- Ecris l'opération et calcule l'aire de ce carré.

L'aire du carré est de cm^2 .



Périmètre ou aire

On te demande de calculer le périmètre de ce rectangle dont la longueur est 10 cm et la largeur 3 cm.

- Sur la figure proposée, colorie le périmètre.



- Ecris l'opération et calcule le périmètre de ce rectangle.


Le périmètre du rectangle est de
cm.



Périmètre ou aire

On te demande de calculer l'aire de ce cercle qui a 9 cm de rayon.

- Sur la figure proposée, colorie l'aire.



- Ecris l'opération et calcule l'aire de ce cercle.

L'aire du cercle est de cm^2 .



Périmètre ou aire

On te demande de calculer le périmètre de ce carré qui a 9 cm de côté.

- Sur la figure proposée, colorie le périmètre.



- Ecris l'opération et calcule le périmètre de ce carré.

Le périmètre du carré est de cm.



Périmètre ou aire

On te demande de calculer l'aire de ce rectangle qui a une longueur de 7 cm et une largeur de 4 cm.

- Sur la figure proposée, colorie l'aire.



- Ecris l'opération et calcule l'aire de ce rectangle.


L'aire du rectangle est de cm^2 .



Périmètre ou aire

On te demande de calculer le périmètre de ce cercle qui a 8 cm de rayon.

- Sur la figure proposée, colorie le périmètre.



- Ecris l'opération et calcule le périmètre de ce cercle.

Le périmètre du cercle est de cm.



Périmètre ou aire

On te demande de calculer l'aire de ce carré qui a 3 cm de côté.

- Sur la figure proposée, colorie l'aire.



- Ecris l'opération et calcule l'aire de ce carré.

L'aire du carré est de cm^2 .



Périmètre ou aire

On te demande de calculer le périmètre de ce rectangle dont la largeur est de 5 cm et la longueur de 8 cm.

- Sur la figure proposée, colorie le périmètre.



- Ecris l'opération et calcule le périmètre de ce rectangle.


Le périmètre du rectangle est de
cm.



Périmètre ou aire

On te demande de calculer l'aire de ce cercle qui a 6 cm de rayon.

- Sur la figure proposée, colorie l'aire.



- Ecris l'opération et calcule l'aire de ce cercle.

L'aire du cercle est de cm^2 .



Périmètre ou aire

On te demande de calculer le périmètre de ce carré qui a 10 cm de côté.

- Sur la figure proposée, colorie le périmètre.



- Ecris l'opération et calcule le périmètre de ce carré.

Le périmètre du carré est de cm.



Périmètre ou aire

On te demande de calculer l'aire de ce rectangle dont la largeur est 2 cm et la longueur est 7 cm.

- Sur la figure proposée, colorie l'aire.



- Ecris l'opération et calcule l'aire de ce rectangle.


L'aire du rectangle est de cm^2 .



Périmètre ou aire

On te demande de calculer le périmètre de ce cercle qui a 6 cm de rayon.

- Sur la figure proposée, colorie le périmètre.



- Ecris l'opération et calcule le périmètre de ce cercle.

Le périmètre du cercle est de cm.



Périmètre ou aire

On te demande de calculer l'aire de ce carré qui a 2 cm de côté.

- Sur la figure proposée, colorie l'aire.



- Ecris l'opération et calcule l'aire de ce carré.


L'aire du carré est de cm^2 .



Périmètre ou aire

On te demande de calculer le périmètre de ce rectangle qui a une longueur de 5 cm et une largeur de 3 cm.

- Sur la figure proposée, colorie le périmètre.



- Ecris l'opération et calcule le périmètre de ce rectangle.


Le périmètre du rectangle est de
cm.



Périmètre ou aire

On te demande de calculer l'aire de ce cercle qui a 7 cm de rayon.

- Sur la figure proposée, colorie l'aire.



- Ecris l'opération et calcule l'aire de ce cercle.

L'aire du cercle est de cm^2 .



Périmètre ou aire

On te demande de calculer le périmètre de ce carré qui a 8 cm de côté.

- Sur la figure proposée, colorie le périmètre.



- Ecris l'opération et calcule le périmètre de ce carré.

Le périmètre du carré est de cm.



Périmètre ou aire

On te demande de calculer l'aire de ce rectangle qui a une longueur de 6 cm et une largeur de 2 cm.

- Sur la figure proposée, colorie l'aire.



- Ecris l'opération et calcule l'aire de ce rectangle.


L'aire du rectangle est de cm^2 .



Périmètre ou aire

On te demande de calculer le périmètre de ce cercle qui a 8 cm de rayon.

- Sur la figure proposée, colorie le périmètre.



- Ecris l'opération et calcule le périmètre de ce cercle.

Le périmètre du cercle est de cm.



Périmètre ou aire

On te demande de calculer l'aire de ce carré qui a 4 cm de côté.

- Sur la figure proposée, colorie l'aire.



- Ecris l'opération et calcule l'aire de ce carré.

L'aire du carré est de cm^2 .



Périmètre ou aire

On te demande de calculer le périmètre de ce rectangle dont la longueur est de 8 cm et la largeur de 5 cm.

- Sur la figure proposée, colorie le périmètre.



- Ecris l'opération et calcule le périmètre de ce rectangle.


Le périmètre du rectangle est de
cm.



Périmètre ou aire

On te demande de calculer l'aire de ce cercle qui a 7 cm de rayon.

- Sur la figure proposée, colorie l'aire.



- Ecris l'opération et calcule l'aire de ce cercle.

L'aire du cercle est de cm^2 .