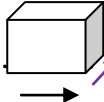


Le pavé


Je calcule le volume du pavé. cm  cm

Je mesure la longueur cm


la hauteur cm

et la largeur cm


Je note la formule mathématique :



Je remplace les lettres de la formule par les nombres.



Je note le résultat :

$$V = \text{  }$$

Je note l'équivalence en L =

Je note l'équivalence en mL =