

Classe ces objets du plus petit au plus grand.



Il faut tout d'abord écrire toutes les longueurs dans la même unité.

	<		<		<		<	
--	---	--	---	--	---	--	---	--



Un parapluie
42 cm
mm



Un couteau
2 dm
mm



Une clé
50mm
mm



Un cahier
250 mm
mm



Une tasse
4 cm
mm

Classe ces objets du plus petit au plus grand.



Il faut tout d'abord écrire toutes les longueurs dans la même unité.

	<		<		<		<	
--	---	--	---	--	---	--	---	--



un coussin
45 cm

mm



Un sablier
70 mm

mm



Un livre
3 dm

mm



Un cartable
500 mm

mm



Un vélo
8 dm

mm

Classe ces objets du plus petit au plus grand.



Il faut tout d'abord écrire toutes les longueurs dans la même unité.

	<		<		<		<	
--	---	--	---	--	---	--	---	--



Une cafetière

320 mm

mm



Un grain de maïs

5 mm

mm



Une saucisse

15 cm

mm



Une orange

7 cm

mm



Un pot de confiture

1 dm

mm

Classe ces objets du plus petit au plus grand.



Il faut tout d'abord écrire toutes les longueurs dans la même unité.

	<		<		<		<	
--	---	--	---	--	---	--	---	--



Une tomate

45 mm

mm



Un appareil photo

5 cm


mm



Une lentilles

4 mm

mm



5 dm

mm



Une fourchette

2 dm

mm

Classe ces objets du plus petit au plus grand.



Il faut tout d'abord écrire toutes les longueurs dans la même unité.

	<		<		<		<	
--	---	--	---	--	---	--	---	--



Une fraise
21 mm
mm



Un parasol
15 dm
mm



Un bâton de colle
7 cm
mm



Une pièce de 2€
2 cm
mm



Une casserole
25 cm
mm

Classe ces objets du plus petit au plus grand.



Il faut tout d'abord écrire toutes les longueurs dans la même unité.

	<		<		<		<	
--	---	--	---	--	---	--	---	--



Un ordinateur portable
3 dm
mm



Un porte monnaie
6 cm
mm



Une salade
150 mm
mm



Une bouteille de champagne
25 cm
mm



Une bague
28 mm
mm

Classe ces objets du plus petit au plus grand.



Il faut tout d'abord écrire toutes les longueurs dans la même unité.

	<		<		<		<	
--	---	--	---	--	---	--	---	--



Une poupée
25 cm

mm



Une lampe de poche
65 mm

mm



Une boîte de lait
15 cm

mm



Un sac à main
4 dm

mm



Un verre
12 cm

mm

Classe ces objets du plus petit au plus grand.



Il faut tout d'abord écrire toutes les longueurs dans la même unité.

	<		<		<		<	
--	---	--	---	--	---	--	---	--



Une valise

7 dm

mm



Un cadre photo

18 cm

mm



Une chaussette

30 cm

mm



Un téléphone portable

8 cm

mm



Un panneau stop

15 dm


mm

Classe ces objets du plus petit au plus grand.



Il faut tout d'abord écrire toutes les longueurs dans la même unité.

	<		<		<		<	
--	---	--	---	--	---	--	---	--



Le livre de maths

36 cm

mm



Un panier

420 mm

mm



Un chapeau

28 cm

mm



Une étagère

12 dm

mm



Des ciseaux

2 dm

mm

Classe ces objets du plus petit au plus grand.



Il faut tout d'abord écrire toutes les longueurs dans la même unité.

	<		<		<		<	
--	---	--	---	--	---	--	---	--



Un feu tricolore

4 dm

mm



Une ampoule

50 mm

mm



Un ballon

25 cm

mm



Une allumette

2 cm

mm



Une chaise

7 dm

mm

Classe ces objets du plus petit au plus grand.



Il faut tout d'abord écrire toutes les longueurs dans la même unité.

	<		<		<		<	
--	---	--	---	--	---	--	---	--



Une bougie
46 mm
mm




Une gomme
5 cm
mm



Un tabouret
4 dm
mm



Un lecteur DVD
25 cm
mm



Un citron
60 mm
mm

Classe ces objets du plus petit au plus grand.



Il faut tout d'abord écrire toutes les longueurs dans la même unité.

	<		<		<		<	
--	---	--	---	--	---	--	---	--



Une bêche
9 dm
mm



Un seau
45 cm
mm



Un tube de
dentifrice
8 cm
mm



Une équerre
120 mm
mm



Une pomme
7 cm
mm