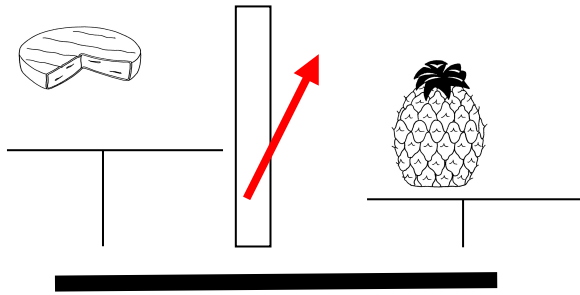


Peser avec une balance.

Regarde bien l'aiguille, elle penche du côté de l'objet qui est le plus lourd. L'autre objet est le plus léger.



Regarde le dessin et entoure la bonne réponse :

Qui est le plus lourd ?

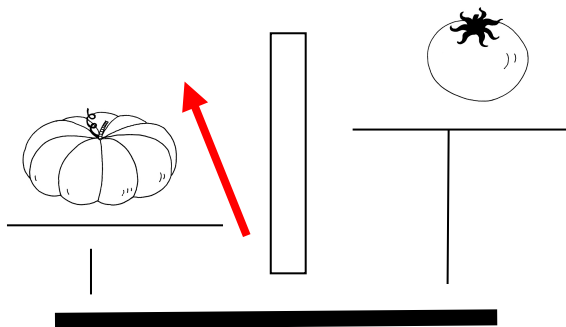
Le camembert

L'ananas

Qui est le plus léger ?

Le camembert

L'ananas



Qui est le plus lourd ?

La citrouille

La tomate

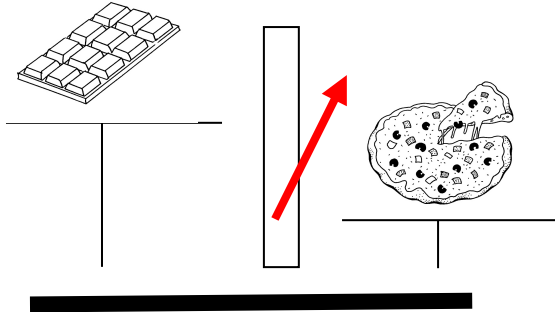
Qui est le plus léger ?

Le camembert

L'ananas

Peser avec une balance.

Regarde bien l'aiguille, elle penche du côté de l'objet qui est **le plus lourd**. **L'autre objet est le plus léger.**



Regarde le dessin et entoure la bonne réponse :

Qui est le plus lourd ?

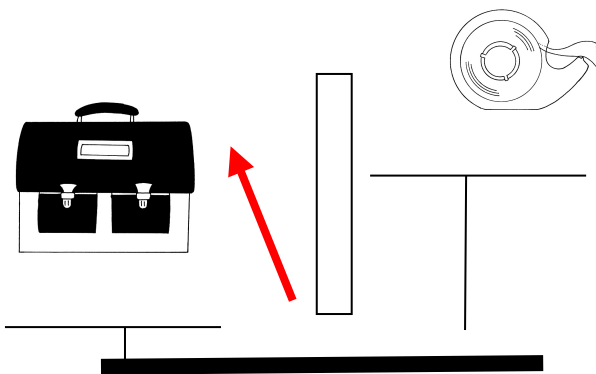
Le chocolat

La pizza

Qui est le plus léger ?

Le chocolat

La pizza



Qui est le plus lourd ?

Le cartable

Le rouleau de scotch

Qui est le plus léger ?

Le cartable

Le rouleau de scotch