


Lapinette a 6 ans. Son frère a 2 ans de plus.

Quel est l'âge du frère de Lapinette ?

Lapinette



Son frère



Le frère de Lapinette a ans.


Jules a 7 billes. Elie a 4 billes de plus que Jules.

Combien Elie a-t-il de billes ?

Jules



Elie




Elie a billes.


Laura a 2 poupées. Alice a 5 poupées de plus que

Laura. Combien Alice a-t-elle de poupée ?

Laura



Alice

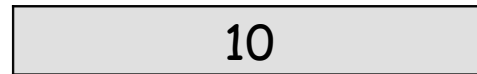


Alice a poupées.

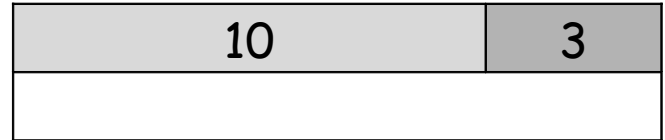
Julie a 10 ans. Sa cousine Elise a 3 ans de plus.

Quel est l'âge d'Elise?

Julie



Elise



Elise a ans.


Etienne a 5 cartes. Rémi a 8 cartes de plus qu'Etienne.

Combien Rémi a-t-il de cartes ?

Etienne



Rémi

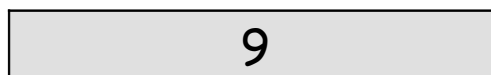


Rémi a cartes.


Claire a 9 fleurs dans son bouquet. Louise a 7 fleurs

de plus que Claire. Combien Louise a-t-elle de fleurs ?

Claire



Louise



Louise a fleurs.

Gaëtan a 4 ans. Son voisin Paul a 6 ans de plus.

Quel est l'âge de Paul?

Gaëtan

4

Paul

4	6

Paul a ans.

Maxime a 6 livres. Juliette a 7 livres de plus que

Maxime. Combien Juliette a-t-elle de livres ?

Maxime

6

Juliette

6	7

Juliette a livres.

Dans l'étang du bois fleuri, il y a 7 truites. Dans l'étang du midi, il y a 9 truites de plus que dans l'étang

du bois fleuri. Combien y a-t-il de poissons dans l'étang du midi?

L'étang du bois
fleuri

7

L'étang du midi

7	9

L'étang du midi a truites.

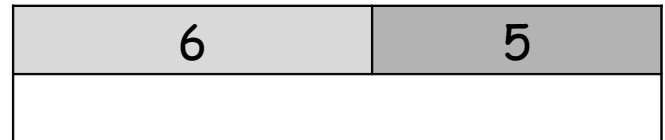
Benoît a couru 6 kilomètres. Paul a couru 5 kilomètres de plus que Benoît.

Combien de km Paul a-t-il couru ?

Benoît



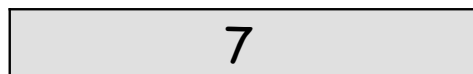
Paul



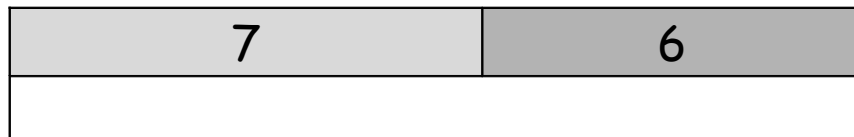
Paul a couru..... km.

Patricia a mis 7 assiettes sur la table. Yves a mis 6 assiettes de plus que Patricia. Combien Yves a-t-il mis d'assiettes ?

Patricia



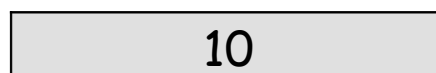
Yves




Yves a mis assiettes.

Mamie a mangé 10 frites. Papi a mangé 7 frites de plus que mamie. Combien Papi a-t-il mangé de frites ?

Mamie



Papi



Papi a mangé frites.

Lucie a 5 disques. Marie a 8 disques de plus.
Combien Marie a-t-elle de disques ?

Lucie

5

Marie

5	8

Marie a disques.

Laura a 4 ans. Philippe a 7 ans de plus que Laura.
Quel âge a Philippe?

Laura

4

Philippe

4	7

Philippe a ans.

Mimi a deux tracteurs. Sylvain a 5 tracteurs de plus
que Mimi. Combien Sylvain a-t-il de tracteurs ?

Mimi

2

Sylvain

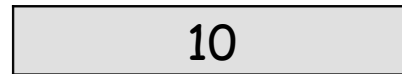
2	5

Sylvain a tracteurs.


Mohamed a 10 ans. Son frère a 8 ans de plus.

Quel est l'âge du frère de Mohamed ?

Mohamed



Son frère

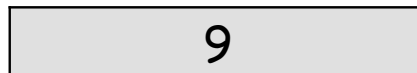


Le frère de Mohamed a ans.

Sébastien a 9 livres. Julie a 6 livres de plus que

Sébastien. Combien Julie a-t-elle de livres ?

Sébastien




Julie




Julie a livres.

Richard a fabriqué 8 avions en papier. Sarah a fabriqué 3 avions de plus que Richard. Combien Sarah a-t-elle fabriqué d'avions en papier ?

Richard



Sarah



Sarah a fabriqué avions en papier.


Marie a 13 ans. Lucie a 2 ans de plus.

Quel est l'âge de Lucie ?

Marie



Lucie



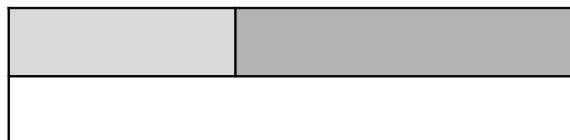
Lucie a ans.

Le chat blanc a attrapé 2 souris. Le chat roux a attrapé 4 souris de plus que le chat blanc. Combien le chat roux a-t-il attrapé de souris ?

Le chat blanc



Le chat roux




Le chat roux a attrapé souris.

Le lion a 21 dents. Le crocodile a 5 dents de plus que le lion. Combien le crocodile a-t-il de dents ?

Le lion



Le crocodile



Le crocodile a dents.

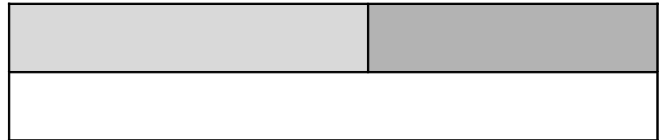
Gilles a 10 ans. Son cousin Pierre a 7 ans **de plus**.

Quel est l'âge de Pierre?

Gilles



Pierre




Pierre a ans.

Le renard a attrapé une poule. Le loup a attrapé 3 poules **de plus** que le renard. Combien le loup a-t-il attrapé de poules ?

Le renard



Le loup



Le loup a attrapé poules.

Dans cette boite jaune, il y a 6 oeufs. Dans la boite rouge, il y a 8 œufs **de plus**. Combien y a-t-il d'œufs dans la boite rouge ?

Boite jaune



Boite rouge



Dans la boite rouge, il y a oeufs.


Le chien a 14 ans. La chatte a 4 ans de plus.

Quel est l'âge de la chatte?

Le chien



La chatte




La chatte a ans.

L'oiseau blanc pèse 15 grammes. L'oiseau bleu pèse 6 grammes de plus que l'oiseau blanc. Combien pèse l'oiseau bleu ?

L'oiseau
blanc




L'oiseau bleu



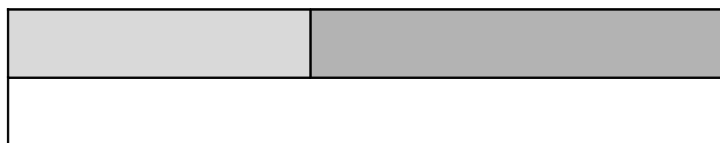
L'oiseau bleu pèse grammes.

Hortense a 4 cahiers. Antoine a 5 cahiers de plus qu'Hortense. Combien Antoine a-t-il de cahiers?

Hortense



Antoine



Antoine a cahiers.


Patrick a 8 ans. Paul a 5 ans **de plus**.

Quel est l'âge de Paul ?

Patrick



Paul




Paul a ans.

Dans ce pré, il y a 5 chevaux. Dans ce pré, il y a 6 vaches **de plus** que de chevaux. Combien y a-t-il de vaches dans ce pré ?

chevaux



vaches




Dans ce pré, il y a vaches.

En février, il y a 28 jours. En mars, il y a 3 jours **de plus** qu'en février. Combien y a-t-il de jours en mars ?

févier



mars



En mars, il y a jours.

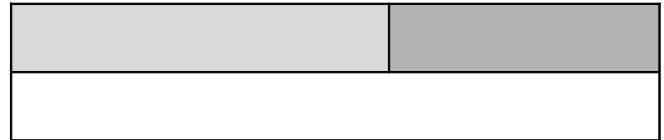
Yoann a 9 ans. Alicia a 5 ans de plus.

Quel est l'âge d'Alicia ?

Yoann




Alicia




Alicia a ans.

Dans la classe, il y a 15 filles. Dans la classe, il y a 4 garçons de plus que de filles. Combien y a-t-il de garçons dans la classe ?

Les filles



Les garçons



Dans la classe, il y a garçons.

La lionne a 4 bébés. La louve a 2 bébés de plus que la lionne. Combien la louve a-t-elle de bébés ?

La lionne



La louve



La louve a bébés.


Christian a 20 ans. Jeannine a 7 ans de plus.

Quel est l'âge de Jeannine ?

Christian



Jeannine




Jeannine a ans.

Le camembert pèse 250 grammes. La mimolette pèse 10 grammes de plus que le camembert. Combien pèse la mimolette ?

Le camembert



La mimolette




La mimolette pèse grammes.

La famille Croisier a 5 vélos. La famille Dubois a 3 vélos de plus. Combien la famille Dubois a-t-elle de vélos ? ?

La famille Croisier



La famille Dubois



La famille Dubois a vélos.