

## La situation problème


















*Pauline trie ses perles par couleurs. Elle veut faire un collier multicolore. Elle utilisera 45 perles jaunes, 102 perles blanches et 232 perles vertes.*

*Son amie Lucie compte ses perles avant de faire son collier.*

*Elle a 244 perles rouges et 148 perles bleues.*

*Qui a le plus de perles : Pauline ou Lucie ?*

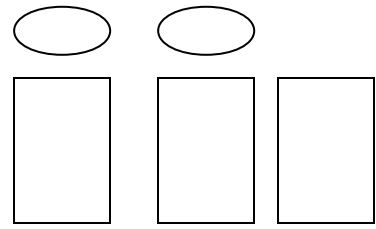
Je calcule d'abord le nombre de perles de Pauline :

Nombre de perles jaunes :				
				
Nombre de perles blanches :				
Nombre de perles vertes :				
<hr/>				
				

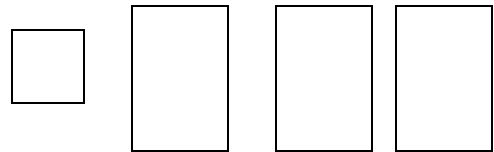
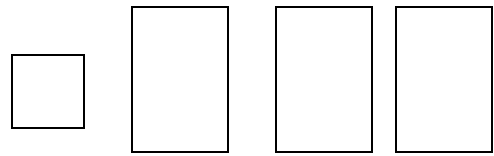
En tout Pauline a ..... perles.

Je calcule ensuite le nombre de perles de Lucie :

Nombre de perles rouges:



Nombre de perles bleues :



En tout Lucie a ..... perles.

Qui a le plus de perles ?

Celles qui a le plus de perles et celles qui en a le plus grand nombre.

Nombre de perles de Pauline		Nombre de perles de Lucie

C'est ..... qui a le plus de perles.