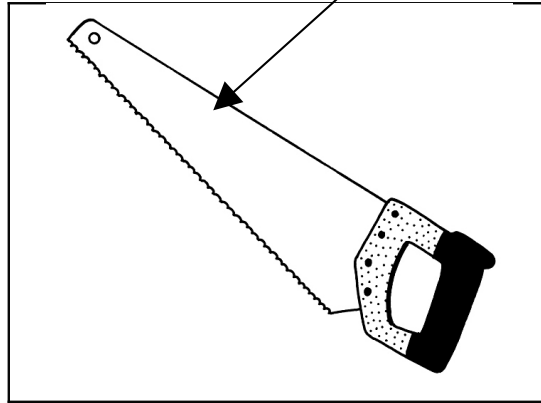


Ai-je assez d'argent ?

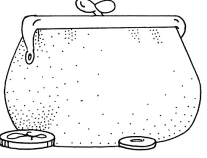
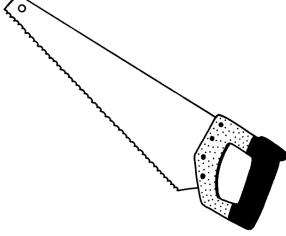
30 €



Je souhaite acheter cette scie. Combien coûte-t-elle ?

La scie coûte euros.

J'ai 35 euros dans mon porte-monnaie. Est-ce que je peux acheter cette scie ?

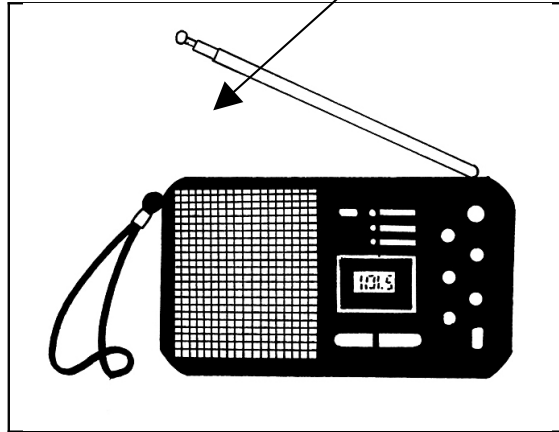
	Quel est le plus grand ?	
Argent dans le porte monnaie		Prix de la scie

Pour pouvoir acheter la scie, le nombre le plus grand doit être dans le porte monnaie.

Est-ce que je peux acheter cette scie. Entoure la bonne réponse : oui non

Ai-je assez d'argent ?

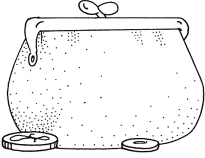
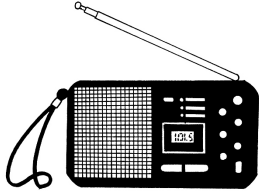
25 €



Je souhaite acheter cette radio. Combien coûte-t-elle ?

La radio coûte euros.

J'ai 10 euros dans mon porte-monnaie. Est-ce que je peux acheter cette radio ?

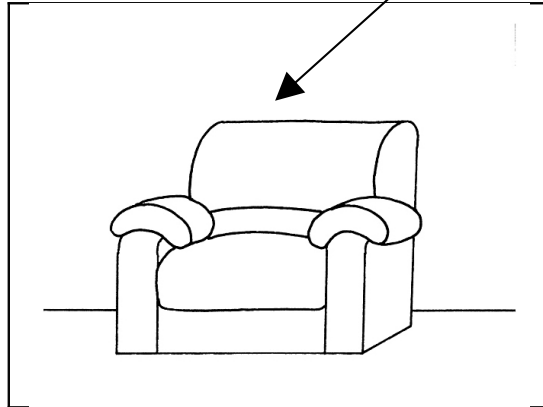
	Quel est le plus grand ?	
Argent dans le porte monnaie		Prix de la radio

Pour pouvoir acheter la radio, le nombre le plus grand doit être dans le porte monnaie.

Est-ce que je peux acheter cette radio ? Entoure la bonne réponse : oui non

Ai-je assez d'argent ?

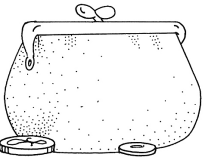

543 €



Je souhaite acheter ce fauteuil. Combien coûte-t-il ?

Le fauteuil coûte euros.

J'ai 500 euros dans mon porte-monnaie. Est-ce que je peux acheter ce fauteuil?

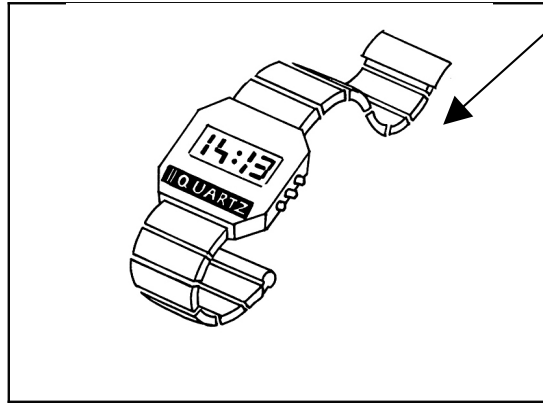
	Quel est le plus grand ?	
Argent dans le porte monnaie		Prix du fauteuil

Pour pouvoir acheter le fauteuil, le nombre le plus grand doit être dans le porte monnaie.

Est-ce que je peux acheter ce fauteuil ? Entoure la bonne réponse : oui non

Ai-je assez d'argent ?

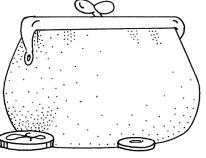
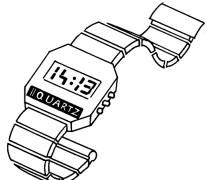
48 €



Je souhaite acheter cette montre. Combien coûte-t-elle ?

La montre coûte euros.

J'ai 50 euros dans mon porte-monnaie. Est-ce que je peux acheter cette montre ?


	Quel est le plus grand ?	
Argent dans le porte monnaie		Prix de la montre

Pour pouvoir acheter la montre, le nombre le plus grand doit être dans le porte monnaie.

Est-ce que je peux acheter cette montre. Entoure la bonne réponse : oui non

Ai-je assez d'argent ?

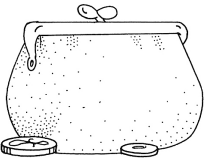

176 €



Je souhaite acheter cet aspirateur. Combien coûte-t-il ?

L'aspirateur coûte euros.

J'ai 185 euros dans mon porte-monnaie. Est-ce que je peux acheter cet aspirateur ?


	<p>Quel est le plus grand ?</p>	
<p>Argent dans le porte monnaie</p>		<p>Prix de l'aspirateur</p>

Pour pouvoir acheter l'aspirateur, le nombre le plus grand doit être dans le porte monnaie.

Est-ce que je peux acheter cet aspirateur ? Entoure la bonne réponse : oui non

Ai-je assez d'argent ?

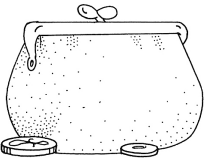

437 €



Je souhaite acheter ce landau. Combien coûte-t-il ?

Ce landau coûte euros.

J'ai 356 euros dans mon porte-monnaie. Est-ce que je peux acheter ce landau ?

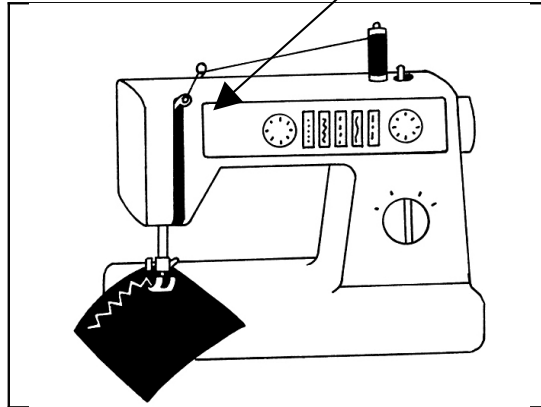
	Quel est le plus grand ?	
Argent dans le porte monnaie		Prix du landau

Pour pouvoir acheter le landau, le nombre le plus grand doit être dans le porte monnaie.

Est-ce que je peux acheter ce landau ? Entoure la bonne réponse : oui non

Ai-je assez d'argent ?

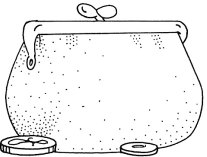
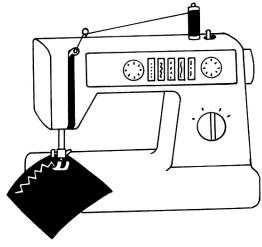
637 €



Je souhaite acheter cette machine à coudre. Combien coûte-t-elle ?

La machine à coudre coûte euros.

J'ai 655 euros dans mon porte-monnaie. Est-ce que je peux acheter cette machine à coudre ?

	Quel est le plus grand ?	
Argent dans le porte monnaie		Prix de la machine à coudre

Pour pouvoir acheter la machine à coudre, le nombre le plus grand doit être dans le porte monnaie.

Est-ce que je peux acheter cette machine à coudre ?

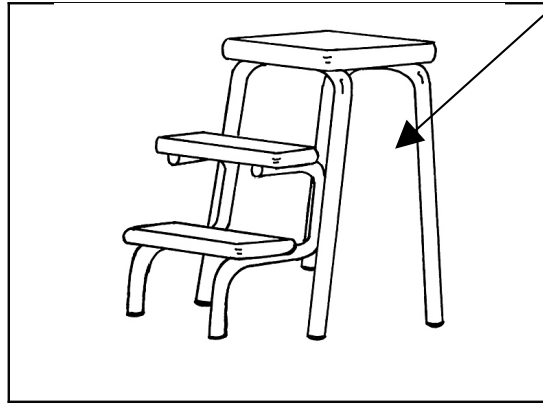
Entoure la bonne réponse :

oui

non

Ai-je assez d'argent ?

.97 €



Je souhaite acheter cet escabeau. Combien coûte-t-il ?

L'escabeau coûte euros.

J'ai 100 euros dans mon porte-monnaie. Est-ce que je peux acheter cet escabeau?


	Quel est le plus grand ?	
Argent dans le porte monnaie		Prix de l'escabeau

Pour pouvoir acheter l'escabeau, le nombre le plus grand doit être dans le porte monnaie.

Est-ce que je peux acheter cet escabeau ? Entoure la bonne réponse : oui non

Ai-je assez d'argent ?

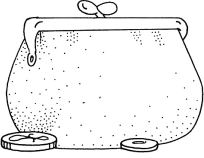

788 €



Je souhaite acheter ce toboggan. Combien coûte-t-il ?

Le toboggan coûte euros.

J'ai 785 euros dans mon porte-monnaie. Est-ce que je peux acheter ce toboggan ?

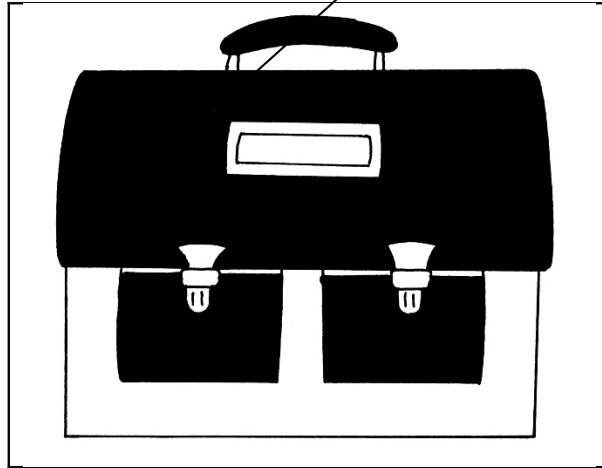
	Quel est le plus grand ?	
Argent dans le porte monnaie		Prix du toboggan

Pour pouvoir acheter le toboggan, le nombre le plus grand doit être dans le porte monnaie.

Est-ce que je peux acheter ce toboggan ? Entoure la bonne réponse : oui non

Ai-je assez d'argent ?

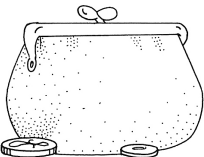

64 €



Je souhaite acheter ce cartable. Combien coûte-t-il ?

Le cartable coûte euros.

J'ai 100 euros dans mon porte-monnaie. Est-ce que je peux acheter ce cartable?


	<p>Quel est le plus grand ?</p>	
<p>Argent dans le porte monnaie</p>		<p>Prix du cartable</p>

Pour pouvoir acheter le cartable, le nombre le plus grand doit être dans le porte monnaie.

Est-ce que je peux acheter ce cartable. Entoure la bonne réponse : oui non

Ai-je assez d'argent ?

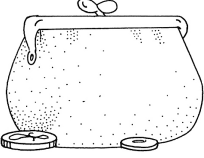

862 €



Je souhaite acheter cet ordinateur. Combien coûte-t-il ?

L'ordinateur coûte euros.

J'ai 946 euros dans mon porte-monnaie. Est-ce que je peux acheter cet ordinateur ?

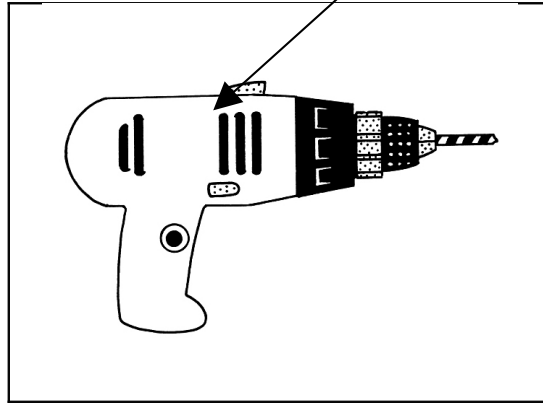
	Quel est le plus grand ?	
Argent dans le porte monnaie		Prix de l'ordinateur

Pour pouvoir acheter l'ordinateur, le nombre le plus grand doit être dans le porte monnaie.

Est-ce que je peux acheter cet ordinateur ? Entoure la bonne réponse : oui non

Ai-je assez d'argent ?

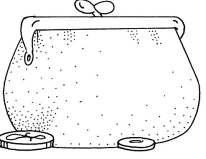
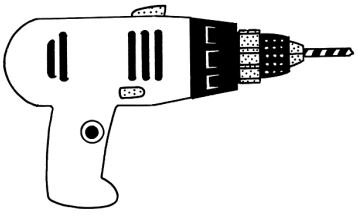
72 €



Je souhaite acheter cette perceuse. Combien coûte-t-elle ?

La perceuse coûte euros.

J'ai 75 euros dans mon porte-monnaie. Est-ce que je peux acheter cette perceuse ?

	Quel est le plus grand ?	
Argent dans le porte monnaie		Prix de la perceuse

Pour pouvoir acheter la perceuse, le nombre le plus grand doit être dans le porte monnaie.

Est-ce que je peux acheter cette perceuse ? Entoure la bonne réponse : oui non