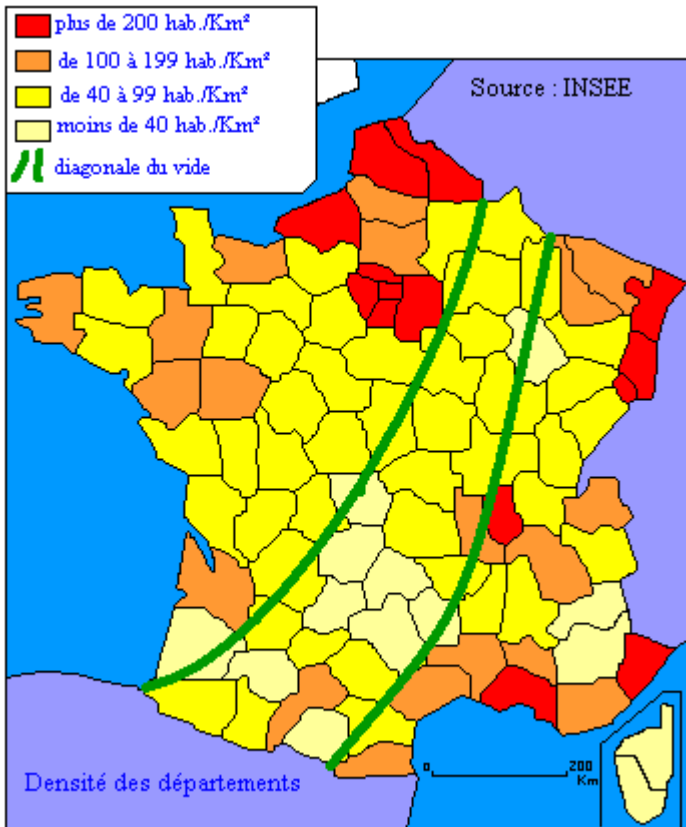


La densité de la population française.

Regarde la carte de gauche, les départements où il y a le plus d'habitants sont en rouge. Les départements où il y a le moins d'habitants sont en beige.

Carte de gauche



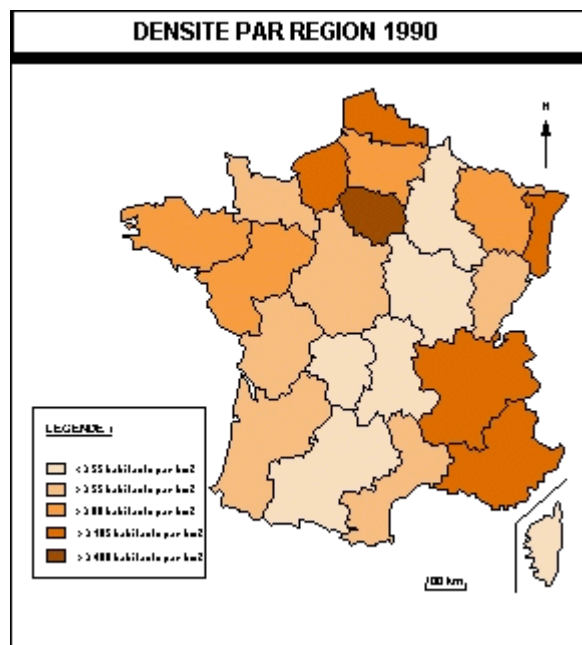
Carte de droite



En regardant les deux cartes, coche dans la liste suivante le nom des départements où il y a le plus de monde qui habite.

- | | | | |
|------------------------------|--------------------------------------|--|--------------------------------------|
| <input type="radio"/> Nord | <input type="radio"/> Corse | <input type="radio"/> Pas de Calais | <input type="radio"/> Alpes maritime |
| <input type="radio"/> Creuse | <input type="radio"/> Seine maritime | <input type="radio"/> Meuse | <input type="radio"/> Côte d'or |
| <input type="radio"/> Isère | <input type="radio"/> Dordogne | <input type="radio"/> Bouches du Rhône | <input type="radio"/> Seine et marne |
| <input type="radio"/> Rhône | <input type="radio"/> Sarthe | <input type="radio"/> Ardèche | <input type="radio"/> Bas Rhin |
| <input type="radio"/> Drôme | <input type="radio"/> Haut Rhin | <input type="radio"/> Haute Savoie | <input type="radio"/> Aisne |

Cette nouvelle carte, présente la densité de la population française par région. La densité est le nombre d'habitants par kilomètre carré de la surface de la région. Plus le marron qui colorie la région est foncé, plus cette région contient de nombreux habitants.



La carte ci-dessous te donne le nom de chaque région française.

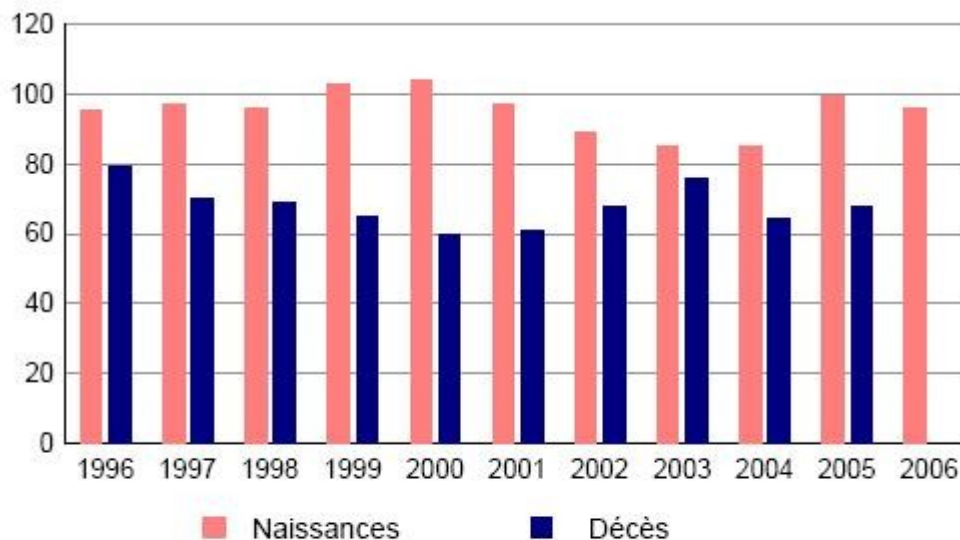


Classe les étiquettes des régions dans ce tableau en fonction du nombre d'habitants au km² qu'elles abritent.

De très très nombreux habitants				Peu d'habitants au km ²

Nord-Pas de calais	Ile de France	Lorraine	Picardie	Centre
Basse-Normandie	Franche Comté	Bourgogne	Limousin	Bretagne
Haute -Normandie	Pays de Loire	Auvergne	Midi-Pyrénées	Corse
Provence Alpes Côte d'Azur	Poitou Charentes	Rhône Alpes	Languedoc-Roussillon	Alsace
Champagne-Ardennes				

Le graphique qui est présenté ci-dessous représente l'évolution des naissances et des morts d'année en année dans un village.



Source : Insee, Etat civil
(naissances de 1996 à 2006 - décès de 1996 à 2005)

1. en quelle année y a-t-il eu 100 naissances dans ce village ?
2. en quelle année y a-t-il eu 60 décès (= personnes qui sont mortes) ?
3. Combien y a-t-il eu de décès en 1996 ?
4. En quelles années y a-t-il eu plus de 100 naissances ?