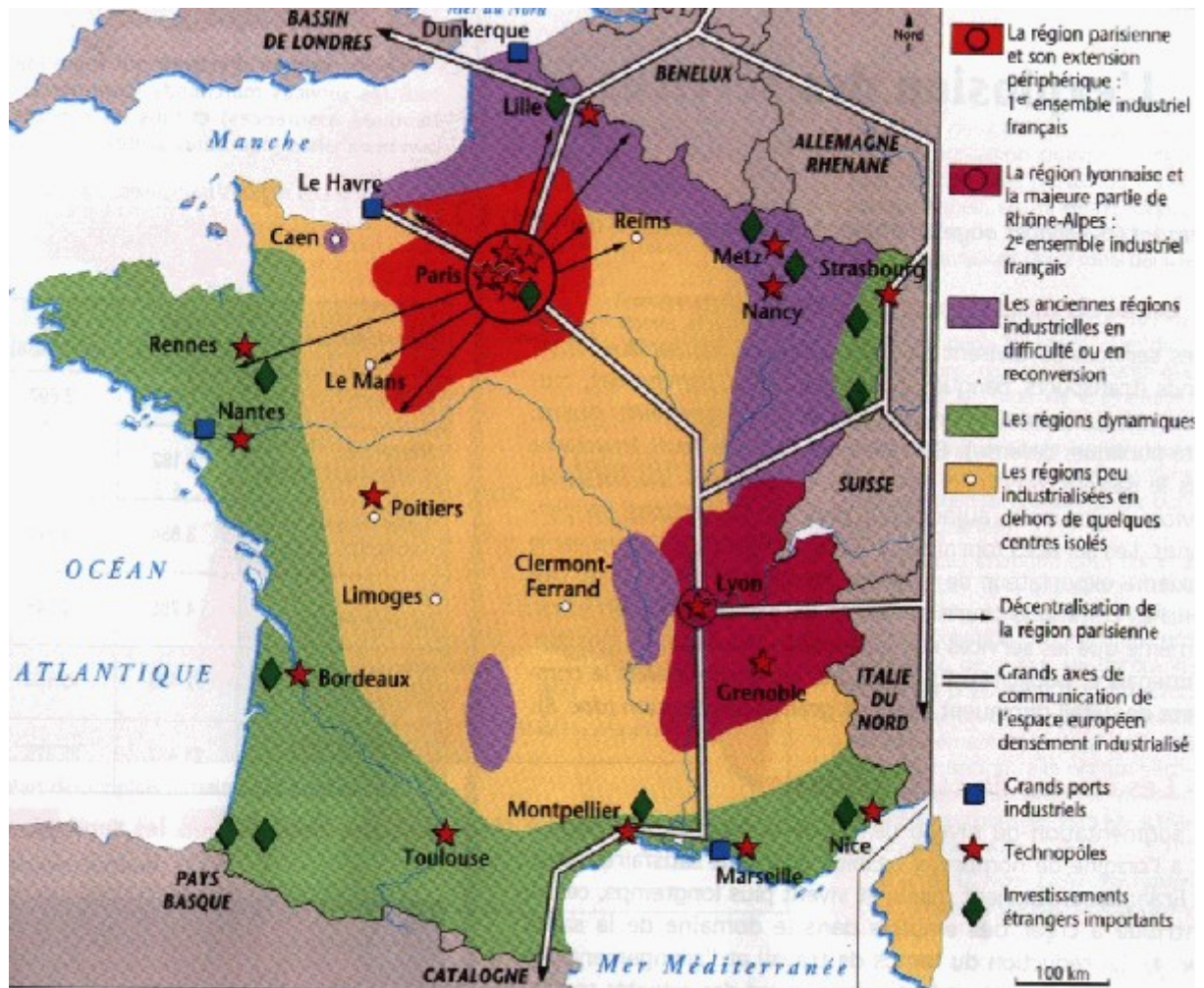







Les grandes régions industrielles françaises.

Regarde cette carte qui présente les grandes régions industrielles françaises et répond aux questions.



Relie la couleur sur la carte à l'industrialisation de la région concernée.

	●	●	Au nord et à l'est, on trouve les anciennes régions industrielles qui sont en difficultés.
	●	●	Paris et ses alentours représentent la première région industrielle de France.
	●	●	A l'ouest et au sud, on trouve des régions dynamiques qui se développent au niveau industriel.
	●	●	Lyon et la plus grande partie de la région Rhône Alpes représente la deuxième région industrielle de France.
	●	●	Au centre, on trouve des régions très peu industrialisées.

Les étoiles rouges indiquent les villes qui sont des **technopoles**. Ce sont des villes où il y a de nombreuses entreprises mais aussi des centres de recherches et des universités.

Coche dans la liste proposée, les villes qui sont des technopoles.

<input type="radio"/> Limoges	<input type="radio"/> Caen	<input type="radio"/> Bordeaux
<input type="radio"/> Poitiers	<input type="radio"/> Dunkerque	<input type="radio"/> Marseille
<input type="radio"/> Toulouse	<input type="radio"/> Reims	<input type="radio"/> Nice

Indique le nom d'une ville qui est dans chacune des zones concernées :

- est dans la première région industrielle de France.
- est dans la deuxième région industrielle de France.
- est dans les anciennes régions industrielles de France qui sont en difficultés.
- est dans une région dynamique.
- est dans une région peu industrialisée.



Donne le nom des trois grands ports industriels français :

1.
2.
3.

Quelques grands secteurs industriels :

Regarde cette photo :



Ces femmes fabriquent des médicaments. On dit qu'elles travaillent dans l'industrie pharmaceutique.



Où seront vendus les médicaments que ces dames fabriquent ?

Les médicaments sont vendus dans

Regarde cette photo :



Cette usine fabrique des produits chimiques. Ce sont des produits qui sont fabriqués par l'homme pour lui rendre service.



Coche dans le tableau pour indiquer si chaque produit est un produit naturel ou un produit chimique.

	Produit chimique	Produit naturel
Le lait		
Le plastique		
Les pesticides		
Le fumier		
Le miel		
La lessive		

L'industrie agroalimentaire fabrique les produits que l'on mange ou que l'on boit.

Sur cette photo, fabrication de bouteilles de jus de fruits.



Sur cette photo, mise en boîte de conserve d'un aliment.



Où sont vendus les produits fabriqués par l'industrie agro-alimentaires ?

Les produits fabriqués par l'industrie agro-alimentaires sont vendus