

Combien de temps a vécu ce personnage ?

Pour calculer combien de temps a vécu un personnage, on fait une soustraction entre l'année de sa mort et l'année de sa naissance.

Calcule combien d'années ont vécu le personnage suivant :

Nom du personnage	Année de naissance	Année de sa mort.
 Magellan	1480	1521

	○	○	○	

Magellan a vécu ..... ans.

Combien de temps a vécu ce personnage ?

Pour calculer combien de temps a vécu un personnage, on fait une soustraction entre l'année de sa mort et l'année de sa naissance.

Calcule combien d'années ont vécu le personnage suivant :

Nom du personnage	Année de naissance	Année de sa mort.
 Charlemagne	742	814

	□	□	□	□
		○	○	○
□	□	□	□	□
		○	○	○
□	□	□	□	□

Charlemagne a vécu ..... ans.

## Combien de temps a vécu ce personnage ?

Pour calculer combien de temps a vécu un personnage, on fait une soustraction entre l'année de sa mort et l'année de sa naissance.

Calcule combien d'années ont vécu le personnage suivant :

Nom du personnage	Année de naissance	Année de sa mort.
 <b>Clovis</b>	<b>466</b>	<b>511</b>

	○	○	○	




--	--	--	--	--

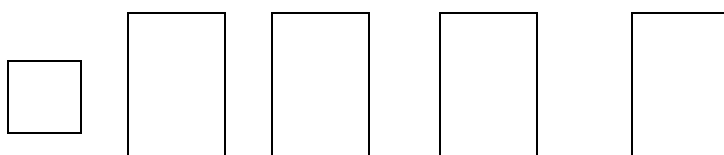
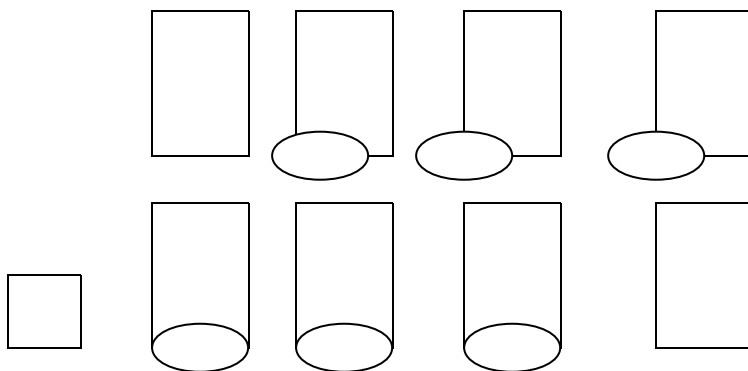
**Clovis a vécu ..... ans.**

Combien de temps a vécu ce personnage ?

Pour calculer combien de temps a vécu un personnage, on fait une soustraction entre l'année de sa mort et l'année de sa naissance.

Calcule combien d'années ont vécu le personnage suivant :

Nom du personnage	Année de naissance	Année de sa mort.
 Louis XIV	1638	1715



Louis XIV a vécu ..... ans.

Combien de temps a vécu ce personnage ?

Pour calculer combien de temps a vécu un personnage, on fait une soustraction entre l'année de sa mort et l'année de sa naissance.

Calcule combien d'années ont vécu le personnage suivant :

Nom du personnage	Année de naissance	Année de sa mort.
 Napoléon	1769	1821

	○	○	○	

Napoléon a vécu ..... ans.

Combien de temps a vécu ce personnage ?

Pour calculer combien de temps a vécu un personnage, on fait une soustraction entre l'année de sa mort et l'année de sa naissance.

Calcule combien d'années ont vécu le personnage suivant :

Nom du personnage	Année de naissance	Année de sa mort.
 Jean Jaurès	1859	1914


	○	○	○	

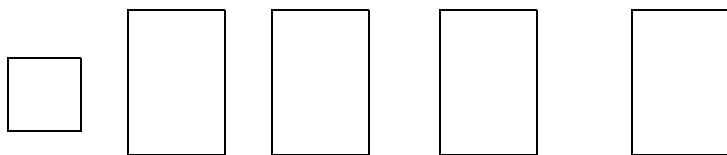
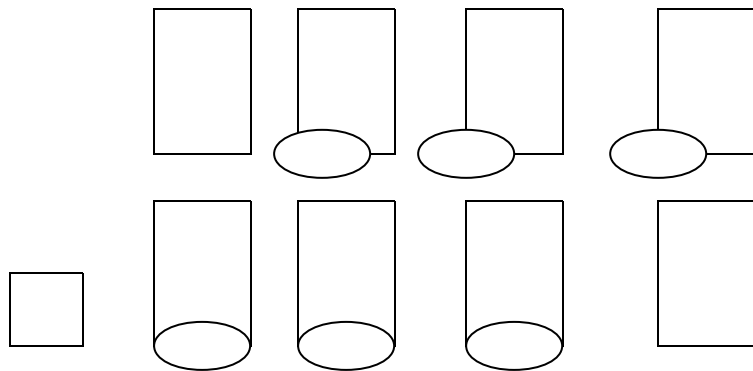
Jean Jaurès a vécu ..... ans.

Combien de temps a vécu ce personnage ?

Pour calculer combien de temps a vécu un personnage, on fait une soustraction entre l'année de sa mort et l'année de sa naissance.

Calcule combien d'années ont vécu le personnage suivant :

Nom du personnage	Année de naissance	Année de sa mort.
 Charles De Gaulle	1890	1970



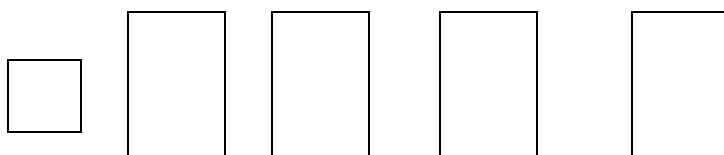
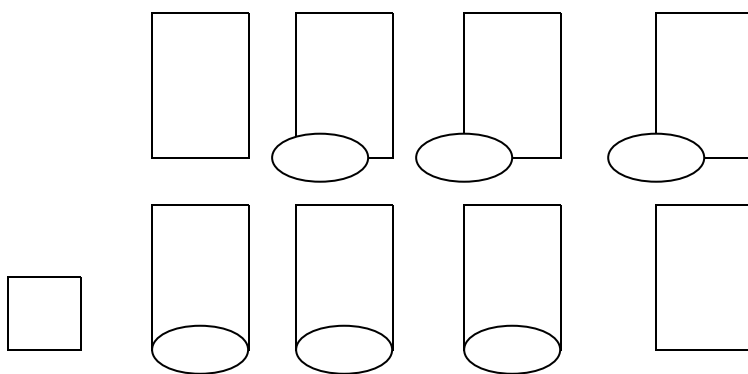
Charles De Gaulle a vécu ..... ans.

Combien de temps a vécu ce personnage ?

Pour calculer combien de temps a vécu un personnage, on fait une soustraction entre l'année de sa mort et l'année de sa naissance.

Calcule combien d'années ont vécu le personnage suivant :

Nom du personnage	Année de naissance	Année de sa mort.
 Jean Moulin	1899	1943



Jean Moulin a vécu ..... ans.



Combien de temps a vécu ce personnage ?

Pour calculer combien de temps a vécu un personnage, on fait une soustraction entre l'année de sa mort et l'année de sa naissance.

Calcule combien d'années ont vécu le personnage suivant :

Nom du personnage	Année de naissance	Année de sa mort.
 <p>Jeanne D'arc</p>	1412	1431


	○	○	○	
	○	○	○	

Jeanne d'Arc a vécu ..... ans.

Combien de temps a vécu ce personnage ?

Pour calculer combien de temps a vécu un personnage, on fait une soustraction entre l'année de sa mort et l'année de sa naissance.

Calcule combien d'années ont vécu le personnage suivant :

Nom du personnage	Année de naissance	Année de sa mort.
 François 1 <sup>er</sup>	1494	1547

	○	○	○	

François 1<sup>er</sup> a vécu ..... ans.

Combien de temps a vécu ce personnage ?

Pour calculer combien de temps a vécu un personnage, on fait une soustraction entre l'année de sa mort et l'année de sa naissance.

Calcule combien d'années ont vécu le personnage suivant :

Nom du personnage	Année de naissance	Année de sa mort.
 Voltaire	1694	1778

		○	○	○


---


Voltaire a vécu ..... ans.

Combien de temps a vécu ce personnage ?

Pour calculer combien de temps a vécu un personnage, on fait une soustraction entre l'année de sa mort et l'année de sa naissance.

Calcule combien d'années ont vécu le personnage suivant :

Nom du personnage	Année de naissance	Année de sa mort.
 Gandhi	1869	1948

	○	○	○	

Gandhi a vécu ..... ans.