


# L'Égypte ancienne

Regarde ce dessin.



Quel fleuve traverse l'Égypte du Sud au Nord ?

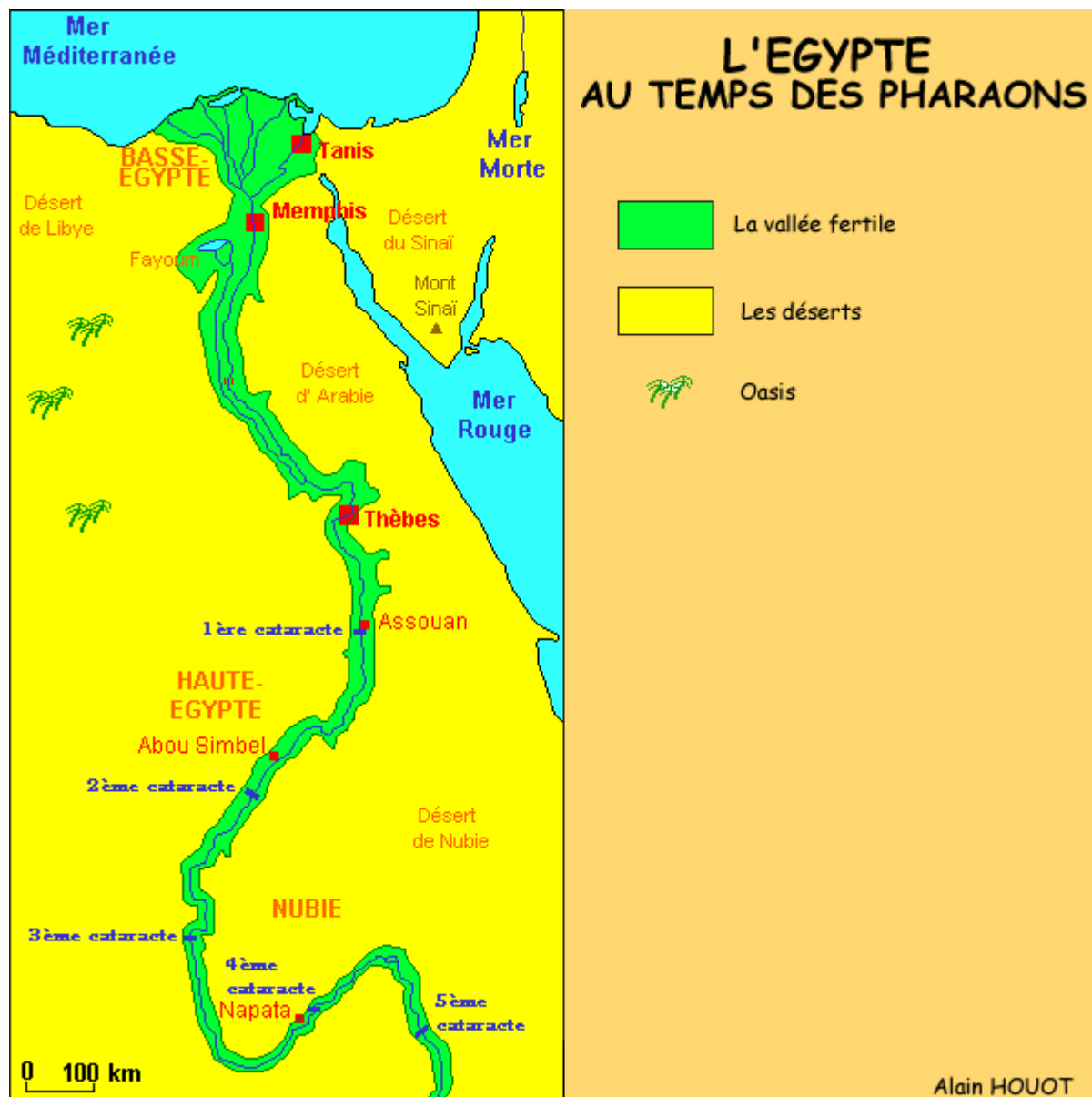
Le fleuve qui traverse l'Égypte s'appelle .....

Où se jette - t - il ?

Le fleuve qui traverse l'Égypte se jette dans

.....

Regarde la carte ci-dessous.



Quel est le milieu naturel dominant en Egypte ?

Le milieu naturel qui domine alors en Egypte est le

.....

Où vivent la majorité des Egyptiens alors ?

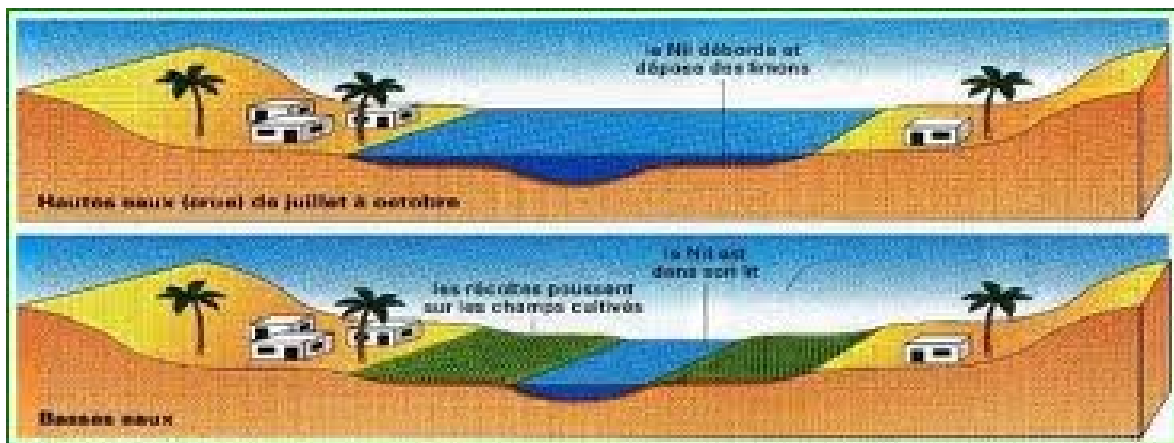
La majorité des Egyptiens vivent alors

.....

La crue annuelle du fleuve fertilisait la vallée du Nil permettant les cultures agricoles du pays. En effet, lors de l'inondation, du limon noir était déposé dans la vallée rendant ainsi la terre très fertile.

La crue du Nil a lieu tous les ans de juillet à novembre.

Regarde ces deux images :



Sur la première image, le Nil est en crue.  
Sur la deuxième image, le Nil est revenu dans son lit.

Qu'est-ce que cela veut dire que le Nil est en crue.

Pourquoi est-ce que la crue du Nil est intéressante pour les égyptiens ?