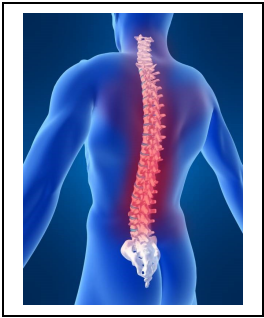
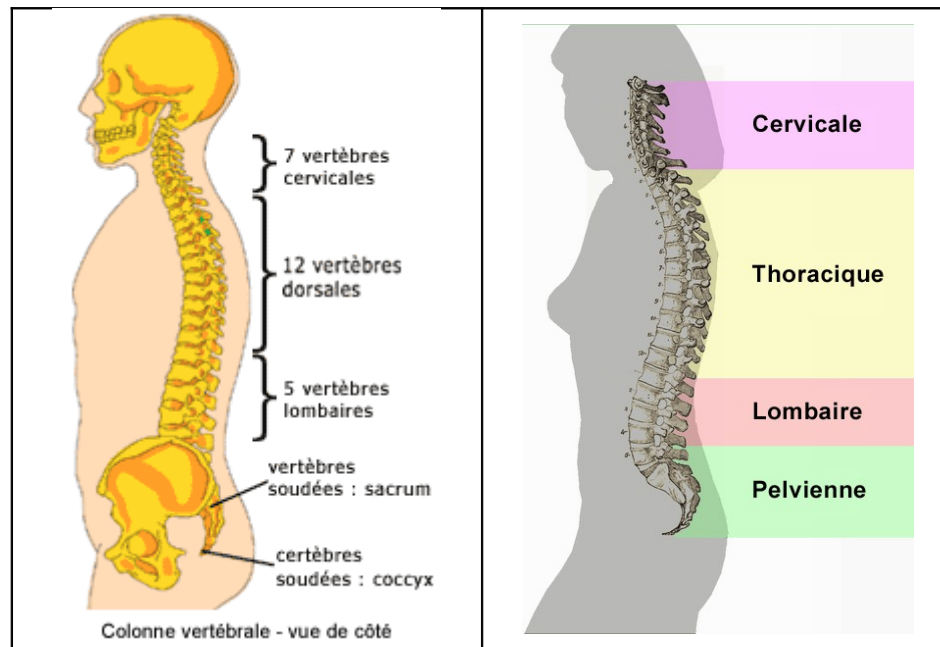


## Les vertébrés.



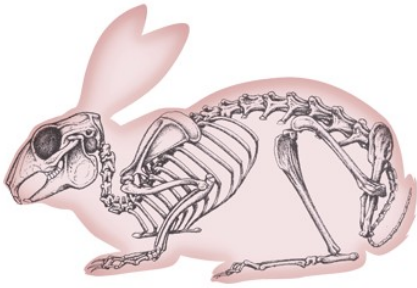
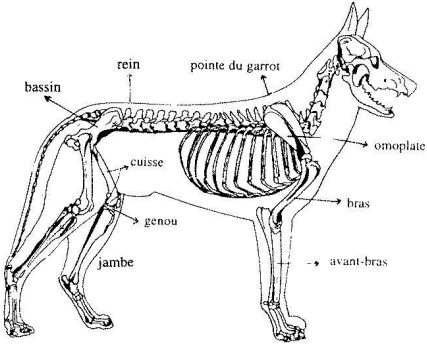
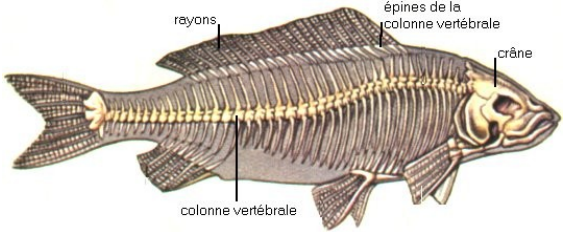


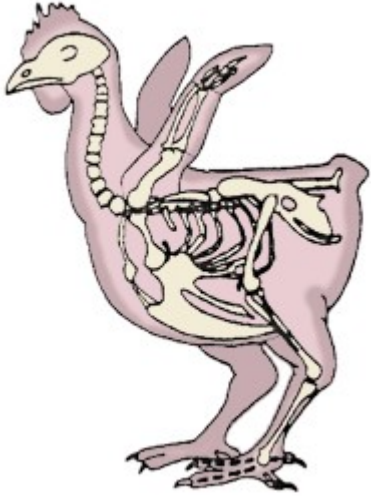
On appelle les animaux vertébrés, tous les animaux qui ont une **colonne vertébrale**.

Les hommes et les femmes ont une colonne vertébrale comme tu peux le voir sur les dessins ci-dessous.



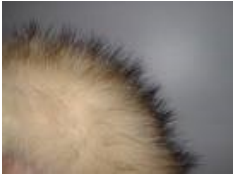










De nombreux animaux ont une colonne vertébrale et sont donc **des vertébrés**.

Colorie la colonne vertébrale sur le squelette des animaux qui te sont proposés ci-dessous.

	 <p>reins, bassin, pointe du garrot, omoplate, bras, avant-bras, cuisse, genou, jambe</p>	 <p>rayons, épines de la colonne vertébrale, crâne, colonne vertébrale</p>
<p>Le lapin</p>	<p>Le chien</p>	<p>Le poisson</p>
		
<p>La grenouille</p>	<p>Le serpent</p>	<p>La poule</p>

Sur sa peau, un vertébré peut avoir :

<p>Des poils (= les mammifères)</p>			
<p>Des plumes (= les oiseaux)</p>			
<p>Rien du tout. La peau est nue (= les amphibiens)</p>			
<p>Des écailles non soudées (= les poissons)</p>			
<p>Des écailles soudées (= les reptiles)</p>			

Tous les animaux qui sont présentés ici sont des vertébrés. Cela veut dire qu'ils ont une colonne vertébrale.

Indique à quelle classe ils appartiennent. Entoure la bonne réponse.



mammifère      reptile      poisson      amphibien      oiseau



mammifère      reptile      poisson      amphibien      oiseau



mammifère      reptile      poisson      amphibien      oiseau



mammifère      reptile      poisson      amphibien      oiseau



mammifère      reptile      poisson      amphibien      oiseau

Tous les animaux qui sont présentés ici sont des vertébrés. Cela veut dire qu'ils ont une colonne vertébrale.

Indique à quelle classe ils appartiennent. Entoure la bonne réponse.



Un maquereau

mammifère      reptile      poisson      amphibien      oiseau



Un caméléon

mammifère      reptile      poisson      amphibien      oiseau



Un tigre

mammifère      reptile      poisson      amphibien      oiseau



Un triton

mammifère      reptile      poisson      amphibien      oiseau



Une buse

mammifère      reptile      poisson      amphibien      oiseau

Tous les animaux qui sont présentés ici sont des vertébrés. Cela veut dire qu'ils ont une colonne vertébrale.

Indique à quelle classe ils appartiennent. Entoure la bonne réponse.



Un python

mammifère      reptile      poisson      amphibien      oiseau



rainette

mammifère      reptile      poisson      amphibien      oiseau



Une truite

mammifère      reptile      poisson      amphibien      oiseau



Un aigle

mammifère      reptile      poisson      amphibien      oiseau



Un ours blanc

mammifère      reptile      poisson      amphibien      oiseau

Tous les animaux qui sont présentés ici sont des vertébrés. Cela veut dire qu'ils ont une colonne vertébrale.

Indique à quelle classe ils appartiennent. Entoure la bonne réponse.



mammifère      reptile      poisson      amphibien      oiseau



mammifère      reptile      poisson      amphibien      oiseau



mammifère      reptile      poisson      amphibien      oiseau



mammifère      reptile      poisson      amphibien      oiseau



mammifère      reptile      poisson      amphibien      oiseau

Tous les animaux qui sont présentés ici sont des vertébrés. Cela veut dire qu'ils ont une colonne vertébrale.

Indique à quelle classe ils appartiennent. Entoure la bonne réponse.



Un crocodile

mammifère

reptile

poisson

amphibien

oiseau



Un cheval

mammifère

reptile

poisson

amphibien

oiseau



Une grenouille

mammifère

reptile

poisson

amphibien

oiseau



Un saumon

mammifère

reptile

poisson

amphibien

oiseau



Un canard

mammifère

reptile

poisson

amphibien

oiseau



Tous les animaux qui sont présentés ici sont des vertébrés. Cela veut dire qu'ils ont une colonne vertébrale.

Indique à quelle classe ils appartiennent. Entoure la bonne réponse.



Une vipère

mammifère

reptile

poisson

amphibien

oiseau



Un perroquet

mammifère

reptile

poisson

amphibien

oiseau



Un triton marbré

mammifère

reptile

poisson

amphibien

oiseau



Un zèbre

mammifère

reptile

poisson

amphibien

oiseau



Une truite

mammifère

reptile

poisson

amphibien

oiseau

Tous les animaux qui sont présentés ici sont des vertébrés. Cela veut dire qu'ils ont une colonne vertébrale.

Indique à quelle classe ils appartiennent. Entoure la bonne réponse.



Une poule

mammifère      reptile      poisson      amphibien      oiseau



Une salamandre

mammifère      reptile      poisson      amphibien      oiseau



Une carpe

mammifère      reptile      poisson      amphibien      oiseau



Un castor

mammifère      reptile      poisson      amphibien      oiseau



Une couleuvre

mammifère      reptile      poisson      amphibien      oiseau

Tous les animaux qui sont présentés ici sont des vertébrés. Cela veut dire qu'ils ont une colonne vertébrale.

Indique à quelle classe ils appartiennent. Entoure la bonne réponse.



Un orvet

mammifère

reptile

poisson

amphibien

oiseau



Un lapin

mammifère

reptile

poisson

amphibien

oiseau



Une autruche

mammifère

reptile

poisson

amphibien

oiseau



Une rainette

mammifère

reptile

poisson

amphibien

oiseau



Un brochet

mammifère

reptile

poisson

amphibien

oiseau

Tous les animaux qui sont présentés ici sont des vertébrés. Cela veut dire qu'ils ont une colonne vertébrale.

Indique à quelle classe ils appartiennent. Entoure la bonne réponse.



Un héron

mammifère      reptile      poisson      amphibien      oiseau



Une perche

mammifère      reptile      poisson      amphibien      oiseau



Un boa

mammifère      reptile      poisson      amphibien      oiseau



Un chat

mammifère      reptile      poisson      amphibien      oiseau



Un crapaud

mammifère      reptile      poisson      amphibien      oiseau

Tous les animaux qui sont présentés ici sont des vertébrés. Cela veut dire qu'ils ont une colonne vertébrale.

Indique à quelle classe ils appartiennent. Entoure la bonne réponse.



Un iguane

mammifère      reptile      poisson      amphibien      oiseau



Une ablette

mammifère      reptile      poisson      amphibien      oiseau



Une grenouille

mammifère      reptile      poisson      amphibien      oiseau



Une cigogne

mammifère      reptile      poisson      amphibien      oiseau



Un chamois

mammifère      reptile      poisson      amphibien      oiseau

Tous les animaux qui sont présentés ici sont des vertébrés. Cela veut dire qu'ils ont une colonne vertébrale.

Indique à quelle classe ils appartiennent. Entoure la bonne réponse.



Une tourterelle

mammifère      reptile      poisson      amphibien      oiseau



Un cerf

mammifère      reptile      poisson      amphibien      oiseau



Un triton alpestre

mammifère      reptile      poisson      amphibien      oiseau



Un lézard

mammifère      reptile      poisson      amphibien      oiseau



Un goujon

mammifère      reptile      poisson      amphibien      oiseau

Tous les animaux qui sont présentés ici sont des vertébrés. Cela veut dire qu'ils ont une colonne vertébrale.

Indique à quelle classe ils appartiennent. Entoure la bonne réponse.



Un kangourou

mammifère      reptile      poisson      amphibien      oiseau



Un pigeon

mammifère      reptile      poisson      amphibien      oiseau



Un anaconda

mammifère      reptile      poisson      amphibien      oiseau



Une salamandre

mammifère      reptile      poisson      amphibien      oiseau



Un carassin

mammifère      reptile      poisson      amphibien      oiseau