


Pour trouver quel est le nombre décimal le plus grand, je regarde d'abord la partie entière.



Qui est le plus grand ?

5.34		5.59
------	--	------


14.607		14.67
--------	--	-------

8.1		7.99
-----	--	------

14.012		14.12
--------	--	-------

7.560		7.56
-------	--	------

Pour trouver quel est le nombre décimal le plus grand, je regarde d'abord la partie entière.



Qui est le plus grand ?

84.901		84.91
--------	--	-------


59.6		59.600
------	--	--------

0.999		1
-------	--	---

68.5		68.51
------	--	-------

30.04		31.4
-------	--	------

Pour trouver quel est le nombre décimal le plus grand, je regarde d'abord la partie entière.



Qui est le plus grand ?

2.65		5.58
------	--	------


11.014		11.01
--------	--	-------

1.29		3.29
------	--	------

0.93		0.934
------	--	-------

2.14		1.21
------	--	------

Pour trouver quel est le nombre décimal le plus grand, je regarde d'abord la partie entière.



Qui est le plus grand ?

2.9		2.74
-----	--	------


0.89		0.86
------	--	------

21.42		21.429
-------	--	--------

1.001		1.010
-------	--	-------

2.01		2.09
------	--	------

Pour trouver quel est le nombre décimal le plus grand, je regarde d'abord la partie entière.



Qui est le plus grand ?

2.69		2.48
------	--	------


1.999		1.989
-------	--	-------

24.3		24.69
------	--	-------

25.6		25
------	--	----

21.32		24.32
-------	--	-------

Pour trouver quel est le nombre décimal le plus grand, je regarde d'abord la partie entière.



Qui est le plus grand ?

3.9		3.84
-----	--	------


24.03		24.36
-------	--	-------

24.8		21.8
------	--	------

24.1		24.8
------	--	------

12.56		12.36
-------	--	-------

Pour trouver quel est le nombre décimal le plus grand, je regarde d'abord la partie entière.



Qui est le plus grand ?

2.35		2.48
------	--	------


7.05		7.032
------	--	-------

68.74		68.75
-------	--	-------

6.95		9.88
------	--	------

10.023		10.23
--------	--	-------

Pour trouver quel est le nombre décimal le plus grand, je regarde d'abord la partie entière.



Qui est le plus grand ?

1.98		1.91
------	--	------


18.001		18.005
--------	--	--------

14.81		13.69
-------	--	-------

6.5		6.23
-----	--	------

1.24		1.37
------	--	------

Pour trouver quel est le nombre décimal le plus grand, je regarde d'abord la partie entière.



Qui est le plus grand ?

1.91		1.94
------	--	------


1.76		1.46
------	--	------

736.9		731.9
-------	--	-------

76.2		76
------	--	----

30.7		30.289
------	--	--------

Pour trouver quel est le nombre décimal le plus grand, je regarde d'abord la partie entière.



Qui est le plus grand ?

2.48		2.64
------	--	------


68.5		68.59
------	--	-------

46.9		46.2
------	--	------

327.2		327.8
-------	--	-------

34.5		34.8
------	--	------

Pour trouver quel est le nombre décimal le plus grand, je regarde d'abord la partie entière.



Qui est le plus grand ?

3.84		4.02
------	--	------


312.8		327.2
-------	--	-------

12.2		12.84
------	--	-------

5.8		3.9
-----	--	-----

436.9		436.1
-------	--	-------

Pour trouver quel est le nombre décimal le plus grand, je regarde d'abord la partie entière.



Qui est le plus grand ?

2.458		2.56
-------	--	------

64.8		27.9
------	--	------

48.7		48.2
------	--	------

92.8		84.3
------	--	------

2.74		2.95
------	--	------