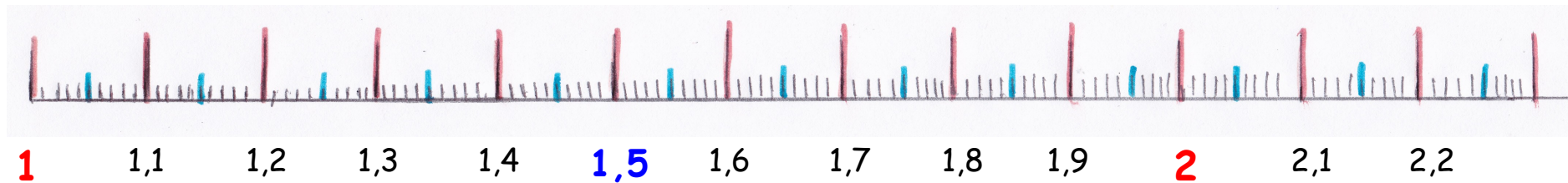


bon courage !

## Les nombres décimaux sur la droite numérique

Observe la droite numérique et place les nombres décimaux.



Place les nombres décimaux suivants :

$$H = 1,24$$

$$I = 1,37$$

$$J = 1,46$$

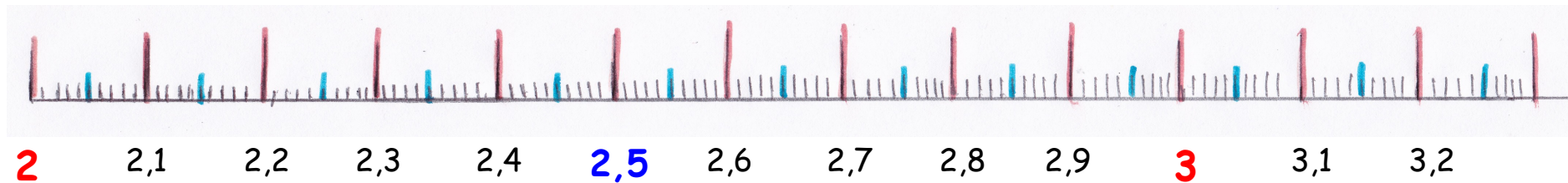
$$L = 1,76$$

## Les nombres décimaux sur la droite numérique

bon courage !



Observe la droite numérique et place les nombres décimaux.



Place les nombres décimaux suivants :

$$H = 2,65$$

$$I = 2,9$$

$$J = 2,69$$

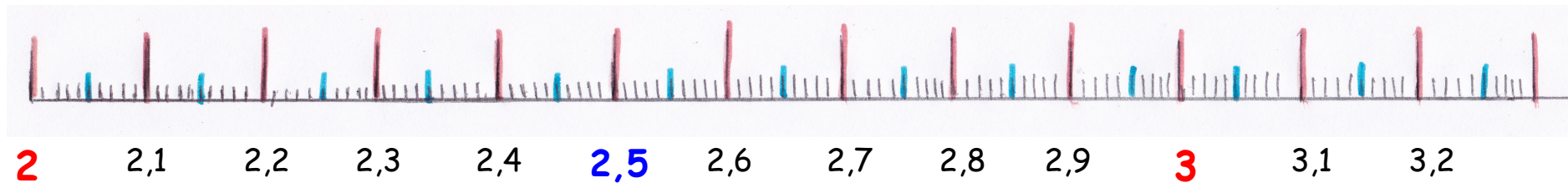
$$L = 2,35$$

## Les nombres décimaux sur la droite numérique

bon courage !



Observe la droite numérique et place les nombres décimaux.



Place les nombres décimaux suivants :

$$H = 2,58$$

$$I = 2,74$$

$$J = 2,48$$

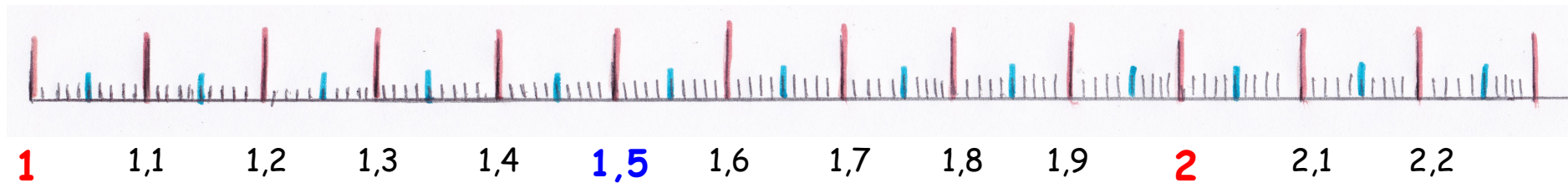
$$L = 2,95$$

## Les nombres décimaux sur la droite numérique

bon courage !



Observe la droite numérique et place les nombres décimaux.



Place les nombres décimaux suivants :

$$H = 1,98$$

$$I = 1,91$$

$$J = 1,65$$

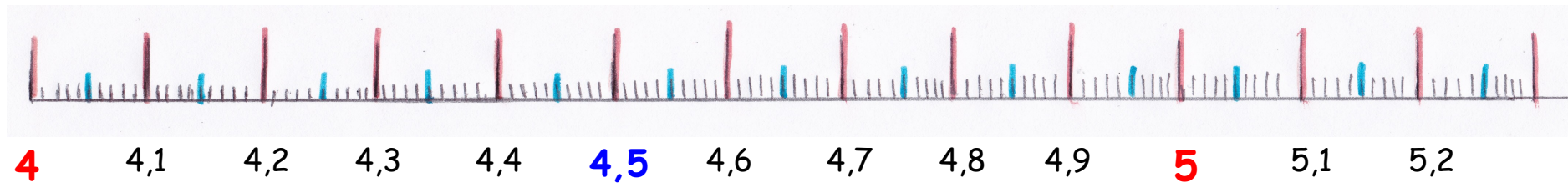
$$L = 1,37$$

## Les nombres décimaux sur la droite numérique

bon courage !



Observe la droite numérique et place les nombres décimaux.



Place les nombres décimaux suivants :

$$H = 4,21$$

$$I = 4,14$$

$$J = 5,04$$

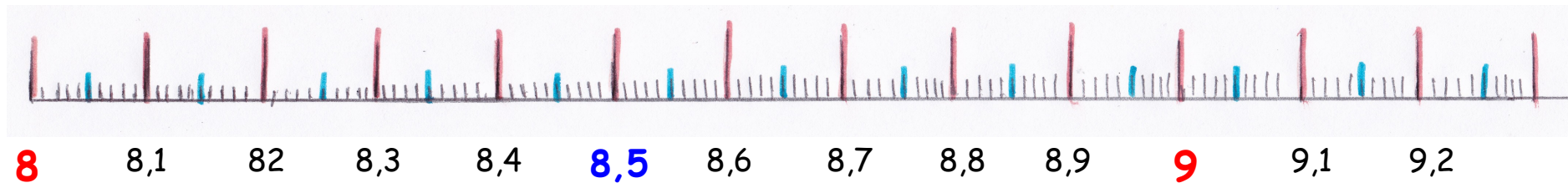
$$L = 4,56$$

## Les nombres décimaux sur la droite numérique

bon courage !



Observe la droite numérique et place les nombres décimaux.



Place les nombres décimaux suivants :

$$H = 8,56$$

$$I = 8,34$$

$$J = 8,91$$

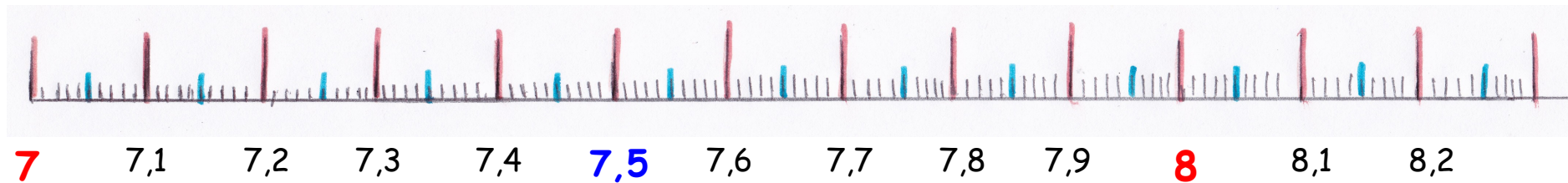
$$L = 8,4$$

## Les nombres décimaux sur la droite numérique

bon courage !



Observe la droite numérique et place les nombres décimaux.



Place les nombres décimaux suivants :

$$H = 8,12$$

$$I = 7,49$$

$$J = 7,26$$

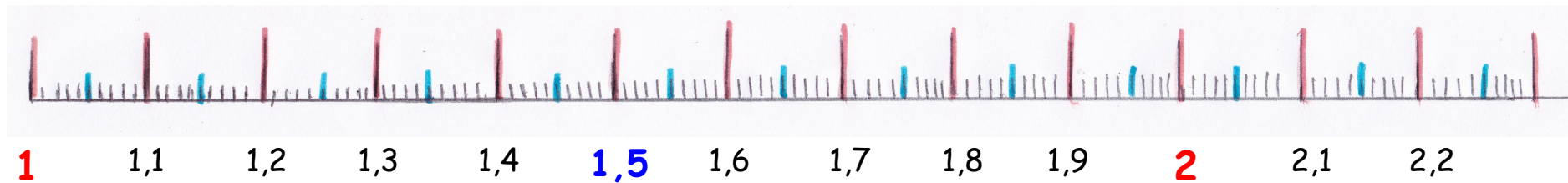
$$L = 7,84$$

## Les nombres décimaux sur la droite numérique

bon courage !



Observe la droite numérique et place les nombres décimaux.



Place les nombres décimaux suivants :

$$H = 1,36$$

$$I = 1,89$$

$$J = 1,52$$

$$L = 2,21$$

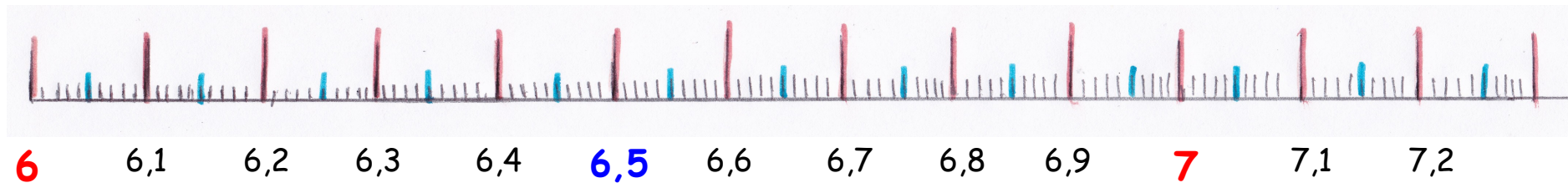


## Les nombres décimaux sur la droite numérique

bon courage !



Observe la droite numérique et place les nombres décimaux.



Place les nombres décimaux suivants :

$$H = 6,29$$

$$I = 6,66$$

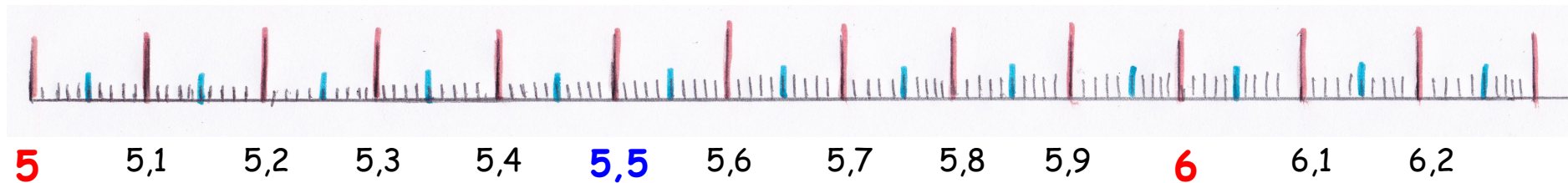
$$J = 6,92$$

$$L = 6,51$$

bon courage !

## Les nombres décimaux sur la droite numérique

Observe la droite numérique et place les nombres décimaux.



Place les nombres décimaux suivants :

$$H = 5,78$$

$$I = 5,42$$

$$J = 6,12$$

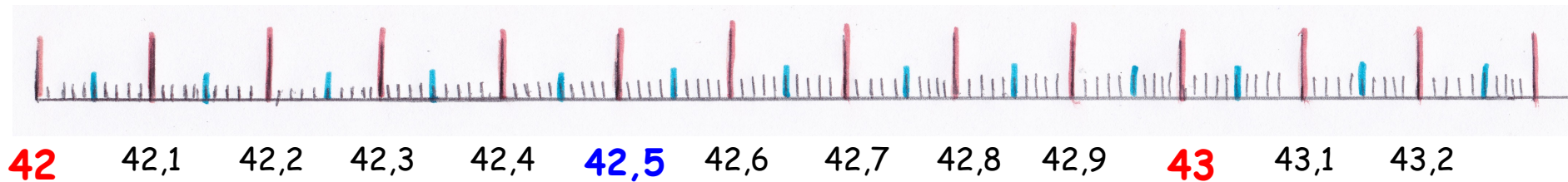
$$L = 5,05$$

## Les nombres décimaux sur la droite numérique

bon courage !



Observe la droite numérique et place les nombres décimaux.



Place les nombres décimaux suivants :

$$H = 42,59$$

$$I = 42,18$$

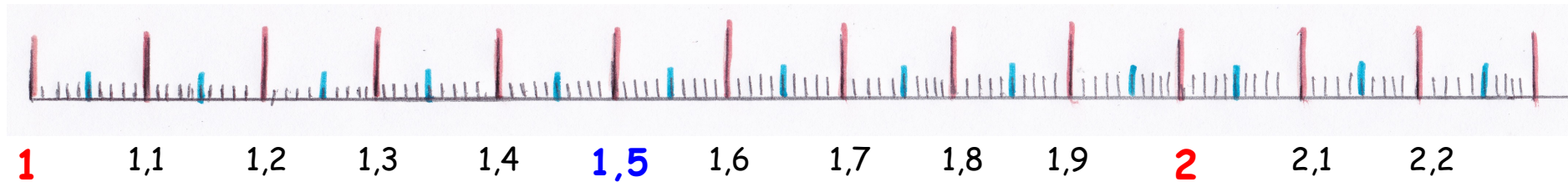
$$J = 42,44$$

$$L = 43,11$$

bon courage !

## Les nombres décimaux sur la droite numérique

Observe la droite numérique et place les nombres décimaux.



Place les nombres décimaux suivants :

$$H = 2,16$$

$$I = 1,29$$

$$J = 1,74$$

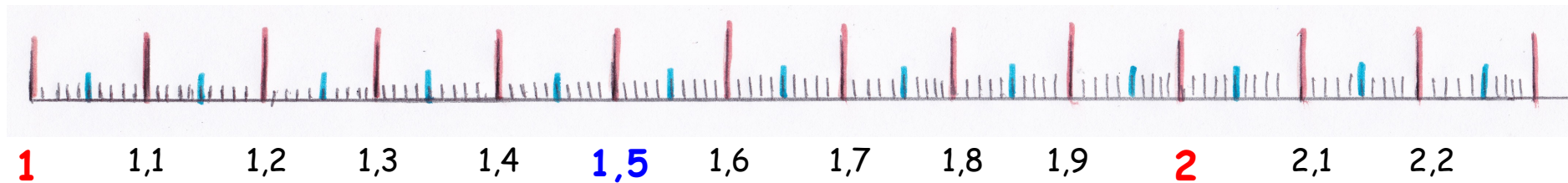
$$L = 1,18$$

## Les nombres décimaux sur la droite numérique

bon courage !



Observe la droite numérique et place les nombres décimaux.



Place les nombres décimaux suivants :

$$H = 1,98$$

$$I = 1,91$$

$$J = 1,65$$

$$L = 1,37$$