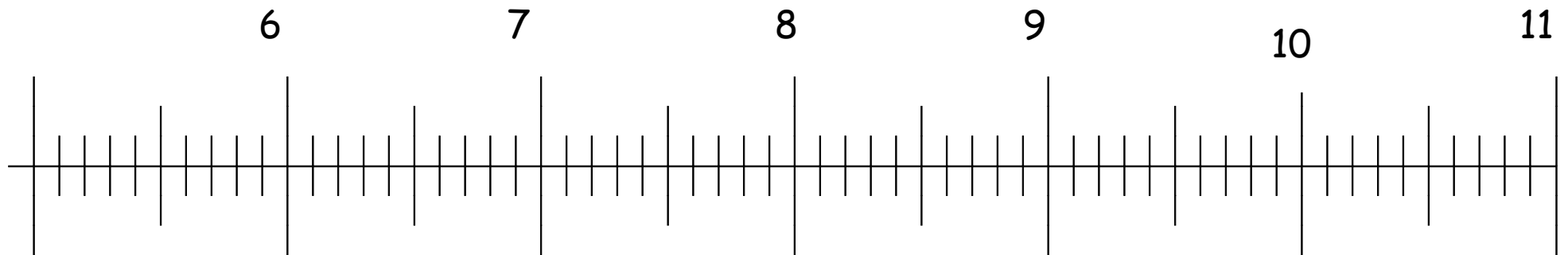




L'abscisse d'un point

On donne la droite graduée suivante :

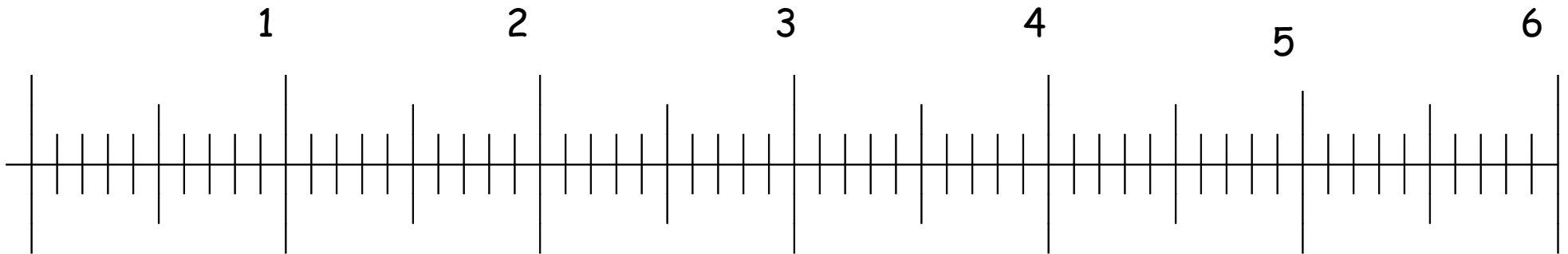


- Place, sur la droite graduée, le point A : $(7,8)$
- Place, sur la droite graduée, le point B : $(9,4)$



L'abscisse d'un point

On donne la droite graduée suivante :

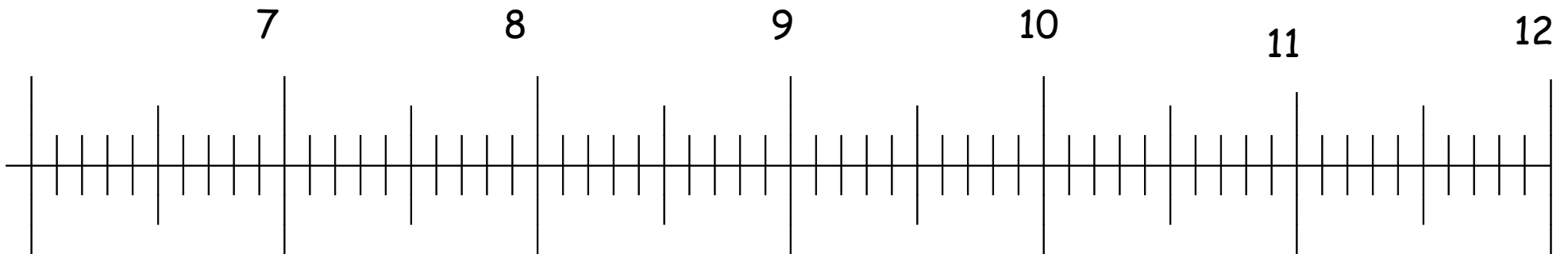


- Place, sur la droite graduée, le point A : $(3,2)$
- Place, sur la droite graduée, le point B : $(5,1)$



L'abscisse d'un point

On donne la droite graduée suivante :

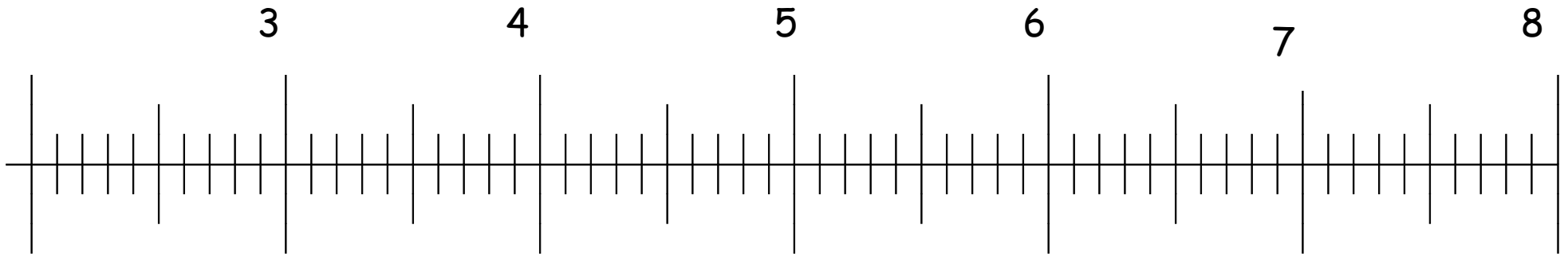


- Place, sur la droite graduée, le point A : (6,5)
- Place, sur la droite graduée, le point B : (9,2)



L'abscisse d'un point

On donne la droite graduée suivante :

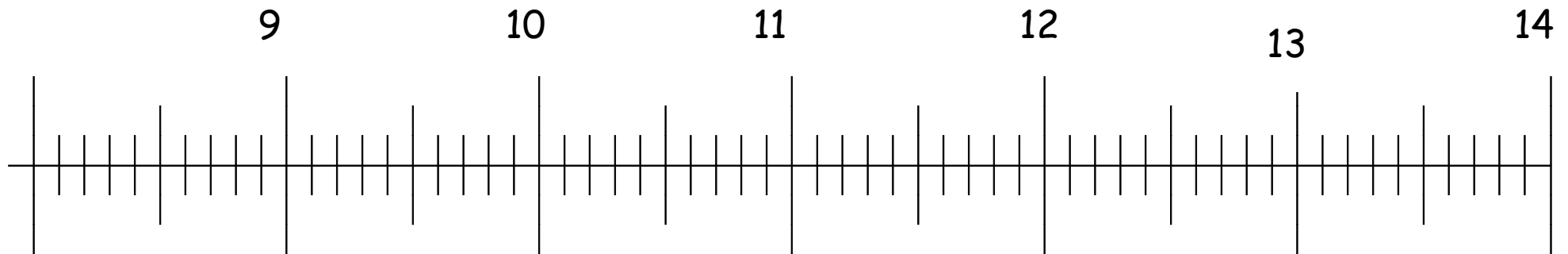


- Place, sur la droite graduée, le point A : $(4,8)$
- Place, sur la droite graduée, le point B : $(7,3)$



L'abscisse d'un point

On donne la droite graduée suivante :

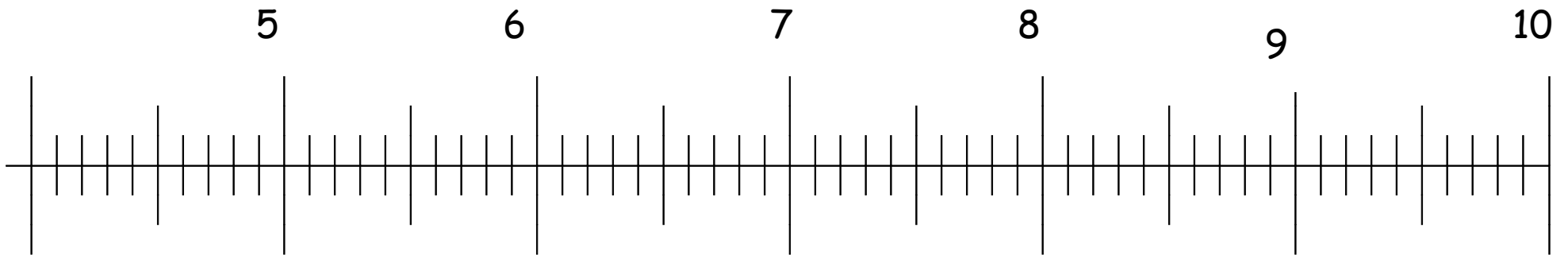


- Place, sur la droite graduée, le point A : $(9,1)$
- Place, sur la droite graduée, le point B : $(12,4)$



L'abscisse d'un point

On donne la droite graduée suivante :

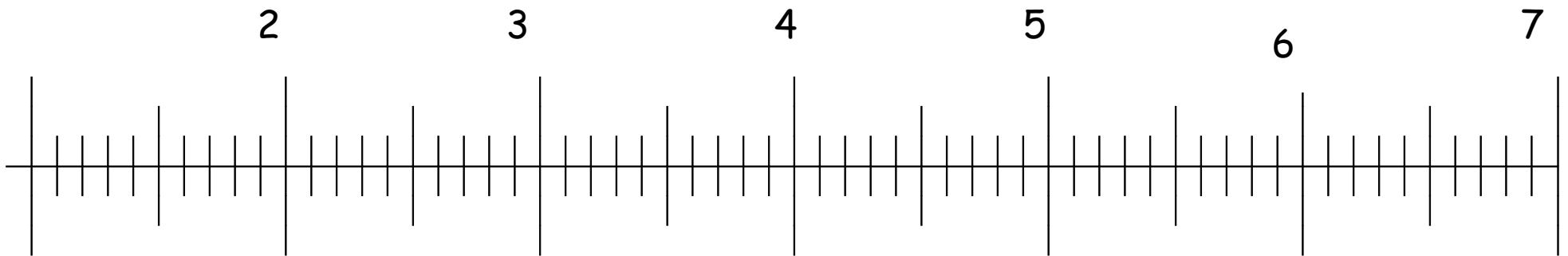


- Place, sur la droite graduée, le point A : $(5,6)$
- Place, sur la droite graduée, le point B : $(7,2)$



L'abscisse d'un point

On donne la droite graduée suivante :

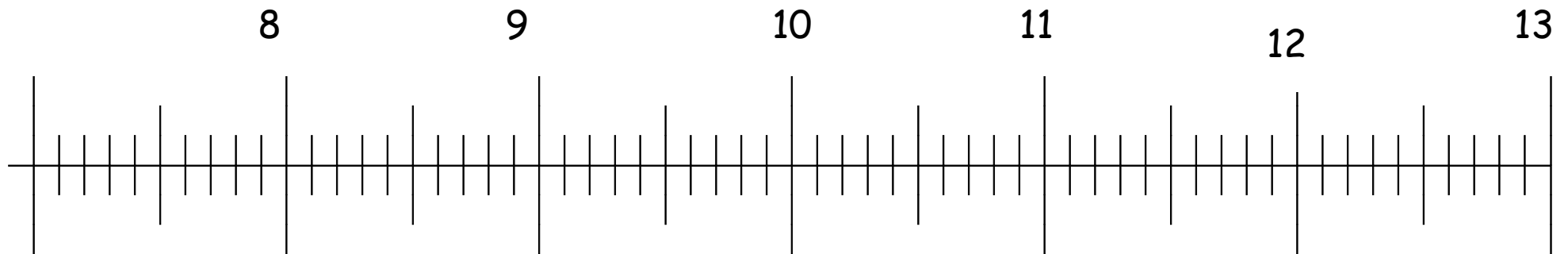


- Place, sur la droite graduée, le point A : (1,9)
- Place, sur la droite graduée, le point B : (5,5)



L'abscisse d'un point

On donne la droite graduée suivante :

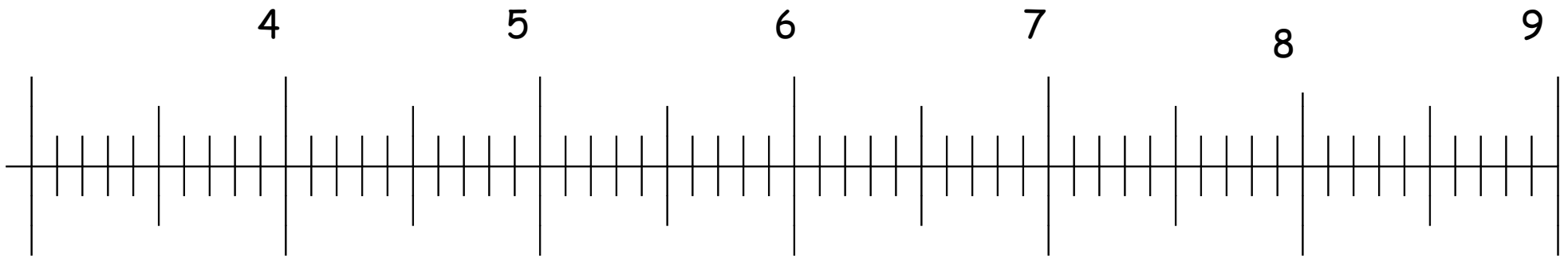


- Place, sur la droite graduée, le point A : $(8,6)$
- Place, sur la droite graduée, le point B : $(10,2)$



L'abscisse d'un point

On donne la droite graduée suivante :

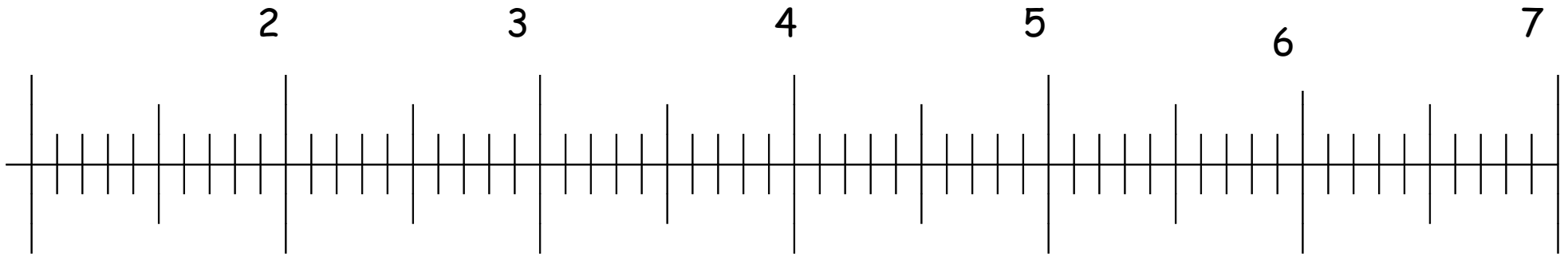


- Place, sur la droite graduée, le point A : $(7,3)$
- Place, sur la droite graduée, le point B : $(4,7)$



L'abscisse d'un point

On donne la droite graduée suivante :

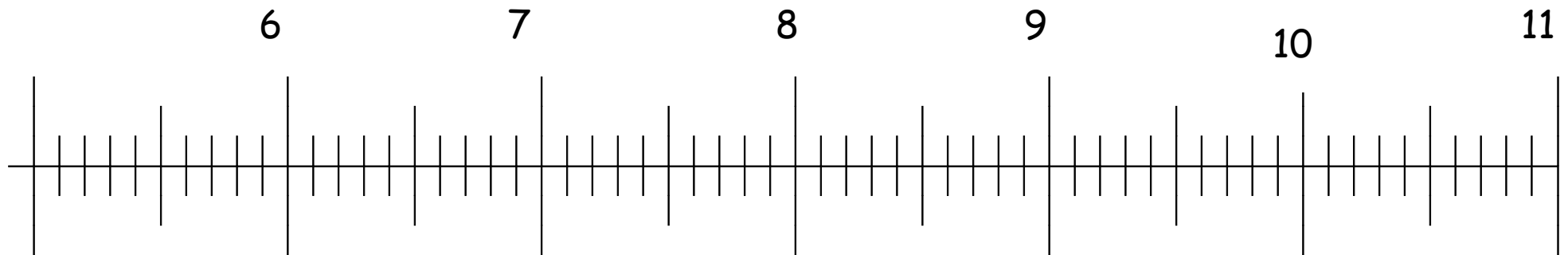


- Place, sur la droite graduée, le point A : (2,5)
- Place, sur la droite graduée, le point B : (3,9)



L'abscisse d'un point

On donne la droite graduée suivante :

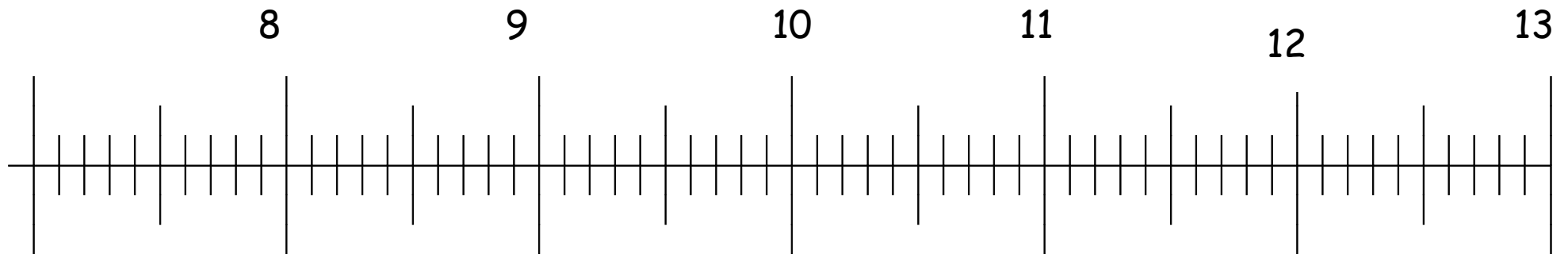


- Place, sur la droite graduée, le point A : $(6,8)$
- Place, sur la droite graduée, le point B : $(10,3)$



L'abscisse d'un point

On donne la droite graduée suivante :



- Place, sur la droite graduée, le point A : $(7,7)$
- Place, sur la droite graduée, le point B : $(9,6)$