
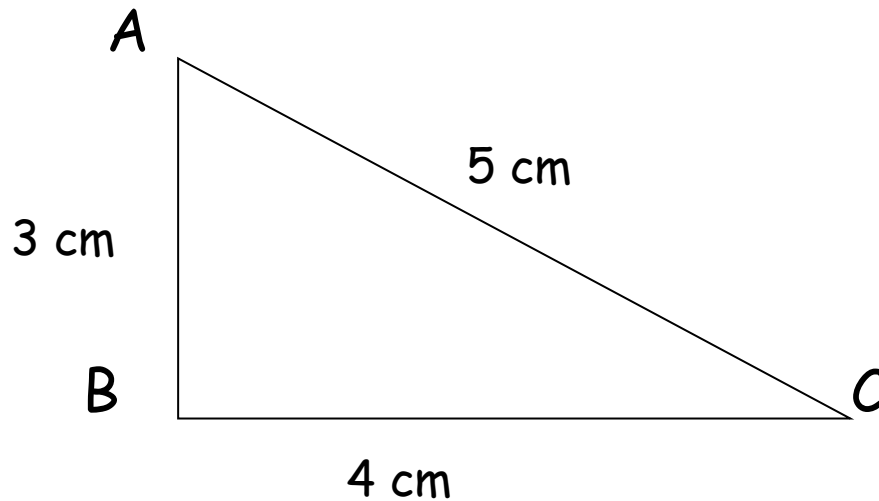


Le théorème de Pythagore



Voici un triangle rectangle :




Complète le tableau avec les bonnes valeurs et vérifie le calcul.

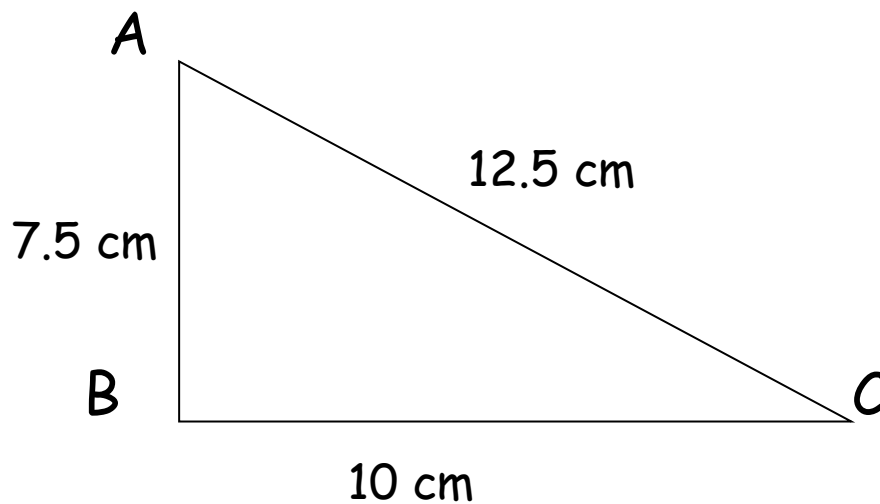
Le théorème de Pythagore.

le carré de l'hypoténuse	=	le carré d'un autre côté	+	le carré de l'autre côté
<input type="text"/>		<input type="text"/>		<input type="text"/>

Le théorème de Pythagore



Voici un triangle rectangle :




Complète le tableau avec les bonnes valeurs et vérifie le calcul.

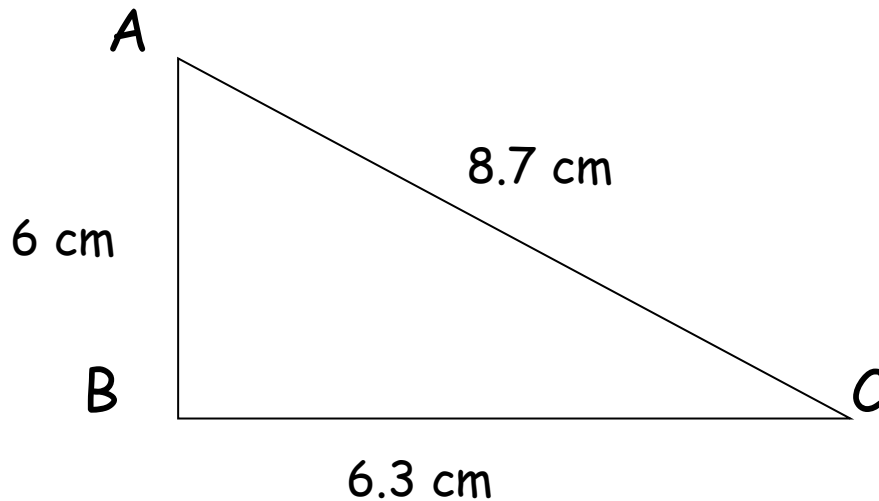
Le théorème de Pythagore.

le carré de l'hypoténuse	=	le carré d'un autre côté	+	le carré de l'autre côté
<input type="text"/>		<input type="text"/>		<input type="text"/>

Le théorème de Pythagore



Voici un triangle rectangle :




Complète le tableau avec les bonnes valeurs et vérifie le calcul.

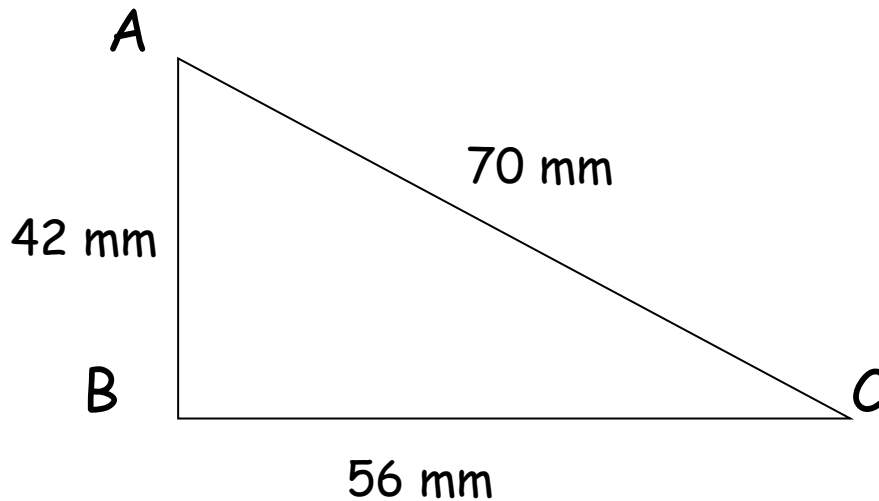
Le théorème de Pythagore.

le carré de l'hypoténuse	=	le carré d'un autre côté	+	le carré de l'autre côté
<input type="text"/>		<input type="text"/>		<input type="text"/>

Le théorème de Pythagore



Voici un triangle rectangle :




Complète le tableau avec les bonnes valeurs et vérifie le calcul.

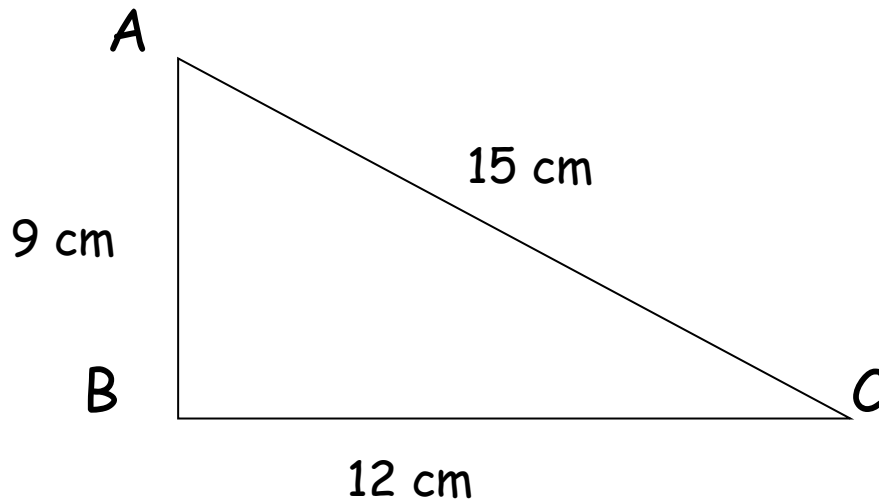
Le théorème de Pythagore.

le carré de l'hypoténuse	=	le carré d'un autre côté	+	le carré de l'autre côté
<input type="text"/>		<input type="text"/>		<input type="text"/>

Le théorème de Pythagore



Voici un triangle rectangle :




Complète le tableau avec les bonnes valeurs et vérifie le calcul.

Le théorème de Pythagore.

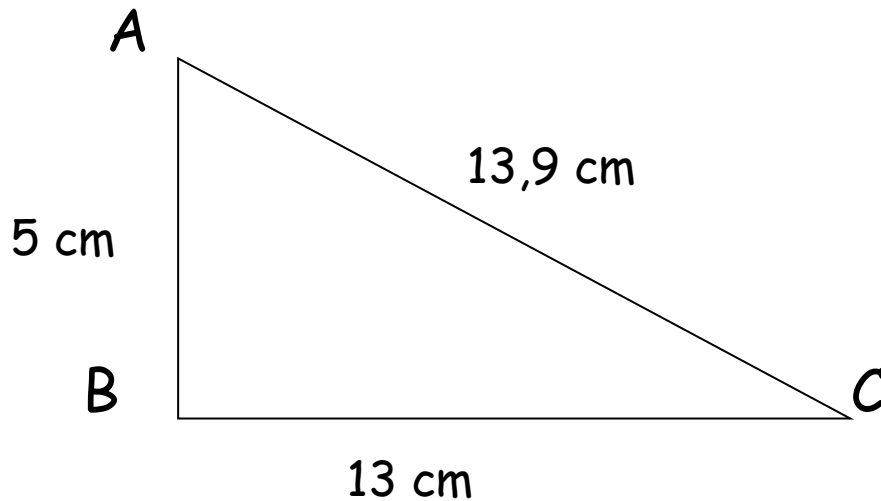
le carré de l'hypoténuse = le carré d'un autre côté + le carré de l'autre côté

--	--	--

Le théorème de Pythagore



Voici un triangle rectangle :




Complète le tableau avec les bonnes valeurs et vérifie le calcul.

Le théorème de Pythagore.

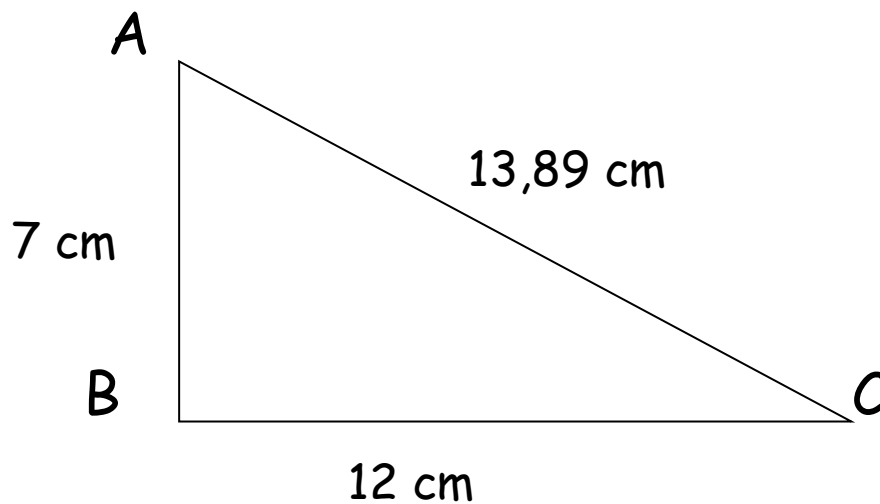
le carré de l'hypoténuse = le carré d'un autre côté + le carré de l'autre côté

<input type="text"/>	<input type="text"/>	<input type="text"/>
----------------------	----------------------	----------------------

Le théorème de Pythagore



Voici un triangle rectangle :




Complète le tableau avec les bonnes valeurs et vérifie le calcul.

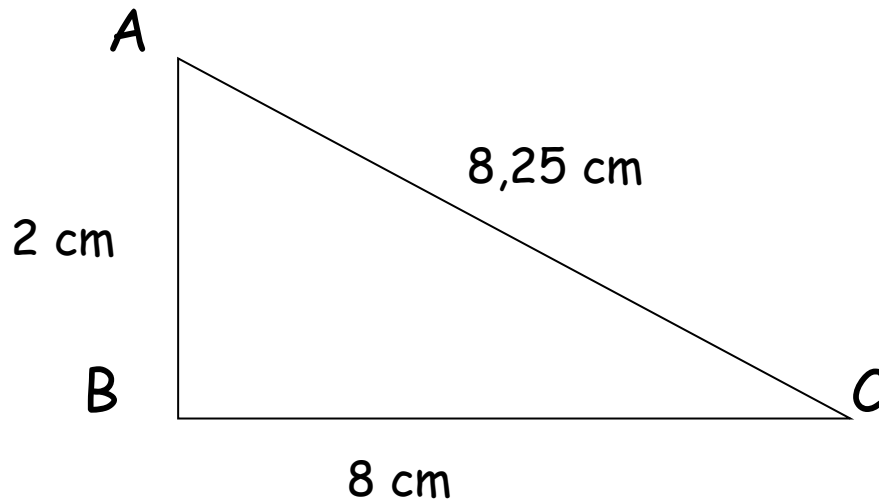
Le théorème de Pythagore.

le carré de l'hypoténuse	=	le carré d'un autre côté	+	le carré de l'autre côté
<input type="text"/>		<input type="text"/>		<input type="text"/>

Le théorème de Pythagore



Voici un triangle rectangle :




Complète le tableau avec les bonnes valeurs et vérifie le calcul.

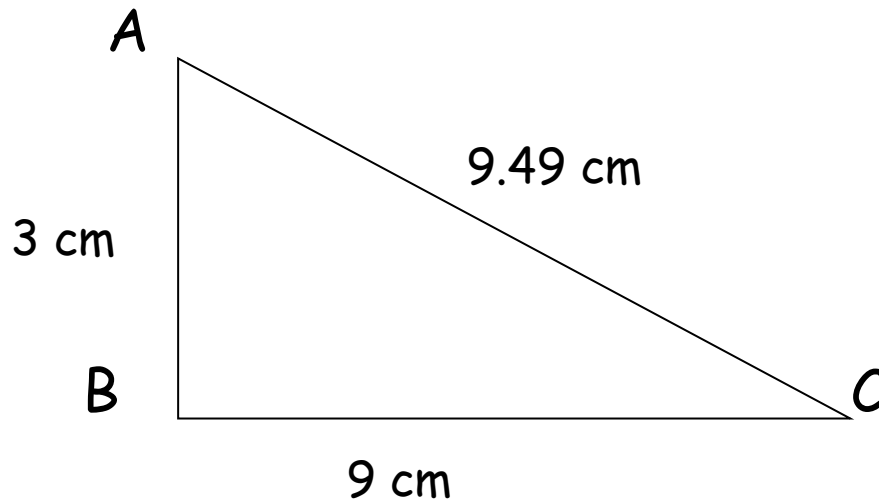
Le théorème de Pythagore.

le carré de l'hypoténuse	=	le carré d'un autre côté	+	le carré de l'autre côté
<input type="text"/>		<input type="text"/>		<input type="text"/>

Le théorème de Pythagore



Voici un triangle rectangle :




Complète le tableau avec les bonnes valeurs et vérifie le calcul.

Le théorème de Pythagore.

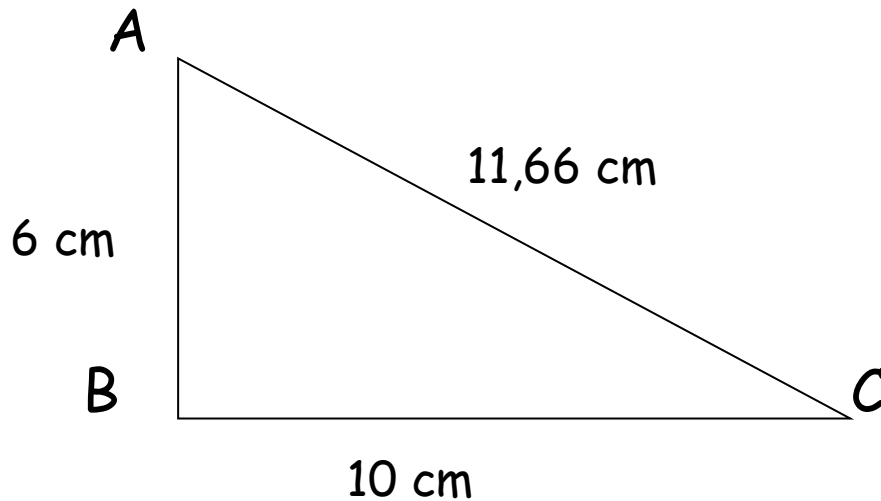
le carré de l'hypoténuse = le carré d'un autre côté + le carré de l'autre côté

--	--	--

Le théorème de Pythagore



Voici un triangle rectangle :




Complète le tableau avec les bonnes valeurs et vérifie le calcul.

Le théorème de Pythagore.

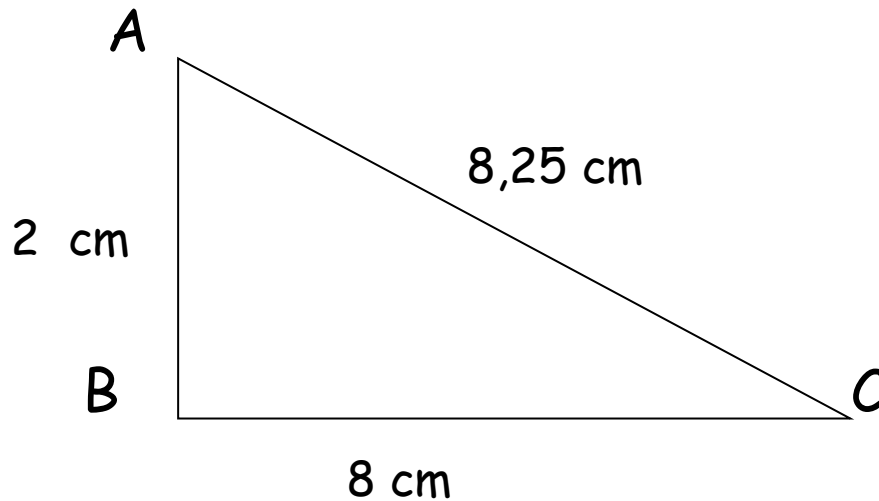
le carré de
l'hypoténuse = le carré d'un
 autre côté + le carré de
 l'autre côté

--	--	--	--	--

Le théorème de Pythagore



Voici un triangle rectangle :




Complète le tableau avec les bonnes valeurs et vérifie le calcul.

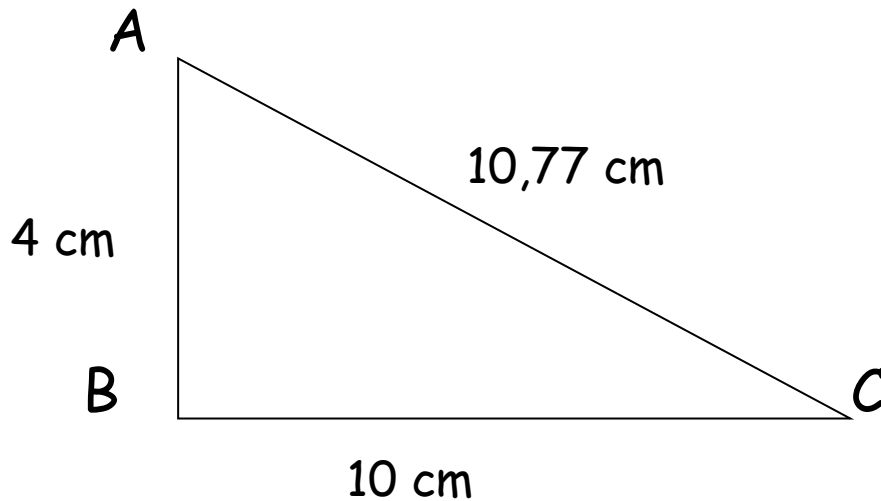
Le théorème de Pythagore.

le carré de l'hypoténuse	=	le carré d'un autre côté	+	le carré de l'autre côté
<input type="text"/>		<input type="text"/>		<input type="text"/>

Le théorème de Pythagore



Voici un triangle rectangle :



Complète le tableau avec les bonnes valeurs et vérifie le calcul.

Le théorème de Pythagore.

le carré de l'hypoténuse	=	le carré d'un autre côté	+	le carré de l'autre côté
<input type="text"/>		<input type="text"/>		<input type="text"/>