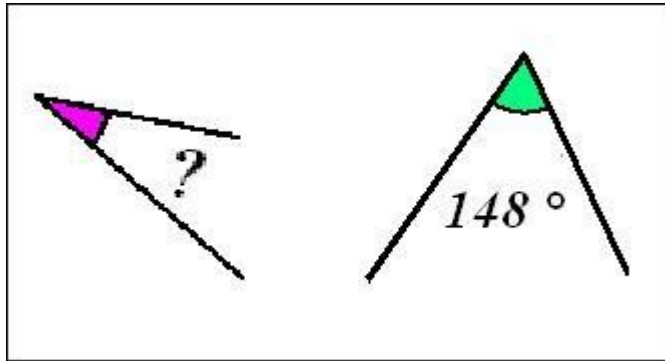


Les angles supplémentaires (série 2)

Deux angles **supplémentaires** sont deux angles dont la somme des mesures est égale à 180° .



Trouve la valeur de l'angle violet pour que les deux angles soient **supplémentaires**

L'angle vert mesure 136°

--	--	--	--	--

L'angle violet mesure

Trouve la valeur de l'angle violet pour que les deux angles soient **supplémentaires**

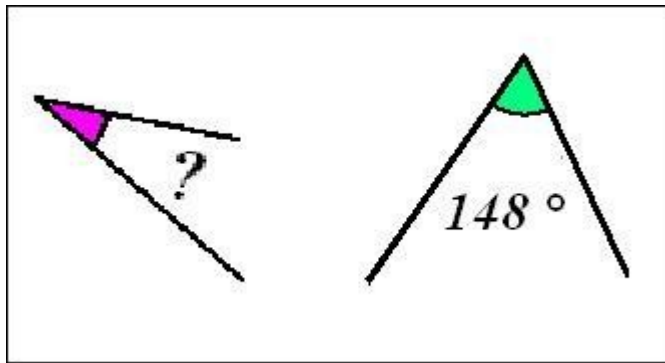
L'angle vert mesure 45°

--	--	--	--	--

L'angle violet mesure

Les angles supplémentaires (série 2)

Deux angles **supplémentaires** sont deux angles dont la somme des mesures est égale à 180° .



Trouve la valeur de l'angle violet pour que les deux angles soient **supplémentaires**

L'angle vert mesure 175°

--	--	--	--	--

L'angle violet mesure

Trouve la valeur de l'angle violet pour que les deux angles soient **supplémentaires**

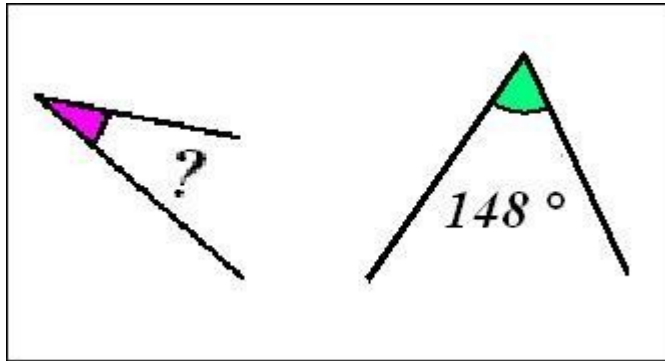
L'angle vert mesure 57°

--	--	--	--	--

L'angle violet mesure

Les angles supplémentaires (série 2)

Deux angles **supplémentaires** sont deux angles dont la somme des mesures est égale à 180° .



Trouve la valeur de l'angle violet pour que les deux angles soient **supplémentaires**

L'angle vert mesure 171°

--	--	--	--	--

L'angle violet mesure

Trouve la valeur de l'angle violet pour que les deux angles soient **supplémentaires**

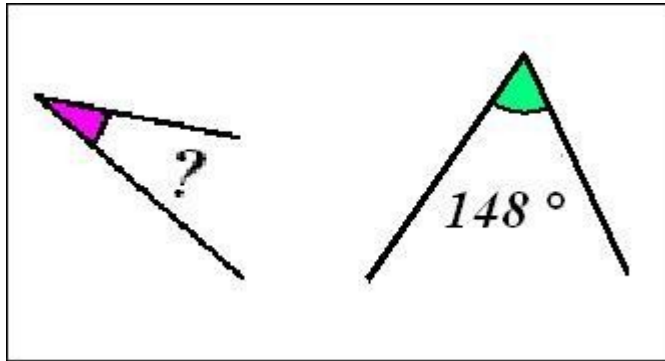
L'angle vert mesure 85°

--	--	--	--	--

L'angle violet mesure

Les angles supplémentaires (série 2)

Deux angles **supplémentaires** sont deux angles dont la somme des mesures est égale à 180° .



Trouve la valeur de l'angle violet pour que les deux angles soient **supplémentaires**

L'angle vert mesure 37°

--	--	--	--	--

L'angle violet mesure

Trouve la valeur de l'angle violet pour que les deux angles soient **supplémentaires**

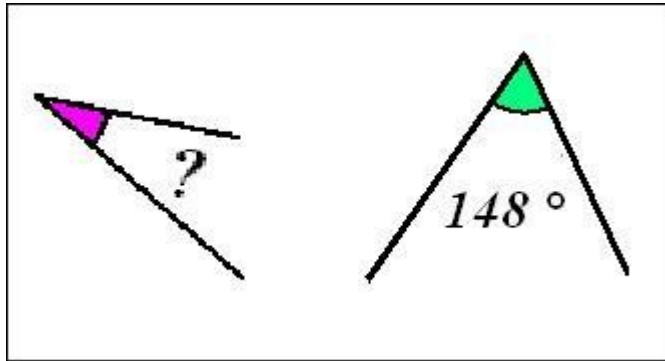
L'angle vert mesure 139°

--	--	--	--	--

L'angle violet mesure

Les angles supplémentaires (série 2)

Deux angles **supplémentaires** sont deux angles dont la somme des mesures est égale à 180° .



Trouve la valeur de l'angle violet pour que les deux angles soient **supplémentaires**

L'angle vert mesure 94°

--	--	--	--	--

L'angle violet mesure

Trouve la valeur de l'angle violet pour que les deux angles soient **supplémentaires**

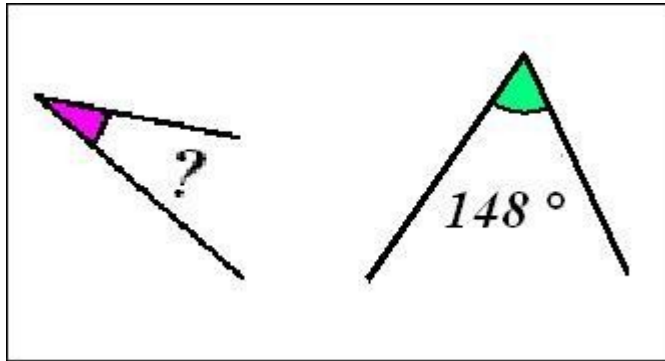
L'angle vert mesure 104°

--	--	--	--	--

L'angle violet mesure

Les angles supplémentaires (série 2)

Deux angles **supplémentaires** sont deux angles dont la somme des mesures est égale à 180° .



Trouve la valeur de l'angle violet pour que les deux angles soient **supplémentaires**

L'angle vert mesure 17°

--	--	--	--	--

L'angle violet mesure

Trouve la valeur de l'angle violet pour que les deux angles soient **supplémentaires**

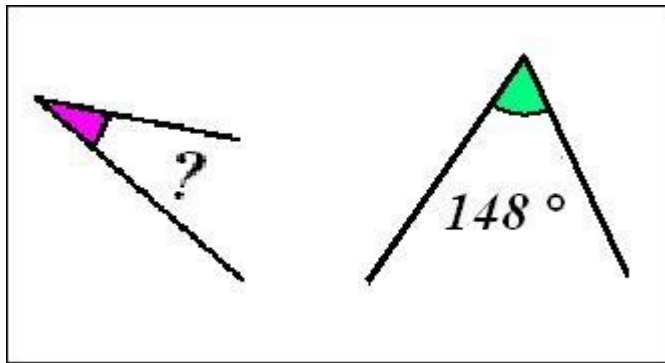
L'angle vert mesure 69°

--	--	--	--	--

L'angle violet mesure

Les angles supplémentaires (série 2)

Deux angles **supplémentaires** sont deux angles dont la somme des mesures est égale à 180° .



Trouve la valeur de l'angle violet pour que les deux angles soient **supplémentaires**

L'angle vert mesure 107°

--	--	--	--	--

L'angle violet mesure

Trouve la valeur de l'angle violet pour que les deux angles soient **supplémentaires**

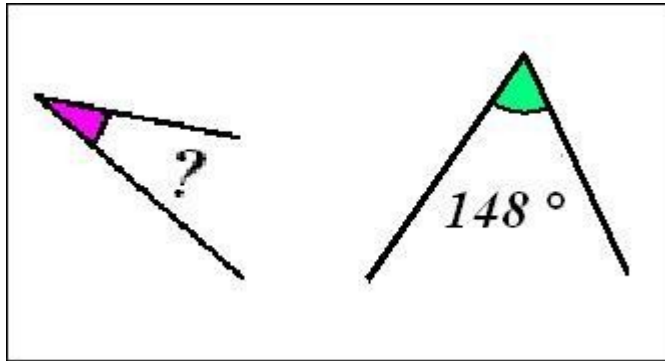
L'angle vert mesure 56°

--	--	--	--	--

L'angle violet mesure

Les angles supplémentaires (série 2)

Deux angles **supplémentaires** sont deux angles dont la somme des mesures est égale à 180° .



Trouve la valeur de l'angle violet pour que les deux angles soient **supplémentaires**

L'angle vert mesure 101°

--	--	--	--	--

L'angle violet mesure

Trouve la valeur de l'angle violet pour que les deux angles soient **supplémentaires**

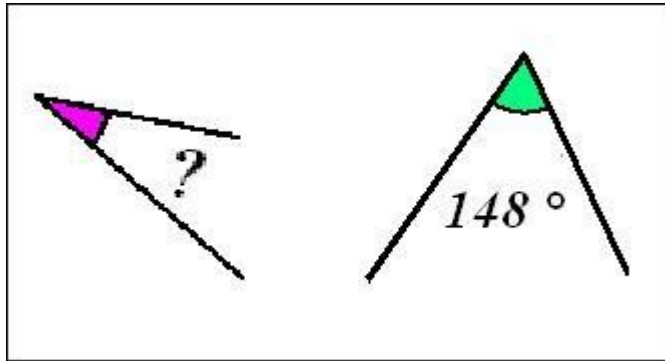
L'angle vert mesure 94°

--	--	--	--	--

L'angle violet mesure

Les angles supplémentaires (série 2)

Deux angles **supplémentaires** sont deux angles dont la somme des mesures est égale à 180° .



Trouve la valeur de l'angle violet pour que les deux angles soient **supplémentaires**

L'angle vert mesure 104°

--	--	--	--	--

L'angle violet mesure

Trouve la valeur de l'angle violet pour que les deux angles soient **supplémentaires**

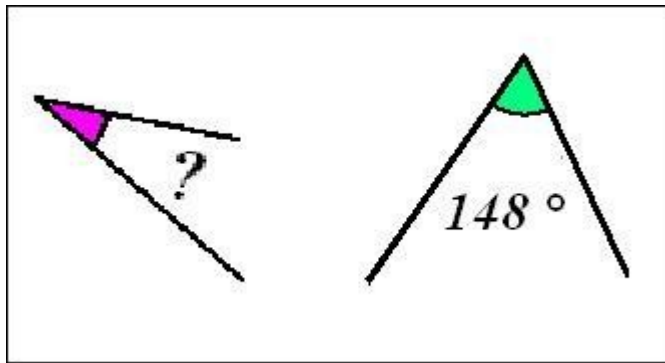
L'angle vert mesure 131°

--	--	--	--	--

L'angle violet mesure

Les angles supplémentaires (série 2)

Deux angles **supplémentaires** sont deux angles dont la somme des mesures est égale à 180° .



Trouve la valeur de l'angle violet pour que les deux angles soient **supplémentaires**

L'angle vert mesure 26°

--	--	--	--	--

L'angle violet mesure

Trouve la valeur de l'angle violet pour que les deux angles soient **supplémentaires**

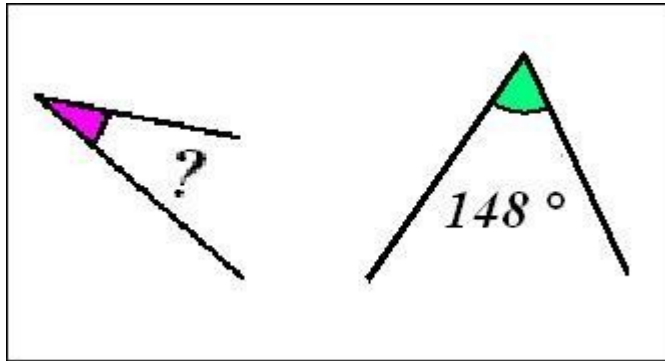
L'angle vert mesure 142°

--	--	--	--	--

L'angle violet mesure

Les angles supplémentaires (série 2)

Deux angles **supplémentaires** sont deux angles dont la somme des mesures est égale à 180° .



Trouve la valeur de l'angle violet pour que les deux angles soient **supplémentaires**

L'angle vert mesure 104°

--	--	--	--	--

L'angle violet mesure

Trouve la valeur de l'angle violet pour que les deux angles soient **supplémentaires**

L'angle vert mesure 56°

--	--	--	--	--

L'angle violet mesure