


Les aires

Trace sur le quadrillage ci-dessous des figures correspondant aux mesures suivantes :



$$A = 16 \text{ cm}^2 \quad B = 20 \text{ cm}^2 \quad C = 9 \text{ cm}^2 \quad D = 15 \text{ cm}^2$$




Les aires

Trace sur le quadrillage ci-dessous des figures correspondant aux mesures suivantes :



$$A = 3 \text{ cm}^2 \quad B = 10 \text{ cm}^2 \quad C = 36 \text{ cm}^2 \quad D = 24 \text{ cm}^2$$




Les aires

Trace sur le quadrillage ci-dessous des figures correspondant aux mesures suivantes :



$$A = 42 \text{ cm}^2 \quad B = 4 \text{ cm}^2 \quad C = 18 \text{ cm}^2 \quad D = 25 \text{ cm}^2$$




Les aires

Trace sur le quadrillage ci-dessous des figures correspondant aux mesures suivantes :



$$A = 6 \text{ cm}^2 \quad B = 30 \text{ cm}^2 \quad C = 27 \text{ cm}^2 \quad D = 8 \text{ cm}^2$$




Les aires

Trace sur le quadrillage ci-dessous des figures correspondant aux mesures suivantes :



$$A = 35 \text{ cm}^2 \quad B = 16 \text{ cm}^2 \quad C = 8 \text{ cm}^2 \quad D = 12 \text{ cm}^2$$




Les aires

Trace sur le quadrillage ci-dessous des figures correspondant aux mesures suivantes :



$$A = 18 \text{ cm}^2 \quad B = 21 \text{ cm}^2 \quad C = 2 \text{ cm}^2 \quad D = 32 \text{ cm}^2$$




Les aires

Trace sur le quadrillage ci-dessous des figures correspondant aux mesures suivantes :



$$A = 48 \text{ cm}^2 \quad B = 12 \text{ cm}^2 \quad C = 9 \text{ cm}^2 \quad D = 28 \text{ cm}^2$$




Les aires

Trace sur le quadrillage ci-dessous des figures correspondant aux mesures suivantes :



$$A = 32 \text{ cm}^2 \quad B = 8 \text{ cm}^2 \quad C = 20 \text{ cm}^2 \quad D = 15 \text{ cm}^2$$




Les aires

Trace sur le quadrillage ci-dessous des figures correspondant aux mesures suivantes :



$$A = 5 \text{ cm}^2 \quad B = 25 \text{ cm}^2 \quad C = 14 \text{ cm}^2 \quad D = 48 \text{ cm}^2$$




Les aires

Trace sur le quadrillage ci-dessous des figures correspondant aux mesures suivantes :



$$A = 24 \text{ cm}^2 \quad B = 18 \text{ cm}^2 \quad C = 10 \text{ cm}^2 \quad D = 30 \text{ cm}^2$$




Les aires

Trace sur le quadrillage ci-dessous des figures correspondant aux mesures suivantes :



$$A = 35 \text{ cm}^2 \quad B = 30 \text{ cm}^2 \quad C = 18 \text{ cm}^2 \quad D = 12 \text{ cm}^2$$



Les aires

Trace sur le quadrillage ci-dessous des figures correspondant aux mesures suivantes :



$$A = 6 \text{ cm}^2 \quad B = 15 \text{ cm}^2 \quad C = 40 \text{ cm}^2 \quad D = 36 \text{ cm}^2$$

