


Calcul la longueur d'un rectangle.

Un rectangle a pour largeur 2cm et pour périmètre 11cm. Combien mesure sa longueur ?




Calcul la longueur d'un rectangle.

Un rectangle a pour largeur 8 cm et pour périmètre 36 cm. Combien mesure sa longueur ?



Calcul la longueur d'un rectangle.

Un rectangle a pour largeur 8 cm et pour périmètre 40 cm. Combien mesure sa longueur ?




Calcul la longueur d'un rectangle.

Un rectangle a pour largeur 2 cm et pour périmètre 22 cm. Combien mesure sa longueur ?



Calcul la longueur d'un rectangle.

Un rectangle a pour largeur 5 cm et pour périmètre 36 cm. Combien mesure sa longueur ?




Calcul la longueur d'un rectangle.

Un rectangle a pour largeur 13 cm et pour périmètre 76 cm. Combien mesure sa longueur ?



Calcul la longueur d'un rectangle.

Un rectangle a pour largeur 8 cm et pour périmètre 50cm. Combien mesure sa longueur ?



Calcul la longueur d'un rectangle.

Un rectangle a pour largeur 7 cm et pour périmètre 58 cm. Combien mesure sa longueur ?



Calcul la longueur d'un rectangle.

Un rectangle a pour largeur 12 cm et pour périmètre 94 cm. Combien mesure sa longueur ?




Calcul la longueur d'un rectangle.

Un rectangle a pour largeur 3 cm et pour périmètre 22 cm. Combien mesure sa longueur ?



Calcul la longueur d'un rectangle.

Un rectangle a pour largeur 5 cm et pour périmètre 28 cm. Combien mesure sa longueur ?




Calcul la longueur d'un rectangle.

Un rectangle a pour largeur 10 cm et pour périmètre 52 cm. Combien mesure sa longueur ?



Calcul la longueur d'un rectangle.

Un rectangle a pour largeur 2 cm et pour périmètre 19 cm. Combien mesure sa longueur ?




Calcul la longueur d'un rectangle.

Un rectangle a pour largeur 4 cm et pour périmètre 27 cm. Combien mesure sa longueur ?



Calcul la longueur d'un rectangle.

Un rectangle a pour largeur 5 cm et pour périmètre 46 cm. Combien mesure sa longueur ?



Calcul la longueur d'un rectangle.

Un rectangle a pour largeur 4 cm et pour périmètre 25 cm. Combien mesure sa longueur ?






Calcul la longueur d'un rectangle.

Un rectangle a pour largeur 9 cm et pour périmètre 48 cm. Combien mesure sa longueur ?




Calcul la longueur d'un rectangle.

Un rectangle a pour largeur 7 cm et pour périmètre 58 cm. Combien mesure sa longueur ?



Calcul la longueur d'un rectangle.

Un rectangle a pour largeur 24 cm et pour périmètre 118 cm. Combien mesure sa longueur ?




Calcul la longueur d'un rectangle.

Un rectangle a pour largeur 15 cm et pour périmètre 114 cm. Combien mesure sa longueur ?



Calcul la longueur d'un rectangle.

Un rectangle a pour largeur 12 cm et pour périmètre 80 cm. Combien mesure sa longueur ?




Calcul la longueur d'un rectangle.

Un rectangle a pour largeur 8 cm et pour périmètre 42 cm. Combien mesure sa longueur ?



Calcul la longueur d'un rectangle.

Un rectangle a pour largeur 19 cm et pour périmètre 94 cm. Combien mesure sa longueur ?



Calcul la longueur d'un rectangle.

Un rectangle a pour largeur 15 cm et pour périmètre 102 cm. Combien mesure sa longueur ?

