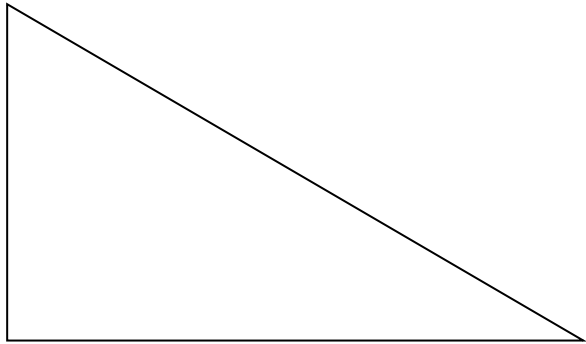


Le périmètre du triangle

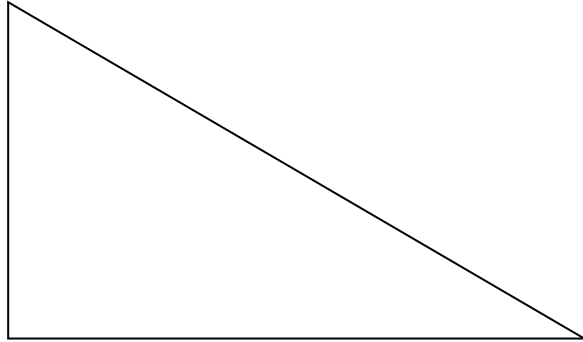


Le triangle ABC a pour mesure $AB = 5\text{cm}$; $BC = 4\text{dm}$
et $AC = 12\text{ mm}$

Quel est le périmètre du triangle ABC ?

Le périmètre du triangle est de

Le périmètre du triangle

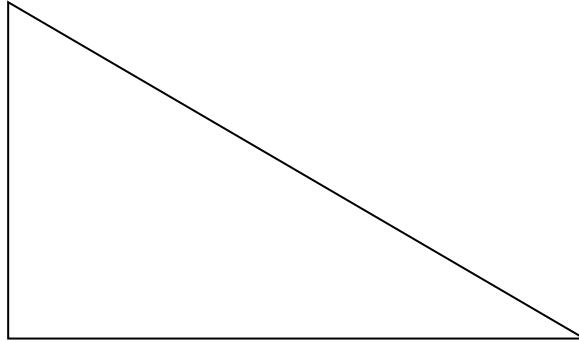


Le triangle ABC a pour mesure $AB = 24 \text{ mm}$; $BC = 6 \text{ dm}$ et $AC = 9 \text{ cm}$

Quel est le périmètre du triangle ABC ?

Le périmètre du triangle est de

Le périmètre du triangle

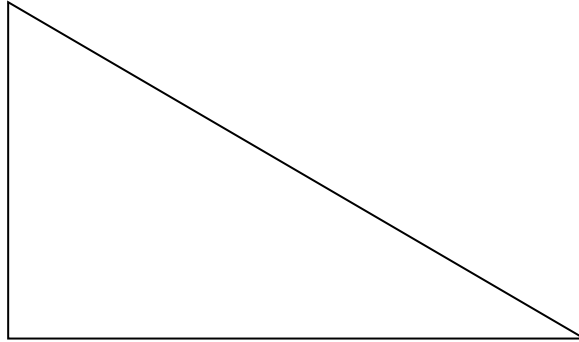


Le triangle ABC a pour mesure $AB = 14$ dam ; $BC = 56$ m et $AC = 0,5$ km

Quel est le périmètre du triangle ABC ?

Le périmètre du triangle est de

Le périmètre du triangle

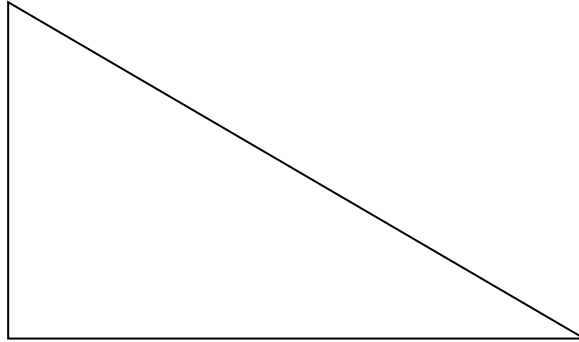


Le triangle ABC a pour mesure $AB = 20$ m ; $BC = 125$ dm et $AC = 3$ dam.

Quel est le périmètre du triangle ABC ?

Le périmètre du triangle est de

Le périmètre du triangle

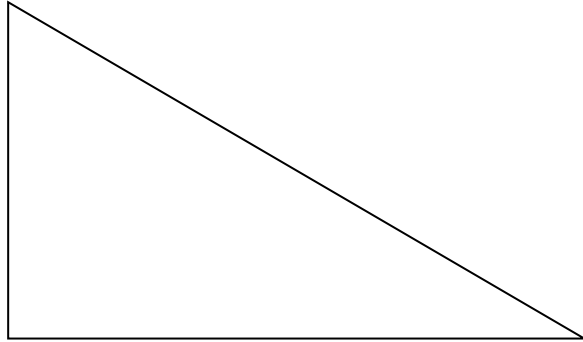


Le triangle ABC a pour mesure $AB = 18 \text{ mm}$; $BC = 0,6 \text{ dm}$ et $AC = 1,7 \text{ cm}$.

Quel est le périmètre du triangle ABC ?

Le périmètre du triangle est de

Le périmètre du triangle

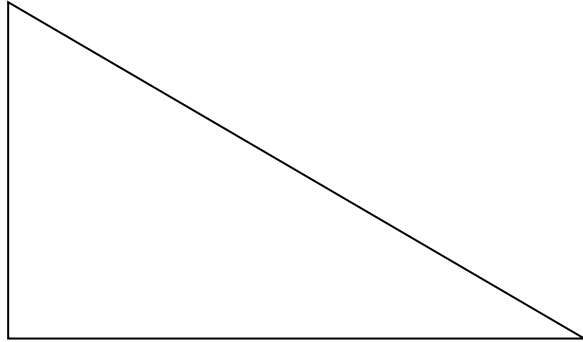


Le triangle ABC a pour mesure $AB = 36$ dam; $BC = 54$ m et $AC = 470$ cm

Quel est le périmètre du triangle ABC ?

Le périmètre du triangle est de

Le périmètre du triangle

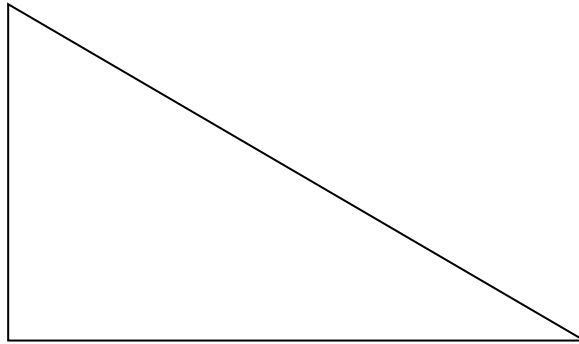


Le triangle ABC a pour mesure $AB = 280$ cm ; $BC = 5,6$ m et $AC = 3,6$ dm

Quel est le périmètre du triangle ABC ?

Le périmètre du triangle est de

Le périmètre du triangle

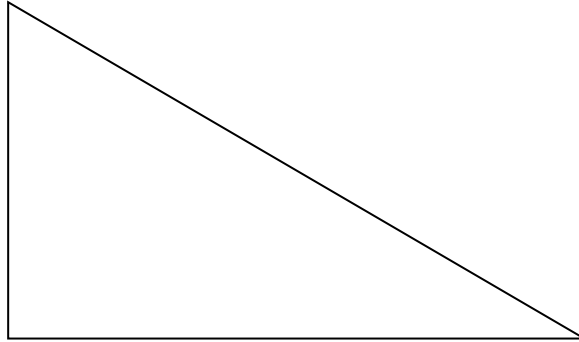


Le triangle ABC a pour mesure $AB = 56$ m; $BC = 1$ dam et $AC = 0,7$ hm.

Quel est le périmètre du triangle ABC ?

Le périmètre du triangle est de

Le périmètre du triangle

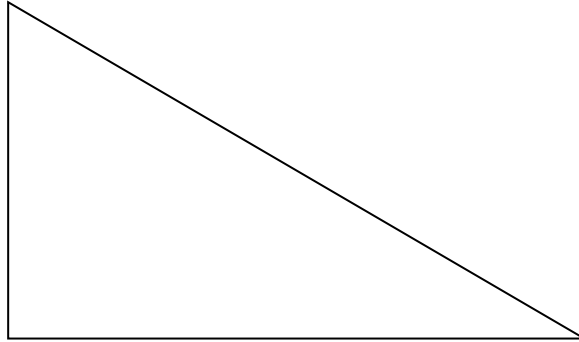


Le triangle ABC a pour mesure $AB = 8 \text{ cm}$; $BC = 0,9 \text{ m}$
et $AC = 154 \text{ mm}$

Quel est le périmètre du triangle ABC ?

Le périmètre du triangle est de

Le périmètre du triangle

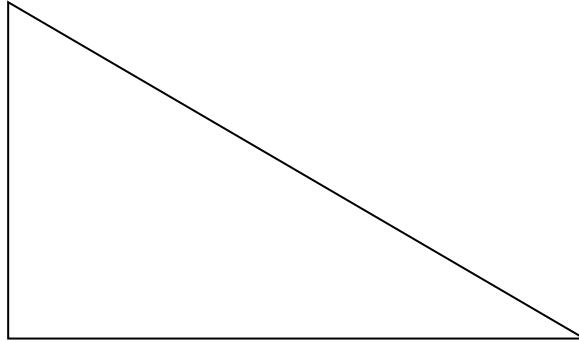


Le triangle ABC a pour mesure $AB = 18 \text{ dm}$; $BC = 520 \text{ mm}$ et $AC = 0,65 \text{ m}$

Quel est le périmètre du triangle ABC ?

Le périmètre du triangle est de

Le périmètre du triangle

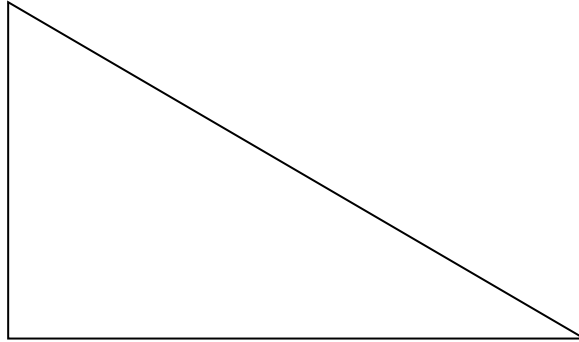


Le triangle ABC a pour mesure $AB = 36$ mm ; $BC = 250$ mm et $AC = 0,14$ m

Quel est le périmètre du triangle ABC ?

Le périmètre du triangle est de

Le périmètre du triangle



Le triangle ABC a pour mesure $AB = 58$ hm ; $BC = 140$ m et $AC = 69$ dam

Quel est le périmètre du triangle ABC ?

Le périmètre du triangle est de