



Comparaison de durées



Voici les durées d'un parcours effectué par deux coureurs cyclistes. Qui a mis le moins de temps ?


		
Laurent		
Heure	Minutes	secondes
02	58	40

		
Bernard		
Heure	Minutes	secondes
03	02	20

C'est qui a mis le moins de temps.
Donc, il a gagné la course.



Voici les durées d'un parcours effectué par deux coureurs cyclistes. Qui a mis le moins de temps ?

		
Paul		
Heure	Minutes	secondes
05	32	45


		
Léon		
Heure	Minutes	secondes
05	18	59


C'est qui a mis le moins de temps.
Donc, il a gagné la course.

Comparaison de durées



Voici les durées d'un parcours effectué par deux coureurs cyclistes. Qui a mis le moins de temps ?


			Nino		
Heure	Minutes	secondes	Heure	Minutes	secondes
03	20	04	03	20	40


			Thibaut		
Heure	Minutes	secondes	Heure	Minutes	secondes
03	20	40	03	20	40

C'est qui a mis le moins de temps.
Donc, il a gagné la course.



Voici les durées d'un parcours effectué par deux coureurs cyclistes. Qui a mis le moins de temps ?

			Yannick		
Heure	Minutes	secondes	Heure	Minutes	secondes
01	57	30	01	59	23

			Loïc		
Heure	Minutes	secondes	Heure	Minutes	secondes
01	59	23	01	59	23


C'est qui a mis le moins de temps.
Donc, il a gagné la course.

Comparaison de durées



Voici les durées d'un parcours effectué par deux coureurs cyclistes. Qui a mis le moins de temps ?


	Pascal	
Heure	Minutes	secondes
02	41	20


	Hugues	
Heure	Minutes	secondes
03	25	52

C'est qui a mis le moins de temps.
Donc, il a gagné la course.



Voici les durées d'un parcours effectué par deux coureurs cyclistes. Qui a mis le moins de temps ?

	François	
Heure	Minutes	secondes
01	28	45


	Lysian	
Heure	Minutes	secondes
01	04	18


C'est qui a mis le moins de temps.
Donc, il a gagné la course.

Comparaison de durées



Voici les durées d'un parcours effectué par deux coureurs cyclistes. Qui a mis le moins de temps ?

	Robin	
Heure	Minutes	secondes
02	03	40


	Hervé	
Heure	Minutes	secondes
02	05	50

C'est qui a mis le moins de temps.
Donc, il a gagné la course.



Voici les durées d'un parcours effectué par deux coureurs cyclistes. Qui a mis le moins de temps ?

	Maxime	
Heure	Minutes	secondes
02	23	25


	Gérald	
Heure	Minutes	secondes
02	22	46


C'est qui a mis le moins de temps.
Donc, il a gagné la course.

Comparaison de durées



Voici les durées d'un parcours effectué par deux coureurs cyclistes. Qui a mis le moins de temps ?


			Camille		
Heure	Minutes	secondes	Heure	Minutes	secondes
02	44	54	04	01	25


			Jean		
Heure	Minutes	secondes	Heure	Minutes	secondes
02	44	54	04	01	25

C'est qui a mis le moins de temps.
Donc, il a gagné la course.



Voici les durées d'un parcours effectué par deux coureurs cyclistes. Qui a mis le moins de temps ?

			Jules		
Heure	Minutes	secondes	Heure	Minutes	secondes
02	05	50	02	08	40


			André		
Heure	Minutes	secondes	Heure	Minutes	secondes
02	05	50	02	08	40


C'est qui a mis le moins de temps.
Donc, il a gagné la course.

Comparaison de durées



Voici les durées d'un parcours effectué par deux coureurs cyclistes. Qui a mis le moins de temps ?


			Henri		
Heure	Minutes	secondes	Heure	Minutes	secondes
04	00	49			


			Quentin		
Heure	Minutes	secondes	Heure	Minutes	secondes
03	52	40			

C'est qui a mis le moins de temps.
Donc, il a gagné la course.



Voici les durées d'un parcours effectué par deux coureurs cyclistes. Qui a mis le moins de temps ?

			Joël		
Heure	Minutes	secondes	Heure	Minutes	secondes
04	26	23			

			Louis		
Heure	Minutes	secondes	Heure	Minutes	secondes
05	13	50			


C'est qui a mis le moins de temps.
Donc, il a gagné la course.

Comparaison de durées



Voici les durées d'un parcours effectué par deux coureurs cyclistes. Qui a mis le moins de temps ?


	Alain	
Heure	Minutes	secondes
05	18	46


	Thierry	
Heure	Minutes	secondes
02	34	25

C'est qui a mis le moins de temps.
Donc, il a gagné la course.



Voici les durées d'un parcours effectué par deux coureurs cyclistes. Qui a mis le moins de temps ?

	Frédéric	
Heure	Minutes	secondes
02	52	25


	Roland	
Heure	Minutes	secondes
02	34	48


C'est qui a mis le moins de temps.
Donc, il a gagné la course.

Comparaison de durées



Voici les durées d'un parcours effectué par deux coureurs cyclistes. Qui a mis le moins de temps ?


	Xavier	
Heure	Minutes	secondes
01	18	23

	Patrick	
Heure	Minutes	secondes
01	13	50

C'est qui a mis le moins de temps.
Donc, il a gagné la course.



Voici les durées d'un parcours effectué par deux coureurs cyclistes. Qui a mis le moins de temps ?

	Christophe	
Heure	Minutes	secondes
04	14	10


	Nicolas	
Heure	Minutes	secondes
04	16	15


C'est qui a mis le moins de temps.
Donc, il a gagné la course.

Comparaison de durées



Voici les durées d'un parcours effectué par deux coureurs cyclistes. Qui a mis le moins de temps ?

	Vincent	
Heure	Minutes	secondes
03	05	25


	Jonathan	
Heure	Minutes	secondes
03	07	10

C'est qui a mis le moins de temps.
Donc, il a gagné la course.



Voici les durées d'un parcours effectué par deux coureurs cyclistes. Qui a mis le moins de temps ?

	Adrien	
Heure	Minutes	secondes
02	23	45


	Sylvain	
Heure	Minutes	secondes
02	21	40


C'est qui a mis le moins de temps.
Donc, il a gagné la course.

Comparaison de durées



Voici les durées d'un parcours effectué par deux coureurs cyclistes. Qui a mis le moins de temps ?


			Hugo		
Heure	Minutes	secondes	Heure	Minutes	secondes
01	08	15	01	08	12

			Paul		
Heure	Minutes	secondes	Heure	Minutes	secondes
01	08	12	01	08	12

C'est qui a mis le moins de temps.
Donc, il a gagné la course.



Voici les durées d'un parcours effectué par deux coureurs cyclistes. Qui a mis le moins de temps ?

			Etienne		
Heure	Minutes	secondes	Heure	Minutes	secondes
01	42	56	01	36	28

			Aurélien		
Heure	Minutes	secondes	Heure	Minutes	secondes
01	36	28	01	36	28


C'est qui a mis le moins de temps.
Donc, il a gagné la course.

Comparaison de durées



Voici les durées d'un parcours effectué par deux coureurs cyclistes. Qui a mis le moins de temps ?

		
Anselme		
Heure	Minutes	secondes
03	28	46


		
Bruno		
Heure	Minutes	secondes
03	15	18

C'est qui a mis le moins de temps.
Donc, il a gagné la course.



Voici les durées d'un parcours effectué par deux coureurs cyclistes. Qui a mis le moins de temps ?

		
Daniel		
Heure	Minutes	secondes
01	20	53


		
Olivier		
Heure	Minutes	secondes
02	35	42


C'est qui a mis le moins de temps.
Donc, il a gagné la course.

Comparaison de durées



Voici les durées d'un parcours effectué par deux coureurs cyclistes. Qui a mis le moins de temps ?


			Jean-Pierre		
Heure	Minutes	secondes	Heure	Minutes	secondes
02	46	27			


			Benoit		
Heure	Minutes	secondes	Heure	Minutes	secondes
02	46	38			

C'est qui a mis le moins de temps.
Donc, il a gagné la course.



Voici les durées d'un parcours effectué par deux coureurs cyclistes. Qui a mis le moins de temps ?

			Raymond		
Heure	Minutes	secondes	Heure	Minutes	secondes
01	12	18			

			Luc		
Heure	Minutes	secondes	Heure	Minutes	secondes
01	04	18			

C'est qui a mis le moins de temps.
Donc, il a gagné la course.