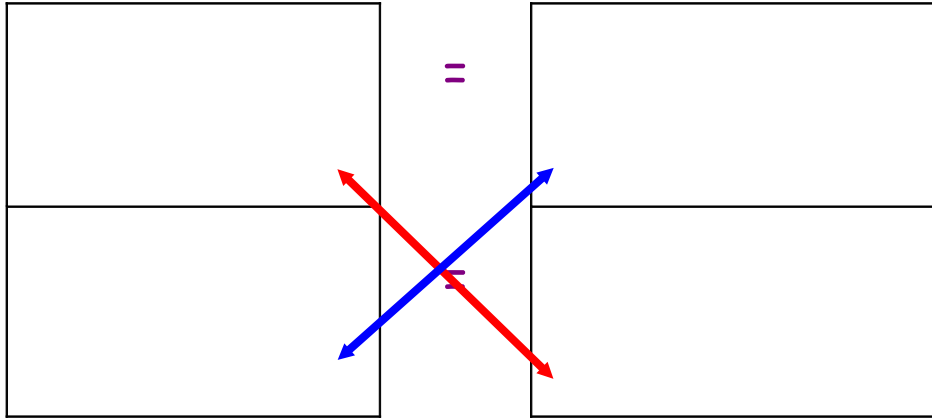




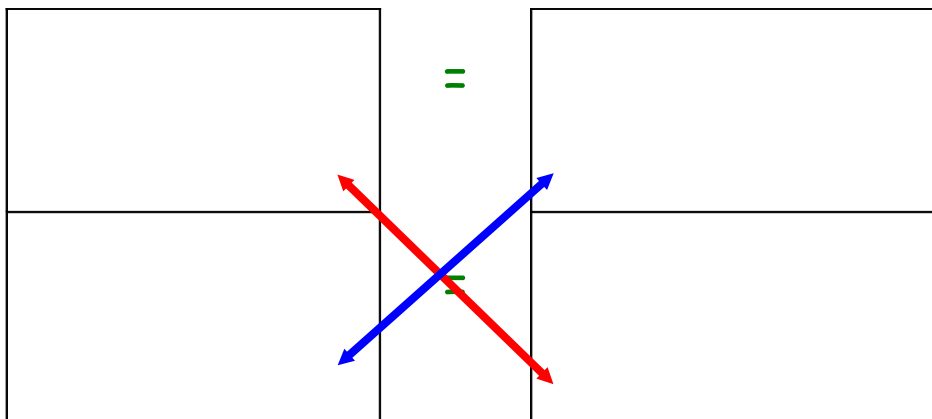
Calculer un pourcentage.

Dans une classe de 24 élèves, il y a 18 filles.  
Quel pourcentage des élèves sont des filles ?



Il y a .....% de filles dans cette classe.

Dans une caisse de 1000 œufs, il y en a 250 de cassés.  
Quel pourcentage d'œufs est cassé ?

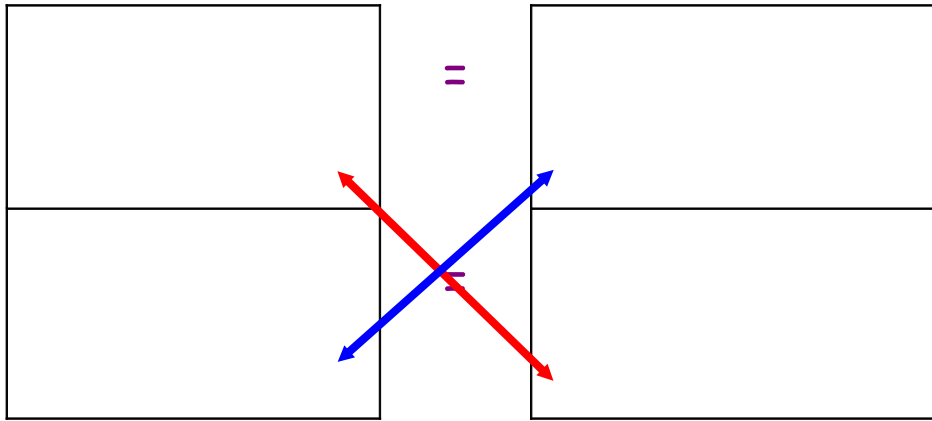


Il y a .....% d'œufs cassés dans cette caisse.



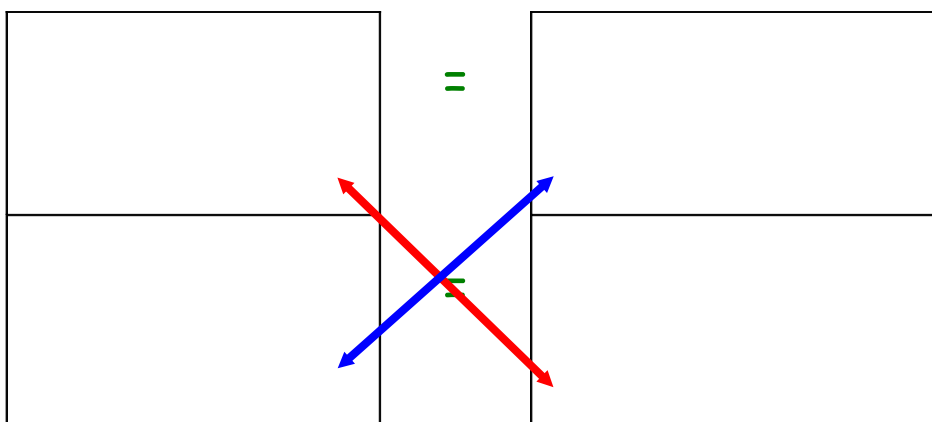
## Calculer un pourcentage.

Dans un lot de 50 livres, il y a 18 bandes dessinées. Quel pourcentage de livres est des bandes dessinées ?



Il y a .....% de bandes dessinées dans ce lot.

Dans ce groupe de 200 touristes, 48 ont des lunettes. Quel pourcentage de touriste a des lunettes ?



Il y a .....% de touristes a des lunettes.



## Calculer un pourcentage.

Dans un lot de 280 billes, 28 sont en terre.  
Quel pourcentage de billes est en terre ?

	=	

Il y a .....% de billes en terre.

Dans un groupe de 54 personnes, 9 ont des cheveux  
blonds. Quel pourcentage de personnes a des cheveux  
blonds ?

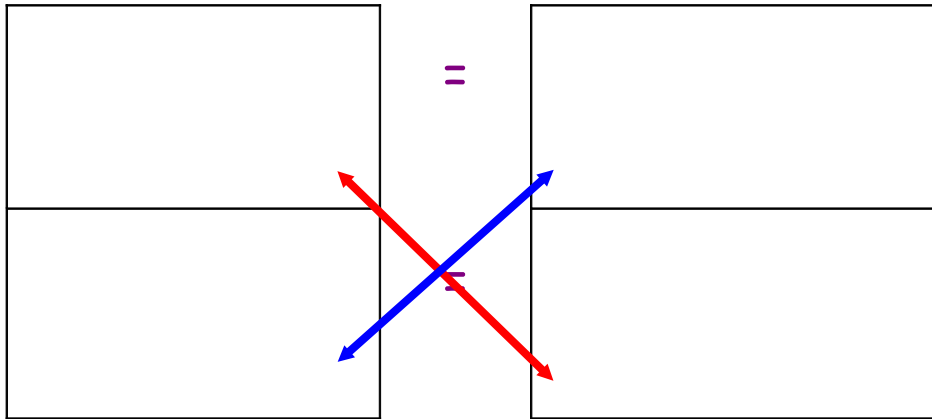
	=	

Il y a .....% de personnes qui ont des cheveux blonds.



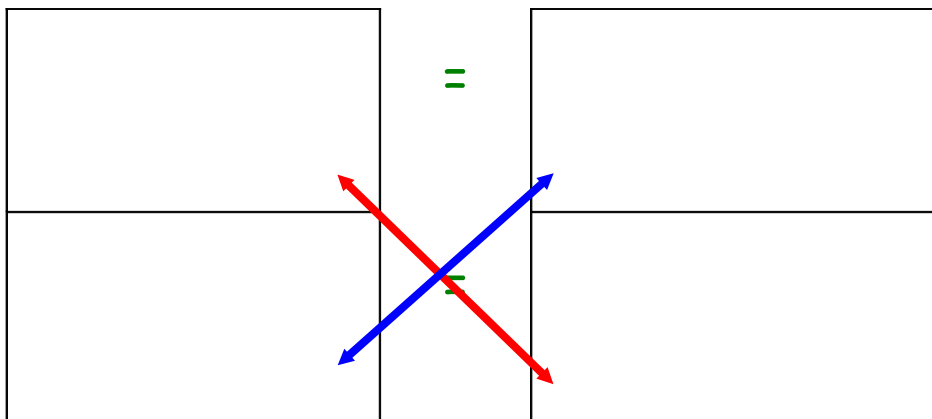
## Calculer un pourcentage.

Dans ce village de 300 personnes, 5 personnes jouent de la trompette. Quel pourcentage de personnes joue de la trompette ?



Il y a .....% de personnes qui jouent de la trompette.

Dans ma chambre, il y a 48 voitures dont 6 sont rouges. Quel pourcentage de voitures est rouge ?

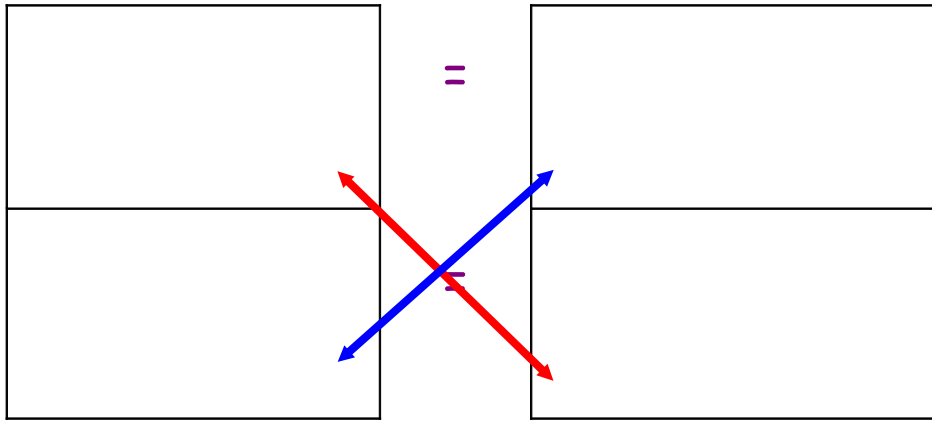


Il y a .....% de voitures rouges.



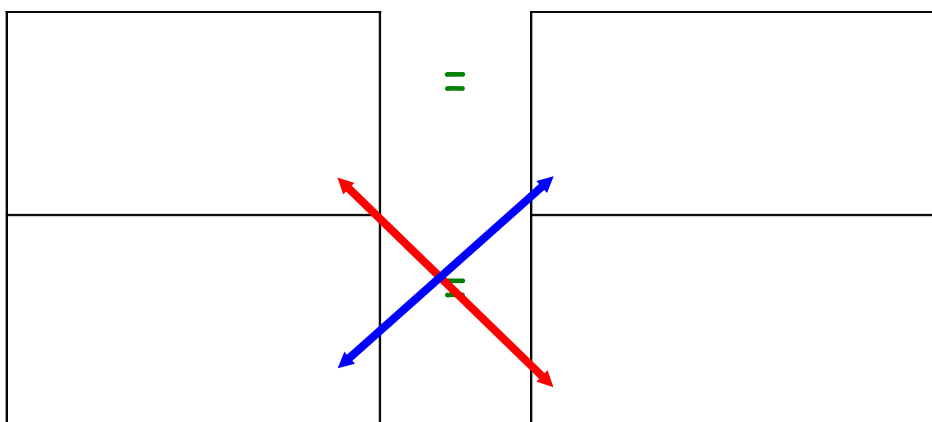
Calculer un pourcentage.

Sur les 12 hommes de ce groupe, 4 ont une barbe. Quel pourcentage d'hommes a une barbe ?



Il y a .....% d'hommes ont une barbe dans ce groupe.

Dans le poulailler, il y a 15 poules dont 5 sont noires. Quel pourcentage de poules est noir ?

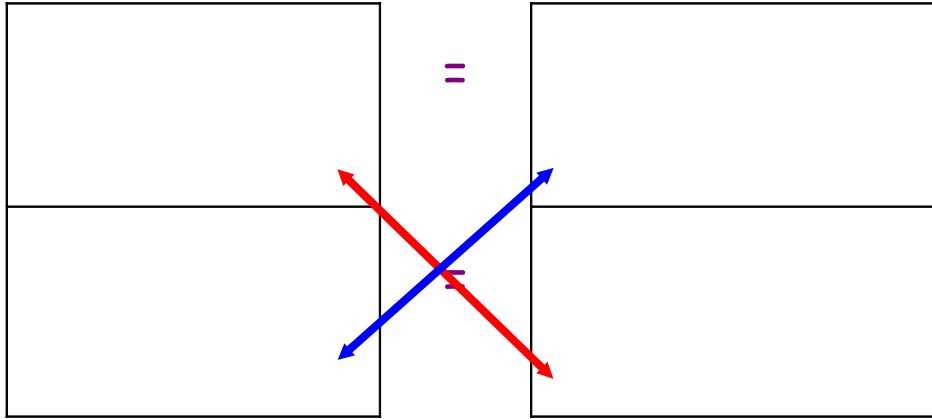


Il y a .....% de poules noires dans le poulailler.



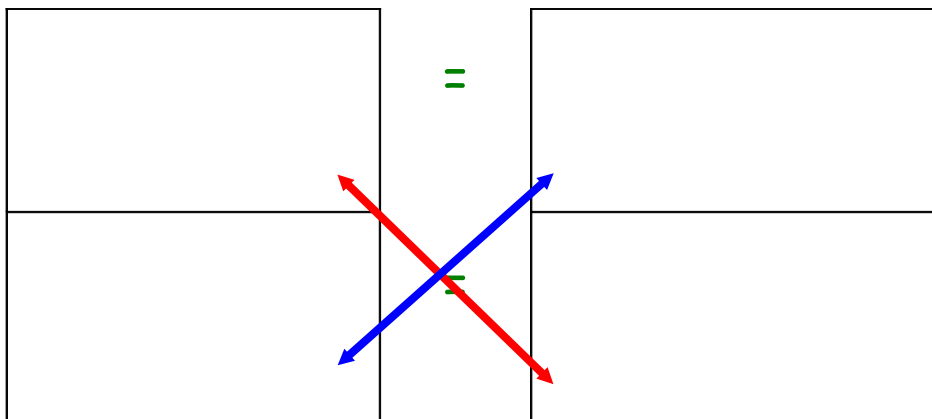
Calculer un pourcentage.

Dans le verger, il y a 16 arbres dont 4 sont des poiriers. Quels pourcentages d'arbres sont des poiriers ?



Il y a .....% d'arbres sont des poiriers.

Dans cet orchestre de 90 musiciens, 15 jouent du violon. Quel pourcentage de musiciens joue du violon?

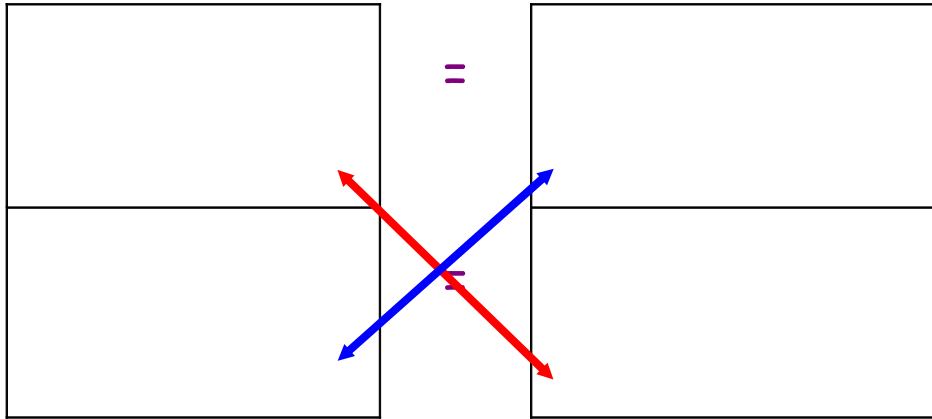


Il y a .....% de musiciens jouent du violon.



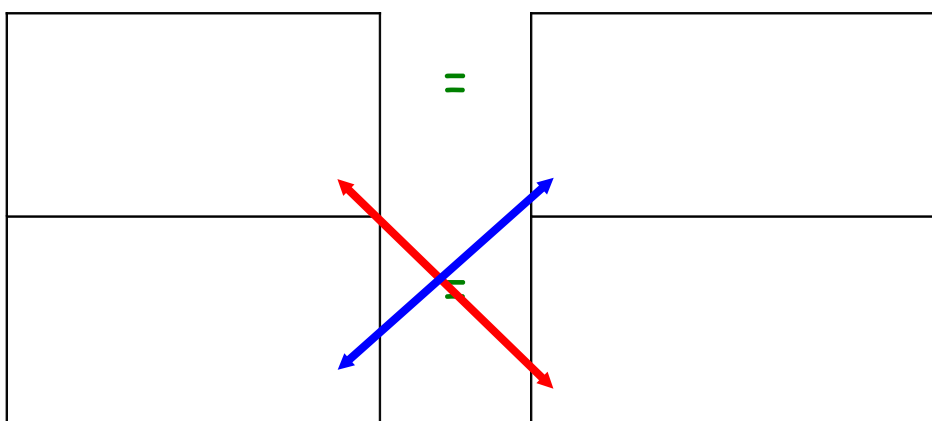
## Calculer un pourcentage.

Dans les 15kg de pommes de terre, 3 kg sont germées. Quel pourcentage de pommes de terre est germé ?



Il y a .....% de pommes de terre ont germé.

Dans un groupe de 33 élèves, 11 ont choisi de faire de l'allemand au collège. Quel pourcentage d'élèves a choisi de faire de l'allemand ?

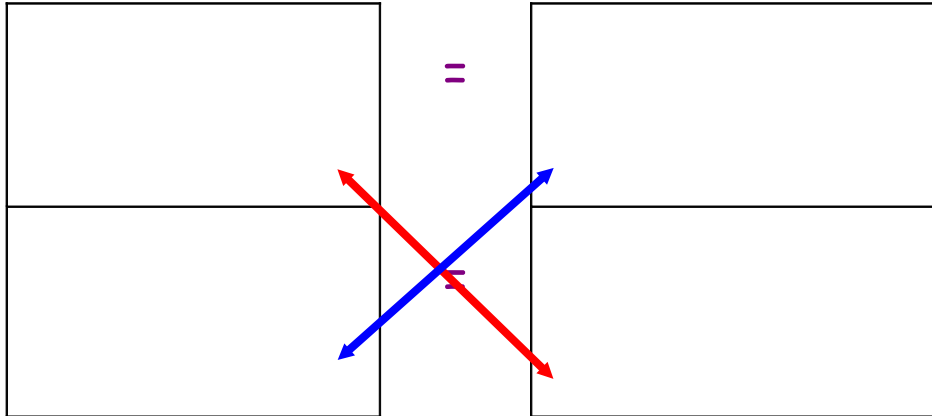


Il y a .....% d'élèves qui ont choisi de faire de l'allemand.



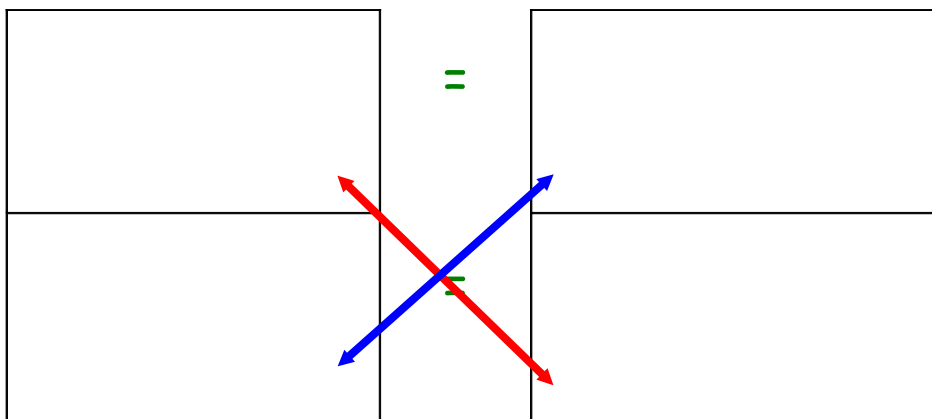
## Calculer un pourcentage.

Sur les 360 brebis, 60 ont la tête noire.  
Quel pourcentage de brebis a la tête noire ?



Il y a .....% de brebis ont la tête noire.

Mélanie a 60 chevaux dont 3 sont des mâles. Quels pourcentages de chevaux sont des mâles ?



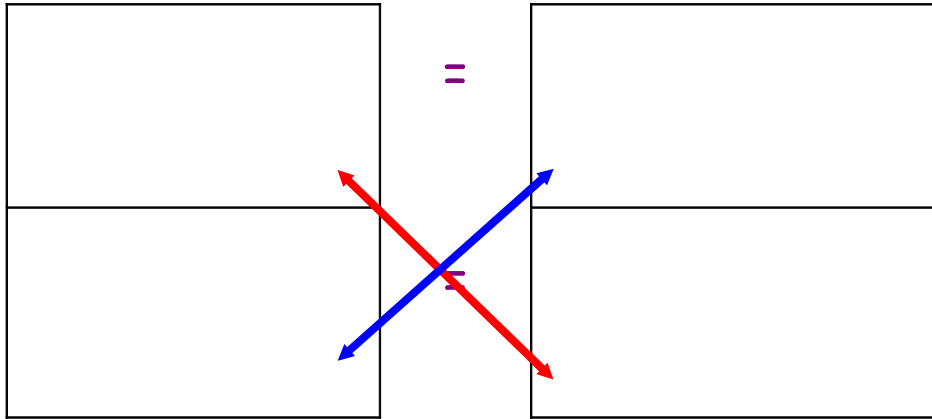
Il y a .....% de chevaux qui sont des mâles.





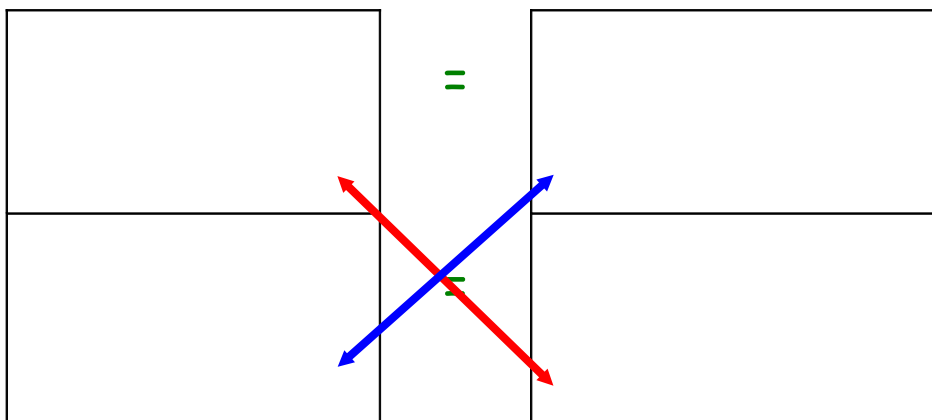
## Calculer un pourcentage.

Dans ce groupe de 81 comédiens, 9 ont mis un chapeau. Quel pourcentage de comédiens a un chapeau ?



Il y a .....% de comédiens ont un chapeau.

Dans le porte-monnaie de Lucie, il y a 32 pièces dont 4 sont des pièces de 50ct. Quels pourcentages de pièces sont des pièces de 50ct ?



Il y a .....% de pièces qui sont des pièces de 50ct.